

Question Paper Preview

Notations :

- Options shown in green color and with ✓ icon are correct.
- Options shown in red color and with ✗ icon are incorrect.

Question Paper Name:	TGT SOCIAL SCIENCE FEMALE 16th Oct 2018 Shift 3
Subject Name:	TGT SOCIAL SCIENCE FEMALE
Creation Date:	2018-10-16 19:26:41
Duration:	120
Total Marks:	200
Display Marks:	Yes
Share Answer Key With Delivery Engine:	Yes
Actual Answer Key:	Yes
Calculator:	None
Magnifying Glass Required?:	No
Ruler Required?:	No
Eraser Required?:	No
Scratch Pad Required?:	No
Rough Sketch/Notepad Required?:	No
Protractor Required?:	No
Show Watermark on Console?:	No
Highlighter:	No
Auto Save on Console?:	No

Mental Ability

Group Number :	1
Group Id :	167943744
Group Maximum Duration :	0
Group Minimum Duration :	0
Revisit allowed for view? :	No
Revisit allowed for edit? :	No
Break time:	0
Group Marks:	20
Revisit allowed for group Instructions? :	Yes
Maximum Instruction Time:	0
Minimum Instruction Time:	0

Mental Ability

Section Id :	167943809
Section Number :	1
Section type :	Online
Mandatory or Optional:	Mandatory
Number of Questions:	20
Number of Questions to be attempted:	20
Section Marks:	20

Display Number Panel:
Group All Questions:

Yes
No

Sub-Section Number:

1

Sub-Section Id:

1679431247

Question Shuffling Allowed :

Yes

Question Number : 1 Question Id : 16794319588 Question Type : MCQ Option Shuffling : Yes Display Question Number : Yes
Single Line Question Option : No Option Orientation : Vertical

Correct Marks : 1 Wrong Marks : 0.25

Parsis are related to Zoroaster in the same way Christians are related to:

Options :

1. ✓ Jesus
2. ✗ Ganesha
3. ✗ Catholics
4. ✗ Muhammad

Question Number : 1 Question Id : 16794319588 Question Type : MCQ Option Shuffling : Yes Display Question Number : Yes
Single Line Question Option : No Option Orientation : Vertical

Correct Marks : 1 Wrong Marks : 0.25

पारसी धर्म के लोग ज़ोरास्टर (ज़रतोश्त/ज़रथुश्त्र) से उसी तरह संबंधित हैं, जैसे कि ईसाई _____ से संबंधित हैं।

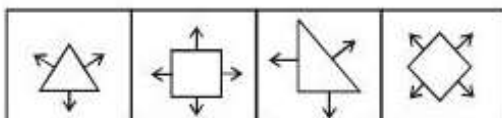
Options :

1. ✓ यीशु (जीसस)
2. ✗ गणेश
3. ✗ कैथोलिक
4. ✗ मुहम्मद

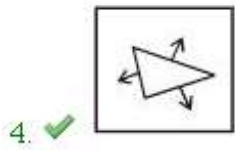
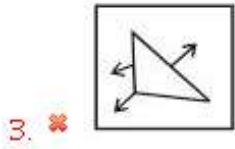
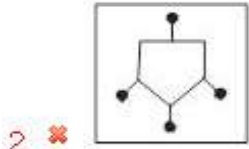
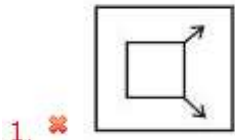
Question Number : 2 Question Id : 16794319589 Question Type : MCQ Option Shuffling : Yes Display Question Number : Yes
Single Line Question Option : No Option Orientation : Vertical

Correct Marks : 1 Wrong Marks : 0.25

Identify the option figure that is similar to the below figures.



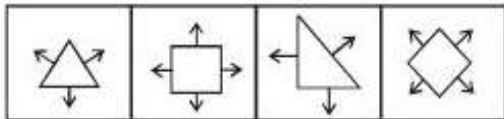
Options :



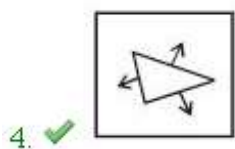
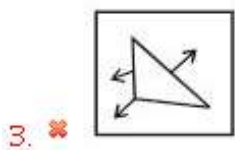
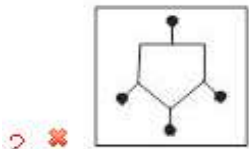
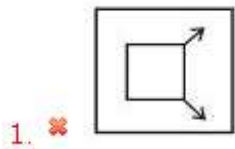
Question Number : 2 Question Id : 16794319589 Question Type : MCQ Option Shuffling : Yes Display Question Number : Yes
Single Line Question Option : No Option Orientation : Vertical

Correct Marks : 1 Wrong Marks : 0.25

नीचे दी गई आकृतियों के समान विकल्प आकृति की पहचान करें।



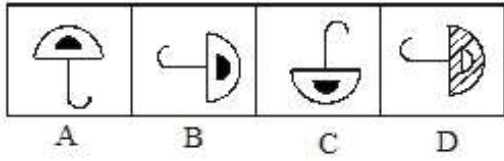
Options :



Question Number : 3 Question Id : 16794319590 Question Type : MCQ Option Shuffling : Yes Display Question Number : Yes
Single Line Question Option : No Option Orientation : Vertical

Correct Marks : 1 Wrong Marks : 0.25

Given below are a few images. Identify the odd image.



Options :

1. ✖ A

2. ✖ B

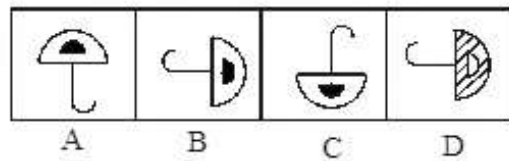
3. ✖ C

4. ✔ D

Question Number : 3 Question Id : 16794319590 Question Type : MCQ Option Shuffling : Yes Display Question Number : Yes
Single Line Question Option : No Option Orientation : Vertical

Correct Marks : 1 Wrong Marks : 0.25

नीचे कुछ छवियां दी गई हैं। उनमें से विषम छवि की पहचान करें।



Options :

1. ✖ A

2. ✖ B

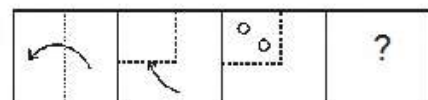
3. ✖ C

4. ✔ D

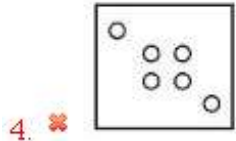
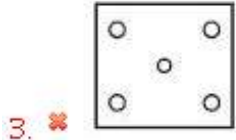
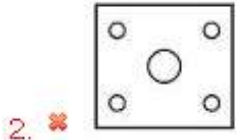
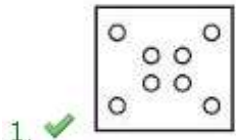
Question Number : 4 Question Id : 16794319591 Question Type : MCQ Option Shuffling : Yes Display Question Number : Yes
Single Line Question Option : No Option Orientation : Vertical

Correct Marks : 1 Wrong Marks : 0.25

A piece of paper is folded and cut as shown below in the question figure. From the given option figures, select the one that indicates how it would appear when unfolded.



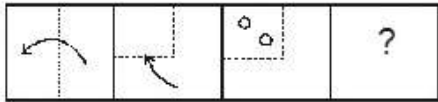
Options :



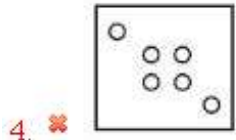
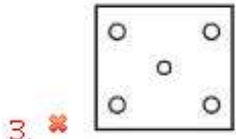
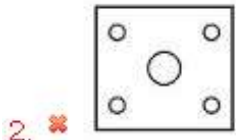
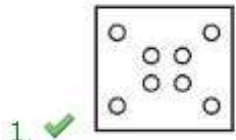
Question Number : 4 Question Id : 16794319591 Question Type : MCQ Option Shuffling : Yes Display Question Number : Yes
Single Line Question Option : No Option Orientation : Vertical

Correct Marks : 1 Wrong Marks : 0.25

कागज के एक टुकड़े को नीचे दिए गए आकृति के अनुसार मोड़ा और काटा जाता है। जब इस मुड़े हुए कागज़ को खोला जायेगा, तो ये विकल्पों में दिए गए किस आकृति जैसा दिखेगा?



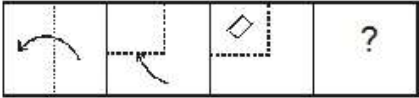
Options :



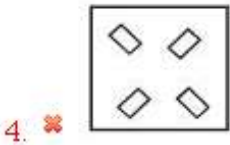
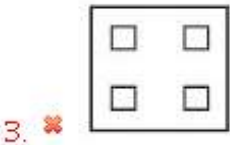
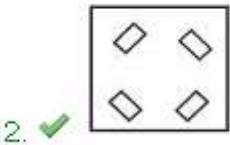
Question Number : 5 Question Id : 16794319592 Question Type : MCQ Option Shuffling : Yes Display Question Number : Yes
Single Line Question Option : No Option Orientation : Vertical

Correct Marks : 1 Wrong Marks : 0.25

A piece of paper is folded and cut as shown below in the question figures. From the given option figures, select the one that indicates how it would appear when unfolded.



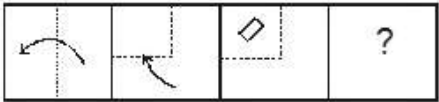
Options :



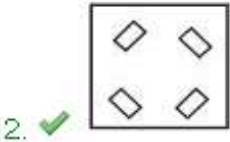
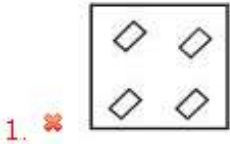
Question Number : 5 Question Id : 16794319592 Question Type : MCQ Option Shuffling : Yes Display Question Number : Yes
Single Line Question Option : No Option Orientation : Vertical

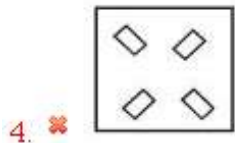
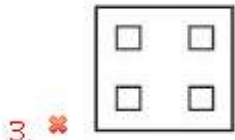
Correct Marks : 1 Wrong Marks : 0.25

कागज के एक टुकड़े को नीचे दिए गए आकृति के अनुसार मोड़ा और काटा जाता है. जब इस मुड़े हुए कागज को खोला जायेगा, तो ये विकल्पों में दिए गए किस आकृति जैसा दिखेगा?



Options :

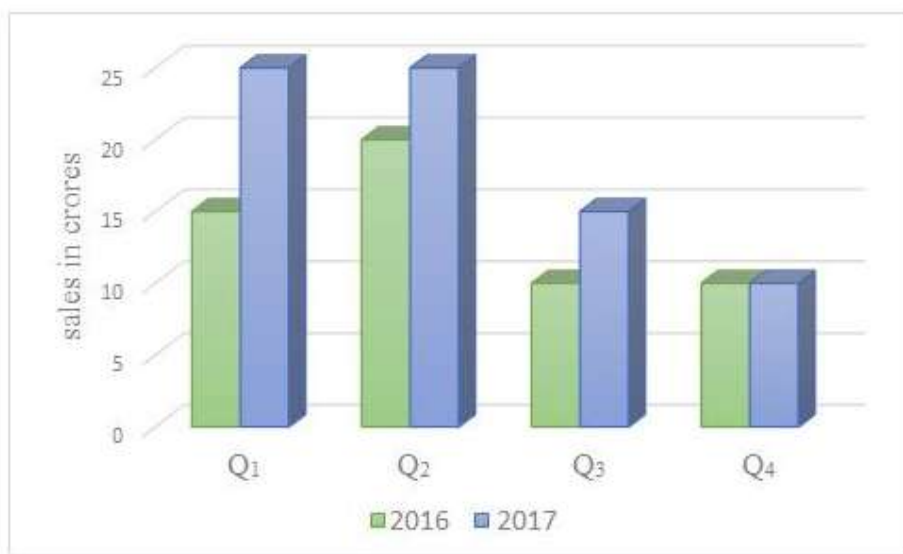




Question Number : 6 Question Id : 16794319593 Question Type : MCQ Option Shuffling : Yes Display Question Number : Yes
Single Line Question Option : No Option Orientation : Vertical

Correct Marks : 1 Wrong Marks : 0.25

The following chart shows information about the sales of the company 'XYZ' for the year 2016 & 2017.



What is the ratio of total sales of the company 'XYZ' for the year 2016 to the total sales for the year 2017?

Options :

1. ✖ 15 : 11

2. ✔ 11 : 15

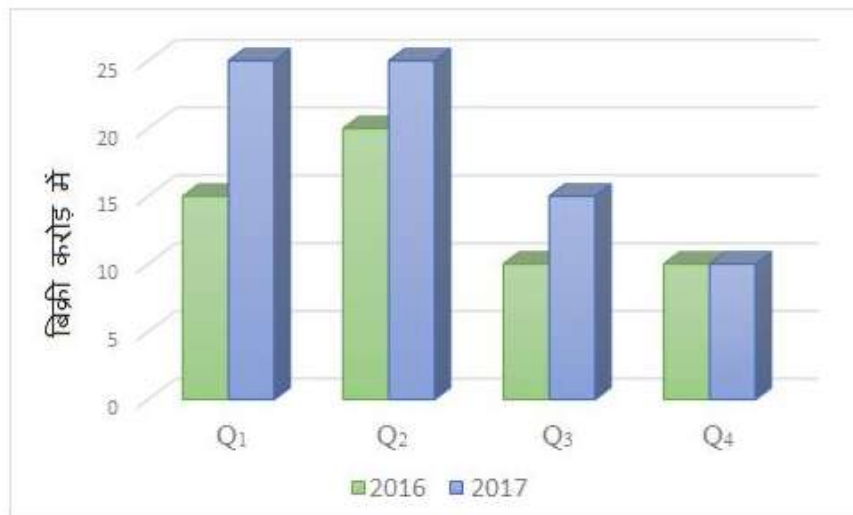
3. ✖ 9 : 15

4. ✖ 15 : 9

Question Number : 6 Question Id : 16794319593 Question Type : MCQ Option Shuffling : Yes Display Question Number : Yes
Single Line Question Option : No Option Orientation : Vertical

Correct Marks : 1 Wrong Marks : 0.25

निम्नलिखित चार्ट में वर्ष 2016 और 2017 के लिए कंपनी 'XYZ' की बिक्री के बारे में जानकारी दिखाई गई है।



कंपनी 'XYZ' का वर्ष 2016 के लिए कुल बिक्री और वर्ष 2017 के लिए कुल बिक्री का अनुपात क्या होगा?

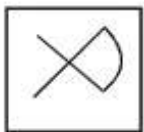
Options :

1. ✖ 15 : 11
2. ✔ 11 : 15
3. ✖ 9 : 15
4. ✖ 15 : 9

Question Number : 7 Question Id : 16794319594 Question Type : MCQ Option Shuffling : Yes Display Question Number : Yes Single Line Question Option : No Option Orientation : Vertical

Correct Marks : 1 Wrong Marks : 0.25

Spot the option figure that has the below figure embedded in it.



Options :

1. ✖
2. ✔

3.



4.



Question Number : 7 Question Id : 16794319594 Question Type : MCQ Option Shuffling : Yes Display Question Number : Yes
Single Line Question Option : No Option Orientation : Vertical

Correct Marks : 1 Wrong Marks : 0.25

उस विकल्प आकृति को चिन्हित करें जिसमे नीचे दी गई आकृति सन्निहित किया गया है।



Options :

1.



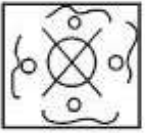
2.



3.



4.



Question Number : 8 Question Id : 16794319595 Question Type : MCQ Option Shuffling : Yes Display Question Number : Yes
Single Line Question Option : No Option Orientation : Vertical

Correct Marks : 1 Wrong Marks : 0.25

Study the following information carefully and answer the given questions.

For a recruitment process in an accounting organisation, the candidates need to possess the following qualifications criteria:

- (i) He/she should be a graduate in commerce with at least 60% marks.
- (ii) He/she should be of at least 24 years of age and not more than 40 years as on 1 - 7 - 2016.
- (iii) He/she should have a post-qualification work experience of at least 2 years.
- (iv) He/she should have secured 55% marks in the selection process.

If the candidate fulfills the above-mentioned criteria except:

- (A) (i), and if the candidate is not a graduate in commerce but has a post-graduation degree in finance with minimum of 60% marks, he/she should be referred to the Finance Manager of the organisation.
- (B) (iii), but if the candidate fulfills all the eligibility criteria of post-qualification work experience but has secured 75% marks in the selection process, he/she may be referred to the Trainee Accountant.

Based on the above information, figure out whether the following candidate is eligible for the recruitment process. You are not to assume anything other than the information provided in each question. The case is given to you as on 1 - 7 - 2016.

Vyshnavi has done graduation in Engineering with 61% marks. Her date of birth is 4. 3. 1991. She has qualified in the selection process and has secured 69% marks in it. She also has three years of post-qualification work experience.

Options :

- 1. ✖ The candidate should be selected
- 2. ✔ The candidate is not to be selected
- 3. ✖ The candidate may be referred to the Finance Manager
- 4. ✖ The candidate may be referred to the Trainee Accountant

Question Number : 8 Question Id : 16794319595 Question Type : MCQ Option Shuffling : Yes Display Question Number : Yes
Single Line Question Option : No Option Orientation : Vertical
Correct Marks : 1 Wrong Marks : 0.25

नीचे दी गई जानकारी को ध्यानपूर्वक पढ़ें और दिए गए प्रश्नों का उत्तर दें।

एक लेखा संगठन में भर्ती प्रक्रिया के लिए, उम्मीदवारों के लिए निम्नलिखित योग्यता मानदंड की आवश्यकता है:

- (i) वह कम से कम 60% अंकों के साथ वाणिज्य में स्नातक होना/होनी चाहिए।
- (ii) वह 1-7-2016 को कम से कम 24 वर्ष और 40 साल से अधिक नहीं होना/होनी चाहिए।
- (iii) उसके पास शिक्षा के बाद कम से कम 2 वर्ष का कार्य अनुभव होना/होनी चाहिए।
- (iv) उसे चयन प्रक्रिया में 55% अंक प्राप्त करना चाहिए।

यदि उम्मीदवार उपर्युक्त मानदंडों को पूरा करता है, निम्नलिखित को छोड़कर:

- (A) (i) यदि उम्मीदवार वाणिज्य में स्नातक नहीं है लेकिन उसके पास वित्त में न्यूनतम 60% अंक के साथ स्नातकोत्तर की डिग्री है, उसे संस्थान के वित्त प्रबंधक के पास भेजा जाना चाहिए।
- (B) (iii) के मामले में यदि उम्मीदवार शिक्षा के बाद कम से कम 2 वर्ष का कार्य अनुभव के पात्रता मापदंड को पूरा करता है, इतना ही नहीं वह चयन प्रक्रिया में 75% अंक अर्जित किया है, उसे प्रशिक्षु अकाउंटेंट के लिए संदर्भित किया जा सकता है।

उपरोक्त सूचना के आधार पर ज्ञात करें कि निम्नलिखित उम्मीदवार के लिए क्या निर्णय लिया जाना चाहिए। आपको दी गई सूचना के अलावा कुछ और नहीं सोचना है। आपको दिए गए सभी मामले 1-7-2016 के हैं।

वैष्णवी 61% अंकों के साथ इंजीनियरिंग में स्नातक है। उसकी जन्म तिथि 4.3.1991 है। उसने चयन प्रक्रिया उत्तीर्ण किया है और 69% अंक प्राप्त किए हैं। उसके पास तीन साल के योग्यता कार्य अनुभव भी हैं।

Options :

- 1. ✖ उम्मीदवार का चयन किया जाना चाहिए
- 2. ✔ उम्मीदवार का चयन नहीं किया जाना चाहिए
- 3. ✖ उम्मीदवार को वित्त प्रबंधक के पास भेजा जा सकता है
- 4. ✖ उम्मीदवार को प्रशिक्षु अकाउंटेंट के पास भेजा जा सकता है

Question Number : 9 Question Id : 16794319596 Question Type : MCQ Option Shuffling : Yes Display Question Number : Yes
Single Line Question Option : No Option Orientation : Vertical

Correct Marks : 1 Wrong Marks : 0.25

You are on your way to college. You find a gold chain on the road. What should be your most appropriate step?

Options :

- 1. ✖ Hand over the chain to a nearby passing person
- 2. ✖ Hand over the chain to the college principal
- 3. ✖ Pocket the chain

4. ✓ Hand over the chain to the nearby police station

Question Number : 9 Question Id : 16794319596 Question Type : MCQ Option Shuffling : Yes Display Question Number : Yes
Single Line Question Option : No Option Orientation : Vertical

Correct Marks : 1 Wrong Marks : 0.25

आप कॉलेज जा रहे हैं। आपको सड़क पर सोने की चेन मिलती है। आपका सबसे उचित कदम क्या होना चाहिए?

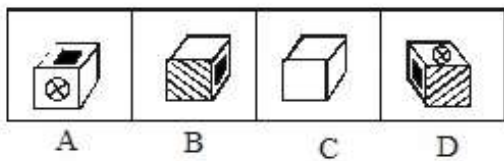
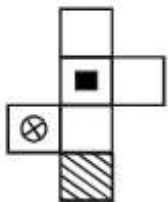
Options :

1. ✗ चेन को पास के गुजरने वाले व्यक्ति को सौंप देना चाहिए
2. ✗ चेन को कॉलेज प्रिंसिपल को सौंप देना चाहिए
3. ✗ चेन को पॉकेट में रख लेना चाहिए
4. ✓ चेन को पास के पुलिस स्टेशन को सौंप देना चाहिए

Question Number : 10 Question Id : 16794319597 Question Type : MCQ Option Shuffling : Yes Display Question Number : Yes
Single Line Question Option : No Option Orientation : Vertical

Correct Marks : 1 Wrong Marks : 0.25

If a sheet of paper is folded as shown in the figure to form a cube, what will the result be?



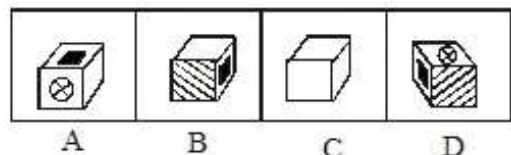
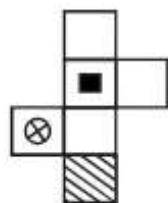
Options :

1. ✓ A only
2. ✗ A and C only
3. ✗ A, C and D only
4. ✗ A, B, C and D

Question Number : 10 Question Id : 16794319597 Question Type : MCQ Option Shuffling : Yes Display Question Number : Yes
Single Line Question Option : No Option Orientation : Vertical

Correct Marks : 1 Wrong Marks : 0.25

यदि एक शीट को घन बनाने के लिए आकृति के अनुसार मोड़ा जाता है, तो परिणाम क्या होगा?



Options :

1. ☒ केवल A
2. ☐ केवल A और C
3. ☐ केवल A, C और D
4. ☐ A, B, C और D

Question Number : 11 Question Id : 16794319598 Question Type : MCQ Option Shuffling : Yes Display Question Number : Yes
Single Line Question Option : No Option Orientation : Vertical

Correct Marks : 1 Wrong Marks : 0.25

Select the most appropriate option.

A cycle must have -

Options :

1. ☒ Wheels
2. ☐ Battery
3. ☐ Rain proof Roof
4. ☐ Vegetable Basket

Question Number : 11 Question Id : 16794319598 Question Type : MCQ Option Shuffling : Yes Display Question Number : Yes
Single Line Question Option : No Option Orientation : Vertical

Correct Marks : 1 Wrong Marks : 0.25

सबसे उपयुक्त विकल्प का चयन करें।

एक साइकल में क्या होना चाहिए?

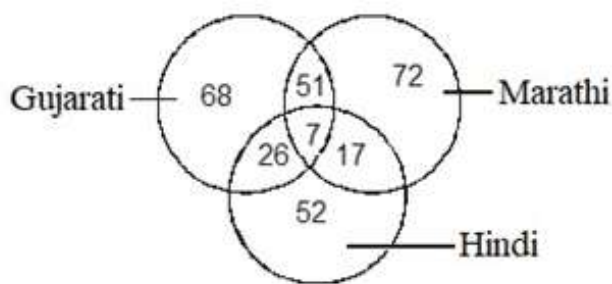
Options :

1. ✓ पहिया
2. ✗ बैटरी
3. ✗ वर्षारोधी छत
4. ✗ सब्जी टोकरी

Question Number : 12 Question Id : 16794319599 Question Type : MCQ Option Shuffling : Yes Display Question Number : Yes
Single Line Question Option : No Option Orientation : Vertical

Correct Marks : 1 Wrong Marks : 0.25

Study the following Venn diagram carefully and answer the question.



What is the ratio of people who speak Gujarati and Hindi but NOT Marathi to the people who speak only Hindi?

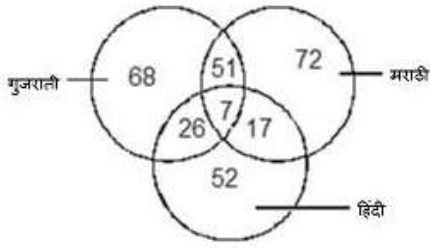
Options :

1. ✗ 2 : 1
2. ✓ 1 : 2
3. ✗ 33 : 52
4. ✗ 7 : 9

Question Number : 12 Question Id : 16794319599 Question Type : MCQ Option Shuffling : Yes Display Question Number : Yes
Single Line Question Option : No Option Orientation : Vertical

Correct Marks : 1 Wrong Marks : 0.25

निम्नलिखित वेन आरेख ध्यानपूर्वक अध्ययन करें और प्रश्न का उत्तर दें।



गुजराती और हिंदी बोलने वाले पर मराठी न बोल पाने वाले लोगों और केवल हिंदी बोलने वालों का अनुपात क्या है?

Options :

1. ✖ 2 : 1
2. ✔ 1 : 2
3. ✖ 33 : 52
4. ✖ 7 : 9

Question Number : 13 Question Id : 16794319600 Question Type : MCQ Option Shuffling : Yes Display Question Number : Yes Single Line Question Option : No Option Orientation : Vertical

Correct Marks : 1 Wrong Marks : 0.25

Vardhaman is the brother of Vanaja. How is Vanaja's father's only daughter's daughter related to Vardhaman?

Options :

1. ✔ Niece
2. ✖ Sister
3. ✖ Aunt
4. ✖ Mother

Question Number : 13 Question Id : 16794319600 Question Type : MCQ Option Shuffling : Yes Display Question Number : Yes Single Line Question Option : No Option Orientation : Vertical

Correct Marks : 1 Wrong Marks : 0.25

वर्धमान वनजा का भाई है। वनजा के पिता की एकमात्र बेटी की बेटी वर्धमान से किस तरह संबंधित है?

Options :

1. ✔ भान्जा / भान्जी
2. ✖ बहन
3. ✖ चाची

4. ✖ मां

Question Number : 14 Question Id : 16794319601 Question Type : MCQ Option Shuffling : Yes Display Question Number : Yes
Single Line Question Option : No Option Orientation : Vertical

Correct Marks : 1 Wrong Marks : 0.25

If \$ means +, # means −, @ means \times and * means \div , then what is the value of $26\$4@3\#56*7$?

Options :

1. ✖ 40

2. ✖ 36

3. ✖ 32

4. ✔ 30

Question Number : 14 Question Id : 16794319601 Question Type : MCQ Option Shuffling : Yes Display Question Number : Yes
Single Line Question Option : No Option Orientation : Vertical

Correct Marks : 1 Wrong Marks : 0.25

यदि \$ का अर्थ +, # का अर्थ −, @ का अर्थ \times और * का अर्थ \div है, तो $26\$4@3\#56*7$ का क्या मान होगा?

Options :

1. ✖ 40

2. ✖ 36

3. ✖ 32

4. ✔ 30

Question Number : 15 Question Id : 16794319602 Question Type : MCQ Option Shuffling : Yes Display Question Number : Yes
Single Line Question Option : No Option Orientation : Vertical

Correct Marks : 1 Wrong Marks : 0.25

Suma cuts a cake into two halves and further cuts one half into smaller pieces of equal size. Each of the small pieces is thirty grams in weight. If she has nine pieces of the cake in all with her, how heavy was the original cake?

Options :

1. ✔ 480 grams

2. ✖ 240 grams

3. ✖ 120 grams

4. ✖ 180 grams

Question Number : 15 Question Id : 16794319602 Question Type : MCQ Option Shuffling : Yes Display Question Number : Yes
Single Line Question Option : No Option Orientation : Vertical

Correct Marks : 1 Wrong Marks : 0.25

सुमा एक केक को दो हिस्सों में काटती है और एक आधे हिस्से को बराबर आकार के छोटे टुकड़ों में काटती है। प्रत्येक छोटा टुकड़ा तीस ग्राम का है। यदि उसके पास केक के नौ टुकड़े हैं, तो मूल केक का वजन कितना था?

Options :

1. ✓ 480 ग्राम
2. ✗ 240 ग्राम
3. ✗ 120 ग्राम
4. ✗ 180 ग्राम

Question Number : 16 Question Id : 16794319603 Question Type : MCQ Option Shuffling : Yes Display Question Number : Yes
Single Line Question Option : No Option Orientation : Vertical

Correct Marks : 1 Wrong Marks : 0.25

A father is now two times as old as his son. Ten years back, he was three times as old as his son. The present age of the son (in years) is:

Options :

1. ✗ 15
2. ✓ 20
3. ✗ 25
4. ✗ 30

Question Number : 16 Question Id : 16794319603 Question Type : MCQ Option Shuffling : Yes Display Question Number : Yes
Single Line Question Option : No Option Orientation : Vertical

Correct Marks : 1 Wrong Marks : 0.25

एक पिता की आयु उसके बेटे की आयु के दो गुनी है। दस साल पहले, उसकी आयु अपने बेटे के आयु से तीन गुना थी। बेटे की वर्तमान उम्र (वर्षों में) कितनी है?

Options :





1. ✗ 15
2. ✓ 20
3. ✗ 25
4. ✗ 30

Question Number : 17 Question Id : 16794319604 Question Type : MCQ Option Shuffling : Yes Display Question Number : Yes
Single Line Question Option : No Option Orientation : Vertical

Correct Marks : 1 Wrong Marks : 0.25

The pairs of words given in the options share a similar relationship except in one pair. Identify the odd pair of words.

Options :

1.  Spoon : Cut
2.  Spanner : Grip
3.  Sword : Slaughter
4.  Gun : Shoot

Question Number : 17 Question Id : 16794319604 Question Type : MCQ Option Shuffling : Yes Display Question Number : Yes
Single Line Question Option : No Option Orientation : Vertical

Correct Marks : 1 Wrong Marks : 0.25

दिए गए विकल्पों में एक शब्द-जोड़े को छोड़कर शेष समान संबंध साझा करते हैं। शब्दों की विषम जोड़ी की पहचान करें।

Options :





1.  चम्मच : काटना
2.  स्पैन्सर : पकड़ना
3.  तलवार : संहार करना
4.  बंदूक : गोली मारना

Question Number : 18 Question Id : 16794319605 Question Type : MCQ Option Shuffling : Yes Display Question Number : Yes
Single Line Question Option : No Option Orientation : Vertical

Correct Marks : 1 Wrong Marks : 0.25

Identify the odd pair of numerals among the options.

Options :

1.  7 : 29
2.  6 : 25
3.  4 : 13
4.  9 : 37

Question Number : 18 Question Id : 16794319605 Question Type : MCQ Option Shuffling : Yes Display Question Number : Yes
Single Line Question Option : No Option Orientation : Vertical

Correct Marks : 1 Wrong Marks : 0.25

विकल्पों के बीच अंकों की विषम जोड़ी की पहचान करें।

Options :

1. ✖ 7 : 29

2. ✖ 6 : 25

3. ✔ 4 : 13

4. ✖ 9 : 37

Question Number : 19 Question Id : 16794319606 Question Type : MCQ Option Shuffling : Yes Display Question Number : Yes
Single Line Question Option : No Option Orientation : Vertical

Correct Marks : 1 Wrong Marks : 0.25

What would be the next term in the below number series.

47, 28, 16, ?

Options :

1. ✖ 10

2. ✔ 6

3. ✖ 18

4. ✖ 8

Question Number : 19 Question Id : 16794319606 Question Type : MCQ Option Shuffling : Yes Display Question Number : Yes
Single Line Question Option : No Option Orientation : Vertical

Correct Marks : 1 Wrong Marks : 0.25

नीचे दी गई संख्या श्रृंखला में अगली संख्या क्या होगी?

47, 28, 16, ?

Options :

1. ✖ 10

2. ✔ 6

3. ✖ 18

4. ✖ 8

Question Number : 20 Question Id : 16794319607 Question Type : MCQ Option Shuffling : Yes Display Question Number : Yes
Single Line Question Option : No Option Orientation : Vertical

Correct Marks : 1 Wrong Marks : 0.25

What should come in the place of question mark in the below series:

S, M, H, ?, A, Y

Options :

1. ✖ G

2. ✖ P

3. ✔ D

4. ✖ X

Question Number : 20 Question Id : 16794319607 Question Type : MCQ Option Shuffling : Yes Display Question Number : Yes
Single Line Question Option : No Option Orientation : Vertical

Correct Marks : 1 Wrong Marks : 0.25

नीचे दी गई श्रृंखला में प्रश्न चिह्न के स्थान पर क्या होना चाहिए?

S, M, H, ?, A, Y

Options :

1. ✖ G

2. ✖ P

3. ✔ D

4. ✖ X

General Awareness

Group Number :	2
Group Id :	167943745
Group Maximum Duration :	0
Group Minimum Duration :	0
Revisit allowed for view? :	No
Revisit allowed for edit? :	No
Break time:	0
Group Marks:	20
Revisit allowed for group Instructions? :	Yes
Maximum Instruction Time:	0
Minimum Instruction Time:	0

General Awareness

Section Id :	167943810
Section Number :	1
Section type :	Online
Mandatory or Optional:	Mandatory
Number of Questions:	20
Number of Questions to be attempted:	20
Section Marks:	20
Display Number Panel:	Yes
Group All Questions:	No





Sub-Section Number:	1
Sub-Section Id:	1679431248
Question Shuffling Allowed :	Yes

Question Number : 21 Question Id : 16794319608 Question Type : MCQ Option Shuffling : Yes Display Question Number : Yes
Single Line Question Option : No Option Orientation : Vertical

Correct Marks : 1 Wrong Marks : 0.25

Which one of the following was the capital of the kingdom of Kosala?

Options :

1.  Ayodhya
2.  Ujjain
3.  Varanasi
4.  Kausambi

Question Number : 21 Question Id : 16794319608 Question Type : MCQ Option Shuffling : Yes Display Question Number : Yes
Single Line Question Option : No Option Orientation : Vertical

Correct Marks : 1 Wrong Marks : 0.25

निम्न में से कौन-सा कोशल के साम्राज्य की राजधानी था?

Options :

1.  अयोध्या
2.  उज्जैन
3.  वाराणसी
4.  कौशंबी

Question Number : 22 Question Id : 16794319609 Question Type : MCQ Option Shuffling : Yes Display Question Number : Yes
Single Line Question Option : No Option Orientation : Vertical

Correct Marks : 1 Wrong Marks : 0.25

In which language are the earliest collections of Buddha's teachings?

Options :

1. ✖ Magadhi
2. ✖ Prakrit
3. ✔ Pali
4. ✖ Sanskrit

Question Number : 22 Question Id : 16794319609 Question Type : MCQ Option Shuffling : Yes Display Question Number : Yes
Single Line Question Option : No Option Orientation : Vertical

Correct Marks : 1 Wrong Marks : 0.25

बुद्ध की शिक्षाओं का सबसे पहला संग्रह किस भाषा में है?

Options :

1. ✖ मगधी
2. ✖ प्राकृत
3. ✔ पालि
4. ✖ संस्कृत

Question Number : 23 Question Id : 16794319610 Question Type : MCQ Option Shuffling : Yes Display Question Number : Yes
Single Line Question Option : No Option Orientation : Vertical

Correct Marks : 1 Wrong Marks : 0.25

Who are known as the first Empire builders of India?

Options :

1. ✔ Nandas
2. ✖ Mauryans
3. ✖ Sungas
4. ✖ Guptas

Question Number : 23 Question Id : 16794319610 Question Type : MCQ Option Shuffling : Yes Display Question Number : Yes
Single Line Question Option : No Option Orientation : Vertical

Correct Marks : 1 Wrong Marks : 0.25

भारत के पहले साम्राज्य निर्माताओं के रूप में कौन जाने जाते हैं?

Options :

1. ☒ नन्दा
2. ☐ मौर्य
3. ☐ सुंग
4. ☐ गुप्ता

Question Number : 24 Question Id : 16794319611 Question Type : MCQ Option Shuffling : Yes Display Question Number : Yes
Single Line Question Option : No Option Orientation : Vertical

Correct Marks : 1 Wrong Marks : 0.25

Bishkek is the capital of which country?

Options :

1. ☐ Kazakhstan
2. ☒ Kyrgyzstan
3. ☐ Tajikistan
4. ☐ Uzbekistan

Question Number : 24 Question Id : 16794319611 Question Type : MCQ Option Shuffling : Yes Display Question Number : Yes
Single Line Question Option : No Option Orientation : Vertical

Correct Marks : 1 Wrong Marks : 0.25

बिश्केक किस देश की राजधानी है?

Options :

1. ☐ कजाकस्तान
2. ☒ किर्गिस्तान
3. ☐ तज़ाकिस्तान
4. ☐ उजबेकिस्तान

Question Number : 25 Question Id : 16794319612 Question Type : MCQ Option Shuffling : Yes Display Question Number : Yes
Single Line Question Option : No Option Orientation : Vertical

Correct Marks : 1 Wrong Marks : 0.25

Which of the following is NOT a 'terrestrial planet'?

Options :

1. ✖ Mercury

2. ✖ Venus

3. ✖ Mars

4. ✔ Neptune

Question Number : 25 Question Id : 16794319612 Question Type : MCQ Option Shuffling : Yes Display Question Number : Yes
Single Line Question Option : No Option Orientation : Vertical

Correct Marks : 1 Wrong Marks : 0.25

इनमें से कौन सा 'ऐहिक ग्रह' नहीं है?

Options :

1. ✖ बुध

2. ✖ शुक्र

3. ✖ मंगल

4. ✔ नेपच्यून

Question Number : 26 Question Id : 16794319613 Question Type : MCQ Option Shuffling : Yes Display Question Number : Yes
Single Line Question Option : No Option Orientation : Vertical

Correct Marks : 1 Wrong Marks : 0.25

Uttarakhand came into being in 2000 as the _____ state of India.

Options :

1. ✖ 25th

2. ✖ 26th

3. ✔ 27th

4. ✖ 28th

Question Number : 26 Question Id : 16794319613 Question Type : MCQ Option Shuffling : Yes Display Question Number : Yes
Single Line Question Option : No Option Orientation : Vertical

Correct Marks : 1 Wrong Marks : 0.25

उत्तराखंड 2000 में भारत के _____ राज्य के रूप में स्थापित हुआ।

Options :

1. ✖ 25वे

2. ✖ 26वे

3. ✔ 27वे

4. ✖ 28वे

Question Number : 27 Question Id : 16794319614 Question Type : MCQ Option Shuffling : Yes Display Question Number : Yes
Single Line Question Option : No Option Orientation : Vertical

Correct Marks : 1 Wrong Marks : 0.25

Which Article guarantees protection of monuments and places and objects of national importance?

Options :

1. ✖ Article 46

2. ✔ Article 49

3. ✖ Article 51

4. ✖ Article 53

Question Number : 27 Question Id : 16794319614 Question Type : MCQ Option Shuffling : Yes Display Question Number : Yes
Single Line Question Option : No Option Orientation : Vertical

Correct Marks : 1 Wrong Marks : 0.25

कौन सा अनुच्छेद राष्ट्रीय महत्व के स्मारकों और स्थानों और वस्तुओं की सुरक्षा का आश्वासन देता है?

Options :

1. ✖ अनुच्छेद 46

2. ✔ अनुच्छेद 49

3. ✖ अनुच्छेद 51

4. ✖ अनुच्छेद 53

Question Number : 28 Question Id : 16794319615 Question Type : MCQ Option Shuffling : Yes Display Question Number : Yes
Single Line Question Option : No Option Orientation : Vertical

Correct Marks : 1 Wrong Marks : 0.25

Which constitutional amendment raised the age of retirement of a High Court Judge from 60 to 62 years?

Options :

1. ☒ 15th Constitutional Amendment Act, 1963
2. ☐ 17th Constitutional Amendment Act, 1964
3. ☐ 19th Constitutional Amendment Act, 1966
4. ☐ 21st Constitutional Amendment Act, 1967

Question Number : 28 Question Id : 16794319615 Question Type : MCQ Option Shuffling : Yes Display Question Number : Yes
Single Line Question Option : No Option Orientation : Vertical

Correct Marks : 1 Wrong Marks : 0.25

किस संवैधानिक संशोधन ने उच्च न्यायालय के न्यायाधीश के सेवानिवृत्ति की उम्र बढ़ा कर 60 से 62 साल की?

Options :

1. ☒ 15वां संवैधानिक संशोधन अधिनियम, 1963
2. ☐ 17वां संवैधानिक संशोधन अधिनियम, 1964
3. ☐ 19वां संवैधानिक संशोधन अधिनियम, 1966
4. ☐ 21वां संवैधानिक संशोधन अधिनियम, 1967

Question Number : 29 Question Id : 16794319616 Question Type : MCQ Option Shuffling : Yes Display Question Number : Yes
Single Line Question Option : No Option Orientation : Vertical

Correct Marks : 1 Wrong Marks : 0.25

Which bank's punch line is, "Together we Prosper"?

Options :

1. ☐ Allahabad Bank
2. ☐ Punjab National Bank
3. ☒ Bank Of Rajasthan
4. ☐ Andhra Bank

Question Number : 29 Question Id : 16794319616 Question Type : MCQ Option Shuffling : Yes Display Question Number : Yes
Single Line Question Option : No Option Orientation : Vertical

Correct Marks : 1 Wrong Marks : 0.25

कौन सी बैंक की पंच लाइन थी, "टूगेदर वि प्रॉस्पर"?

Options :

1. ✖ इलाहाबाद बैंक
2. ✖ पंजाब नेशनल बैंक
3. ✔ बैंक ऑफ राजस्थान
4. ✖ आंध्रा बैंक

Question Number : 30 Question Id : 16794319617 Question Type : MCQ Option Shuffling : Yes Display Question Number : Yes
Single Line Question Option : No Option Orientation : Vertical

Correct Marks : 1 Wrong Marks : 0.25

In the 25th GST Council Meeting, held before the Budget 2018, rates for how many goods have been reduced?

Options :

1. ✖ 25
2. ✔ 29
3. ✖ 32
4. ✖ 36

Question Number : 30 Question Id : 16794319617 Question Type : MCQ Option Shuffling : Yes Display Question Number : Yes
Single Line Question Option : No Option Orientation : Vertical

Correct Marks : 1 Wrong Marks : 0.25

बजट 2018 से पहले आयोजित 25 वें जीएसटी परिषद की बैठक में, कितने वस्तुओं के दरों में कमी की गई है?

Options :

1. ✖ 25
2. ✔ 29
3. ✖ 32
4. ✖ 36

Question Number : 31 Question Id : 16794319618 Question Type : MCQ Option Shuffling : Yes Display Question Number : Yes
Single Line Question Option : No Option Orientation : Vertical

Correct Marks : 1 Wrong Marks : 0.25

Gulabo Sapera is associated with which dance form?

Options :

1. ✖ Pandavani

2. ✖ Sattriya

3. ✖ Chhau

4. ✔ Kalbelia

Question Number : 31 Question Id : 16794319618 Question Type : MCQ Option Shuffling : Yes Display Question Number : Yes
Single Line Question Option : No Option Orientation : Vertical

Correct Marks : 1 Wrong Marks : 0.25

गुलाबो सपेरा किस नृत्य रूप से जुडी हुई है?

Options :

1. ✖ पंडवानी

2. ✖ सत्त्रिया

3. ✖ छऊ

4. ✔ कालबेलिया

Question Number : 32 Question Id : 16794319619 Question Type : MCQ Option Shuffling : Yes Display Question Number : Yes
Single Line Question Option : No Option Orientation : Vertical

Correct Marks : 1 Wrong Marks : 0.25

Who among the following is a famous flute player?

Options :

1. ✖ Tarun Bhattacharya

2. ✖ Ali Akbar Khan

3. ✔ Raghunath Seth

4. ✖ Vilayat Khan

Question Number : 32 Question Id : 16794319619 Question Type : MCQ Option Shuffling : Yes Display Question Number : Yes
Single Line Question Option : No Option Orientation : Vertical

Correct Marks : 1 Wrong Marks : 0.25

निम्नलिखित में से कौन प्रसिद्ध बांसुरी वादक है?

Options :

1. ✖ तरुण भट्टाचार्य

2. ❌ अली अकबर खान

3. ✅ रघुनाथ सेठ

4. ❌ विलायत खान

Question Number : 33 Question Id : 16794319620 Question Type : MCQ Option Shuffling : Yes Display Question Number : Yes
Single Line Question Option : No Option Orientation : Vertical

Correct Marks : 1 Wrong Marks : 0.25

"Khyal" is the Hindustani folk-dance drama or theatre of _____.

Options :

1. ❌ Uttar Pradesh

2. ✅ Rajasthan

3. ❌ Madhya Pradesh

4. ❌ Andhra Pradesh

Question Number : 33 Question Id : 16794319620 Question Type : MCQ Option Shuffling : Yes Display Question Number : Yes
Single Line Question Option : No Option Orientation : Vertical

Correct Marks : 1 Wrong Marks : 0.25

"खयाल" _____ का हिन्दुस्तानी लोक-नृत्य नाटक या रंगमंच है।

Options :

1. ❌ उत्तर प्रदेश

2. ✅ राजस्थान

3. ❌ मध्य प्रदेश

4. ❌ आन्ध्र प्रदेश

Question Number : 34 Question Id : 16794319621 Question Type : MCQ Option Shuffling : Yes Display Question Number : Yes
Single Line Question Option : No Option Orientation : Vertical

Correct Marks : 1 Wrong Marks : 0.25

India finished at _____ position in terms of medal tally (arranged as per number of gold medals) in the 2018 Asian Games.

Options :

1. ❌ Tenth

2. ✖ Ninth

3. ✔ Eighth

4. ✖ Seventh

Question Number : 34 Question Id : 16794319621 Question Type : MCQ Option Shuffling : Yes Display Question Number : Yes
Single Line Question Option : No Option Orientation : Vertical

Correct Marks : 1 Wrong Marks : 0.25

भारत 2018 के एशियाई खेलों में पदक टैली (स्वर्ण पदक की संख्या के अनुसार व्यवस्थित) के मामले में _____ स्थान पर था।

Options :

1. ✖ दसवें

2. ✖ नौवें

3. ✔ आठवें

4. ✖ सातवें

Question Number : 35 Question Id : 16794319622 Question Type : MCQ Option Shuffling : Yes Display Question Number : Yes
Single Line Question Option : No Option Orientation : Vertical

Correct Marks : 1 Wrong Marks : 0.25

How many total medals did India win in the 2018 Asian Games held in Indonesia?

Options :

1. ✖ 67

2. ✔ 69

3. ✖ 72

4. ✖ 76

Question Number : 35 Question Id : 16794319622 Question Type : MCQ Option Shuffling : Yes Display Question Number : Yes
Single Line Question Option : No Option Orientation : Vertical

Correct Marks : 1 Wrong Marks : 0.25

इंडोनेशिया में आयोजित 2018 एशियाई खेलों में भारत ने कुल कितने पदक जीते?

Options :

1. ✖ 67

2. ✓ 69

3. ✗ 72

4. ✗ 76

Question Number : 36 Question Id : 16794319623 Question Type : MCQ Option Shuffling : Yes Display Question Number : Yes
Single Line Question Option : No Option Orientation : Vertical

Correct Marks : 1 Wrong Marks : 0.25

What is the chemical formula for carbonic acid?

Options :

1. ✓ H_2CO_3

2. ✗ HCO_3

3. ✗ CO_2HCO_3

4. ✗ CHO_3

Question Number : 36 Question Id : 16794319623 Question Type : MCQ Option Shuffling : Yes Display Question Number : Yes
Single Line Question Option : No Option Orientation : Vertical

Correct Marks : 1 Wrong Marks : 0.25

कार्बोनिक एसिड के लिए रासायनिक फार्मूला क्या है?

Options :

1. ✓ H_2CO_3

2. ✗ HCO_3

3. ✗ CO_2HCO_3

4. ✗ CHO_3

Question Number : 37 Question Id : 16794319624 Question Type : MCQ Option Shuffling : Yes Display Question Number : Yes
Single Line Question Option : No Option Orientation : Vertical

Correct Marks : 1 Wrong Marks : 0.25

Where is the headquarter of Physical Research Laboratory in India?

Options :

1. ✗ Bangalore

2. ✗ Thumba

3. ✖ Kolkata

4. ✔ Ahmedabad

Question Number : 37 Question Id : 16794319624 Question Type : MCQ Option Shuffling : Yes Display Question Number : Yes
Single Line Question Option : No Option Orientation : Vertical

Correct Marks : 1 Wrong Marks : 0.25

भारत में भौतिक अनुसंधान प्रयोगशाला का मुख्यालय कहाँ है?

Options :

1. ✖ बंगलुरु

2. ✖ थुंबा

3. ✖ कोलकाता

4. ✔ अहमदाबाद

Question Number : 38 Question Id : 16794319625 Question Type : MCQ Option Shuffling : Yes Display Question Number : Yes
Single Line Question Option : No Option Orientation : Vertical

Correct Marks : 1 Wrong Marks : 0.25

Union Government has signed \$375 million loan agreement with Asian Development Bank (ADB) for Irrigation Efficiency Improvement Project of which state?

Options :

1. ✖ Haryana

2. ✖ Maharashtra

3. ✔ Madhya Pradesh

4. ✖ Karnataka

Question Number : 38 Question Id : 16794319625 Question Type : MCQ Option Shuffling : Yes Display Question Number : Yes
Single Line Question Option : No Option Orientation : Vertical

Correct Marks : 1 Wrong Marks : 0.25

केंद्र सरकार ने किस राज्य की सिंचाई दक्षता सुधार परियोजना के लिए एशियाई विकास बैंक (ADB) के साथ \$375 मिलियन के ऋण समझौते पर हस्ताक्षर किया है?

Options :

1. ✖ हरियाणा

2. ✖ महाराष्ट्र

3. ✔ मध्य प्रदेश

4. ✖ कर्नाटक

Question Number : 39 Question Id : 16794319626 Question Type : MCQ Option Shuffling : Yes Display Question Number : Yes
Single Line Question Option : No Option Orientation : Vertical

Correct Marks : 1 Wrong Marks : 0.25

Where was the sixth Regional Comprehensive Economic Partnership (RCEP) Trade Ministers' Meeting held?

Options :

1. ✖ Thailand

2. ✔ Singapore

3. ✖ Indonesia

4. ✖ Malaysia

Question Number : 39 Question Id : 16794319626 Question Type : MCQ Option Shuffling : Yes Display Question Number : Yes
Single Line Question Option : No Option Orientation : Vertical

Correct Marks : 1 Wrong Marks : 0.25

छठी क्षेत्रीय व्यापक आर्थिक भागीदारी (RCEP) व्यापार मंत्रियों की बैठक कहाँ आयोजित की गई थी?

Options :

1. ✖ थाईलैण्ड

2. ✔ सिंगापुर

3. ✖ इंडोनेशिया

4. ✖ मलेशिया

Question Number : 40 Question Id : 16794319627 Question Type : MCQ Option Shuffling : Yes Display Question Number : Yes
Single Line Question Option : No Option Orientation : Vertical

Correct Marks : 1 Wrong Marks : 0.25

Union Government has constituted a 21- member advisory panel on Science, Technology and innovation called Prime Minister's Science, Technology and Innovation Advisory Council (PM-STIAC), headed by _____.

Options :

1. ✖ Subhash Kak

2. ✖ AS Kiran Kumar
3. ✖ VK Saraswat
4. ✔ K Vijay Raghavan

Question Number : 40 Question Id : 16794319627 Question Type : MCQ Option Shuffling : Yes Display Question Number : Yes
Single Line Question Option : No Option Orientation : Vertical

Correct Marks : 1 Wrong Marks : 0.25

केंद्र सरकार ने _____ की अध्यक्षता में प्रधानमंत्री विज्ञान, प्रौद्योगिकी और नवाचार सलाहकार परिषद (PM-STIAC) नामक विज्ञान, प्रौद्योगिकी और नवाचार पर नए 21- सदस्यीय सलाहकार पैनल का गठन किया है।

Options :

1. ✖ सुभाष काक
2. ✖ ए. एस. किरण कुमार
3. ✖ वी. के. सारस्वत
4. ✔ के. विजय राघवन

Arithmetic Ability

Group Number :	3
Group Id :	167943746
Group Maximum Duration :	0
Group Minimum Duration :	0
Revisit allowed for view? :	No
Revisit allowed for edit? :	No
Break time:	0
Group Marks:	20
Revisit allowed for group Instructions? :	Yes
Maximum Instruction Time:	0
Minimum Instruction Time:	0

Arithmetic Ability

Section Id :	167943811
Section Number :	1
Section type :	Online
Mandatory or Optional:	Mandatory
Number of Questions:	19
Number of Questions to be attempted:	19
Section Marks:	20
Display Number Panel:	Yes

Group All Questions:

No

Sub-Section Number:

1

Sub-Section Id:

1679431249

Question Shuffling Allowed :

Yes

Question Number : 41 Question Id : 16794319628 Question Type : MCQ Option Shuffling : Yes Display Question Number : Yes
Single Line Question Option : No Option Orientation : Vertical

Correct Marks : 1 Wrong Marks : 0.25

The value of $\frac{(0.2 \times 0.3 \times 0.173) \div (0.2 \div 0.2 \text{ of } 0.1 - 0.03 \div 0.6 \text{ of } 0.01)}{0.12 \text{ of } (0.0123 - 0.004) + 0.36 \times 0.003}$ is:

Options :

1. ✖ 0.1

2. ✖ 0.2

3. ✖ 0.5

4. ✔ 1

Question Number : 41 Question Id : 16794319628 Question Type : MCQ Option Shuffling : Yes Display Question Number : Yes
Single Line Question Option : No Option Orientation : Vertical

Correct Marks : 1 Wrong Marks : 0.25

$\frac{(0.2 \times 0.3 \times 0.173) \div (0.2 \div 0.2 \text{ of } 0.1 - 0.03 \div 0.6 \text{ of } 0.01)}{0.12 \text{ of } (0.0123 - 0.004) + 0.36 \times 0.003}$ का मान है:

Options :

1. ✖ 0.1

2. ✖ 0.2

3. ✖ 0.5

4. ✔ 1

Question Number : 42 Question Id : 16794319629 Question Type : MCQ Option Shuffling : Yes Display Question Number : Yes
Single Line Question Option : No Option Orientation : Vertical

Correct Marks : 1 Wrong Marks : 0.25

If $\frac{\sqrt{5+2\sqrt{6}} - \sqrt{5-2\sqrt{6}}}{(4\sqrt{3}-5\sqrt{2}) \times (3\sqrt{2}+4\sqrt{3})} = a\sqrt{2} + b\sqrt{3}$, Then the value of (a-b) is:

Options :

1. ✖ $-\frac{1}{3}$

2. ✖ $\frac{1}{3}$

3. ✔ $-\frac{1}{15}$

4. ✖ $\frac{1}{15}$

Question Number : 42 Question Id : 16794319629 Question Type : MCQ Option Shuffling : Yes Display Question Number : Yes
Single Line Question Option : No Option Orientation : Vertical

Correct Marks : 1 Wrong Marks : 0.25

यदि $\frac{\sqrt{5+2\sqrt{6}} - \sqrt{5-2\sqrt{6}}}{(4\sqrt{3}-5\sqrt{2}) \times (3\sqrt{2}+4\sqrt{3})} = a\sqrt{2} + b\sqrt{3}$ है तो (a-b) का मान है:

Options :

1. ✖ $-\frac{1}{3}$

2. ✖ $\frac{1}{3}$

3. ✔ $-\frac{1}{15}$

4. ✖ $\frac{1}{15}$

Question Number : 43 Question Id : 16794319630 Question Type : MCQ Option Shuffling : Yes Display Question Number : Yes
Single Line Question Option : No Option Orientation : Vertical

Correct Marks : 1 Wrong Marks : 0.25

The value of $\frac{\left(7\frac{3}{4} \text{ of } \frac{5}{31}\right) \div \left(15\frac{1}{3} \text{ of } \frac{2}{23}\right) \times 1\frac{1}{3}}{1\frac{2}{3} + \left[16\frac{1}{2} - \left\{1\frac{1}{10} \times \left(3\frac{1}{3} + 5\right)\right\}\right]}$ is:

Options :

1. ✔ $\frac{5}{36}$

2. ✖ $\frac{4}{9}$

3. ✖ $\frac{5}{9}$

4. ✖ $\frac{5}{144}$

Question Number : 43 Question Id : 16794319630 Question Type : MCQ Option Shuffling : Yes Display Question Number : Yes
Single Line Question Option : No Option Orientation : Vertical

Correct Marks : 1 Wrong Marks : 0.25

$$\frac{\left(7\frac{3}{4} \text{ of } \frac{5}{31}\right) \div \left(15\frac{1}{3} \text{ of } \frac{2}{23}\right) \times 1\frac{1}{3}}{1\frac{2}{3} + \left[16\frac{1}{2} - \left\{1\frac{1}{10} \times \left(3\frac{1}{3} + 5\right)\right\}]} \text{ का मान है:}$$

Options :

1. ✔ $\frac{5}{36}$

2. ✖ $\frac{4}{9}$

3. ✖ $\frac{5}{9}$

4. ✖ $\frac{5}{144}$

Question Number : 44 Question Id : 16794319631 Question Type : MCQ Option Shuffling : Yes Display Question Number : Yes
Single Line Question Option : No Option Orientation : Vertical

Correct Marks : 1 Wrong Marks : 0.25

Let x be the least number which when divided by 21, 33, 35 and 55, leaves a remainder of 3 in each, but is exactly divisible by 67. What is the sum of the digits of x ?

Options :

1. ✖ 12

2. ✔ 15

3. ✖ 16

4. ✖ 17

Question Number : 44 Question Id : 16794319631 Question Type : MCQ Option Shuffling : Yes Display Question Number : Yes
Single Line Question Option : No Option Orientation : Vertical

Correct Marks : 1 Wrong Marks : 0.25

माना की x वह छोटी से छोटी संख्या है, जिसे जब 21, 33, 35 और 55 से भाग दिया जाए, तो प्रत्येक दशा में शेषफल 3 होता है, लेकिन x , 67 से पूर्णतः विभाज्य है। x के अंको का योग क्या है?

Options :

1. ✖ 12

2. ✔ 15

3. ✖ 16

4. ✖ 17

Question Number : 45 Question Id : 16794319632 Question Type : MCQ Option Shuffling : Yes Display Question Number : Yes
Single Line Question Option : No Option Orientation : Vertical

Correct Marks : 1 Wrong Marks : 0.25

The price of oil is increased by 20%. However, the expenditure unit increases by 10% only. What is the percentage increase or decrease in consumption?

Options :

1. ✖ 10%, increase

2. ✖ 10%, decrease

3. ✖ $8\frac{1}{3}\%$, increase

4. ✔ $8\frac{1}{3}\%$, decrease

Question Number : 45 Question Id : 16794319632 Question Type : MCQ Option Shuffling : Yes Display Question Number : Yes
Single Line Question Option : No Option Orientation : Vertical

Correct Marks : 1 Wrong Marks : 0.25

तेल के मूल्य में 20% की वृद्धि होती है। लेकिन इस पर हुए खर्च में केवल 10% की वृद्धि होती है। तेल की खपत में कितने प्रतिशत की वृद्धि या कमी हुई?

Options :

1. ✖ 10%, वृद्धि

2. ✖ 10%, कमी

3. ✖ $8\frac{1}{3}\%$, वृद्धि

4. ✔ $8\frac{1}{3}\%$, कमी

Question Number : 46 Question Id : 16794319633 Question Type : MCQ Option Shuffling : Yes Display Question Number : Yes
Single Line Question Option : No Option Orientation : Vertical

Correct Marks : 1 Wrong Marks : 0.25

Income of A is equal to $x\%$ of income of B and expenditure of A is 80% of B's expenditure. If A's income is equal to 90% of B's expenditure and the ratio of the savings of A to that of B is 1:2, then the value of x is:

Options :

1. ✖ 60

2. ✖ 70

3. ✔ 75

4. ✖ 80

Question Number : 46 Question Id : 16794319633 Question Type : MCQ Option Shuffling : Yes Display Question Number : Yes
Single Line Question Option : No Option Orientation : Vertical

Correct Marks : 1 Wrong Marks : 0.25

A की आय B की आय के $x\%$ के बराबर है और A का व्यय B के व्यय के 80% के बराबर है। यदि A की आय B के खर्च के 90% के बराबर है, और A की बचत और B की बचत में 1 : 2 का अनुपात है, तो x का मान है:

Options :

1. ✖ 60

2. ✖ 70

3. ✔ 75

4. ✖ 80

Question Number : 47 Question Id : 16794319634 Question Type : MCQ Option Shuffling : Yes Display Question Number : Yes
Single Line Question Option : No Option Orientation : Vertical

Correct Marks : 1 Wrong Marks : 0.25

Anvi sells her watch at a loss of 5%. If she had sold it for ₹ 255 more, she would have gained 10%. What will be the selling price, if she sells it at a gain of 8%?

Options :

1. ✖ ₹ 1600

2. ✔ ₹ 1620

3. ✖ ₹ 1650

4. ✖ ₹ 1680

Question Number : 47 Question Id : 16794319634 Question Type : MCQ Option Shuffling : Yes Display Question Number : Yes
Single Line Question Option : No Option Orientation : Vertical

Correct Marks : 1 Wrong Marks : 0.25

अनवी अपनी घड़ी 5% हानी पर बेचती है। यदि वह उसको ₹ 255 अधिक पर बेचती तो उसे 10% का लाभ होता। यदि वह घड़ी को 8% लाभ पर बेचती है, तो इसका विक्रय मूल्य क्या होगा?

Options :

1. ✖ ₹ 1600

2. ✔ ₹ 1620

3. ✖ ₹ 1650

4. ✖ ₹ 1680

Question Number : 48 Question Id : 16794319635 Question Type : MCQ Option Shuffling : Yes Display Question Number : Yes
Single Line Question Option : No Option Orientation : Vertical

Correct Marks : 1 Wrong Marks : 0.25

A shopkeeper offers discounts on the marked price on the bases of the number of articles purchased. He gives 10% discount when 5 articles are purchased and $12\frac{1}{2}\%$ discount when 8 articles are purchased. If the profit in both cases is equal, then an article is marked at what percent above the cost price?

Options :

1. ✖ 12%

2. ✖ 15%

3. ✖ 18%

4. ✔ 20%

Question Number : 48 Question Id : 16794319635 Question Type : MCQ Option Shuffling : Yes Display Question Number : Yes
Single Line Question Option : No Option Orientation : Vertical

Correct Marks : 1 Wrong Marks : 0.25

एक दुकानदार खरीदी जाने वाली वस्तुओं की संख्या के आधार पर वस्तुओं के अंकित मूल्य पे छूट देता है। जब 5 वस्तुएं खरीदी जाती है, तो वह 10% की छूट देता है। और यदि 8 वस्तुएं खरीदी जाती है तो वह $12\frac{1}{2}\%$ की छूट देता है। यदि दोनों स्थितियों में लाभ समान हो, तो एक वस्तु को उसके क्रयमूल्य से कितने अधिक प्रतिशत पर अंकित किया गया है?

Options :

1. ✖ 12%

2. ✖ 15%

3. ✖ 18%

4. ✓ 20%

Question Number : 49 Question Id : 16794319636 Question Type : MCQ Option Shuffling : Yes Display Question Number : Yes
Single Line Question Option : No Option Orientation : Vertical

Correct Marks : 1 Wrong Marks : 0.25

There are three positive numbers. One-third of average of all the three numbers is 8 less than the greatest number of the three numbers. The average of lowest and the second lowest number is 8. The greatest number is:

Options :

1. ✗ 9

2. ✗ 10

3. ✓ 11

4. ✗ 13

Question Number : 49 Question Id : 16794319636 Question Type : MCQ Option Shuffling : Yes Display Question Number : Yes
Single Line Question Option : No Option Orientation : Vertical

Correct Marks : 1 Wrong Marks : 0.25

तीन धनात्मक संख्याएँ हैं। तीनों के औसत का एक तिहाई उनमें से सबसे बड़ी संख्या से 8 कम है। सबसे छोटी तथा उससे ठीक अगली बड़ी संख्या का औसत 8 है। सबसे बड़ी संख्या है:

Options :

1. ✗ 9

2. ✗ 10

3. ✓ 11

4. ✗ 13

Question Number : 50 Question Id : 16794319637 Question Type : MCQ Option Shuffling : Yes Display Question Number : Yes
Single Line Question Option : No Option Orientation : Vertical

Correct Marks : 1 Wrong Marks : 0.25

A certain sum was lent for 3 years at 5% per annum, compound interest. If the interest for the third year is ₹ 21 more than that for the second year, then the same sum will amount to what in $2\frac{2}{5}$ year at double the earlier rate, interest compounded yearly? (nearest to one ₹)

Options :

1. ✗ ₹ 10076

2. ✓ ₹ 10067

3. ✗ ₹ 10176

4. ✖ ₹ 10167

Question Number : 50 Question Id : 16794319637 Question Type : MCQ Option Shuffling : Yes Display Question Number : Yes
Single Line Question Option : No Option Orientation : Vertical

Correct Marks : 1 Wrong Marks : 0.25

एक राशि 5% वार्षिक दर पर 3 वर्ष के लिए चक्रवृद्धि ब्याज पर उधार ली गई। यदि तीसरे वर्ष का ब्याज दूसरे वर्ष के ब्याज से ₹ 21 अधिक है, तो उस राशि का $2\frac{2}{5}$ वर्ष में उससे दुगुनी ब्याज दर से कितना मिश्रधन हो जाएगा, यदि ब्याज वार्षिक संयोजित है ? (₹ 1 के निकटतम)

Options :

1. ✖ ₹ 10076

2. ✔ ₹ 10067

3. ✖ ₹ 10176

4. ✖ ₹ 10167

Question Number : 51 Question Id : 16794319638 Question Type : MCQ Option Shuffling : Yes Display Question Number : Yes
Single Line Question Option : No Option Orientation : Vertical

Correct Marks : 1 Wrong Marks : 0.25

Two numbers are such that their mean proportional is 6 and third proportional is $20\frac{1}{4}$. What is the difference between the numbers?

Options :

1. ✖ 2

2. ✖ 3

3. ✖ 4

4. ✔ 5

Question Number : 51 Question Id : 16794319638 Question Type : MCQ Option Shuffling : Yes Display Question Number : Yes
Single Line Question Option : No Option Orientation : Vertical

Correct Marks : 1 Wrong Marks : 0.25

दो संख्याएँ इस प्रकार हैं की उनका मध्यानुपाती 6 है तथा तृतीयानुपाती $20\frac{1}{4}$ है। संख्याओं में अंतर है:

Options :

1. ✖ 2

2. ✖ 3

3. ✖ 4

4. ✓ 5

Question Number : 52 Question Id : 16794319639 Question Type : MCQ Option Shuffling : Yes Display Question Number : Yes
Single Line Question Option : No Option Orientation : Vertical

Correct Marks : 1 Wrong Marks : 0.25

One year ago, the ratio of salaries of A and B was 4 : 5. The ratio of their individual salaries of last year and present year are 3 : 4 and 2 : 5 respectively. If their total salary for the present year is ₹ 256800, then what is the present salary of B?

Options :

1. ✗ ₹ 157600

2. ✗ ₹ 172000

3. ✗ ₹ 176800

4. ✓ ₹ 180000

Question Number : 52 Question Id : 16794319639 Question Type : MCQ Option Shuffling : Yes Display Question Number : Yes
Single Line Question Option : No Option Orientation : Vertical

Correct Marks : 1 Wrong Marks : 0.25

एक वर्ष पहले, A और B की आयो में 4 : 5 का अनुपात था। पिछले वर्ष तथा वर्तमान वर्ष में उनकी व्यक्तिगत आयो में अनुपात क्रमशः 3 : 4 तथा 2 : 5 है। यदि वर्तमान वर्ष में उनकी कुल आय ₹ 256800 है, तो B की वर्तमान आय क्या है।

Options :

1. ✗ ₹ 157600

2. ✗ ₹ 172000

3. ✗ ₹ 176800

4. ✓ ₹ 180000

Question Number : 53 Question Id : 16794319640 Question Type : MCQ Option Shuffling : Yes Display Question Number : Yes
Single Line Question Option : No Option Orientation : Vertical

Correct Marks : 1 Wrong Marks : 0.25

ABCD is a quadrilateral in which AB = 9 cm, BC = 40 cm, CD = 28 cm, and AD = 15 cm. If AC = 41 cm, then the area (in cm^2) of the quadrilateral is:

Options :

1. ✗ 270

2. ✗ 282

3. ✓ 306

4. ✖ 390

Question Number : 53 Question Id : 16794319640 Question Type : MCQ Option Shuffling : Yes Display Question Number : Yes
Single Line Question Option : No Option Orientation : Vertical

Correct Marks : 1 Wrong Marks : 0.25

ABCD एक चतुर्भुज है, जिसमें $AB = 9 \text{ cm}$, $BC = 40 \text{ cm}$, $CD = 28 \text{ cm}$ और $AD = 15 \text{ cm}$ है। यदि $AC = 41 \text{ cm}$ है, तो चतुर्भुज का क्षेत्रफल (cm^2 में) है:

Options :

1. ✖ 270

2. ✖ 282

3. ✔ 306

4. ✖ 390

Question Number : 54 Question Id : 16794319641 Question Type : MCQ Option Shuffling : Yes Display Question Number : Yes
Single Line Question Option : No Option Orientation : Vertical

Correct Marks : 1 Wrong Marks : 0.25

The radius and height of a cone are in the ratio 4:3. If the area of the base is 154 cm^2 , then its curved surface area (in cm^2) will be: (Take $\pi = \frac{22}{7}$)

Options :

1. ✖ 183.6

2. ✔ 192.5

3. ✖ 186.8

4. ✖ 198.2

Question Number : 54 Question Id : 16794319641 Question Type : MCQ Option Shuffling : Yes Display Question Number : Yes
Single Line Question Option : No Option Orientation : Vertical

Correct Marks : 1 Wrong Marks : 0.25

किसी शंकु की त्रिज्या और ऊँचाई में 4 : 3 का अनुपात है। यदि इसके आधार का क्षेत्रफल 154 cm^2 है, तो इसका वक्र पृष्ठीय क्षेत्रफल (cm^2 में) क्या होगा? ($\pi = \frac{22}{7}$ लीजिए)

Options :

1. ✖ 183.6

2. ✔ 192.5

3. ✖ 186.8

4. ✖ 198.2

Question Number : 55 Question Id : 16794319642 Question Type : MCQ Option Shuffling : Yes Display Question Number : Yes
Single Line Question Option : No Option Orientation : Vertical

Correct Marks : 1 Wrong Marks : 0.25

A 100 m long train takes 7.2 seconds to cross a person walking at 5 km/h in the direction opposite to that of the train.
What is the speed (in km/h) of the train?

Options :

1. ✔ 45

2. ✖ 48

3. ✖ 50

4. ✖ 54

Question Number : 55 Question Id : 16794319642 Question Type : MCQ Option Shuffling : Yes Display Question Number : Yes
Single Line Question Option : No Option Orientation : Vertical

Correct Marks : 1 Wrong Marks : 0.25

100 m लंबी एक रेलगाड़ी, विपरीत दिशा में 5 km/h की गति से चल रहे एक व्यक्ति को 7.2 सेकंड में पार कर लेती है। रेलगाड़ी की गति (km/h में) क्या है?

Options :

1. ✔ 45

2. ✖ 48

3. ✖ 50

4. ✖ 54

Question Number : 56 Question Id : 16794319643 Question Type : MCQ Option Shuffling : Yes Display Question Number : Yes
Single Line Question Option : No Option Orientation : Vertical

Correct Marks : 1 Wrong Marks : 0.25

Ravi rowed a certain distance downstream in $7\frac{1}{2}$ hours while it took him $12\frac{1}{2}$ hours to row the same distance upstream.
To make the two-way journey in still water, how many hours will it take him?

Options :

1. ✖ $18\frac{1}{2}$

2. ✖ 18

3. ✓ $18\frac{3}{4}$

4. ✗ 20

Question Number : 56 Question Id : 16794319643 Question Type : MCQ Option Shuffling : Yes Display Question Number : Yes
Single Line Question Option : No Option Orientation : Vertical

Correct Marks : 1 Wrong Marks : 0.25

धारा के अनुकूल चलते हुए एक निश्चित दूरी को रवि ने $7\frac{1}{2}$ घंटे में तय किया, जबकि उतनी ही दूरी को धारा के प्रतिकूल जाते हुए $12\frac{1}{2}$ घंटे में तय किया। शांत जल में उतनी ही दूरी पर जाने तथा फिर उसी स्थान पर वापस आने में उसे कितना समय लगेगा?

Options :

1. ✗ $18\frac{1}{2}$ घंटे

2. ✗ 18 घंटे

3. ✓ $18\frac{3}{4}$ घंटे

4. ✗ 20 घंटे

Question Number : 57 Question Id : 16794319644 Question Type : MCQ Option Shuffling : Yes Display Question Number : Yes
Single Line Question Option : No Option Orientation : Vertical

Correct Marks : 1 Wrong Marks : 0.25

3 men and 8 women together can do a piece of work in 16 days whereas 6 men and 7 women can do it in $12\frac{1}{2}$ days. How many women should assist 14 men to complete the same work in 8 days?

Options :

1. ✗ 3

2. ✓ 4

3. ✗ 5

4. ✗ 6

Question Number : 57 Question Id : 16794319644 Question Type : MCQ Option Shuffling : Yes Display Question Number : Yes
Single Line Question Option : No Option Orientation : Vertical

Correct Marks : 1 Wrong Marks : 0.25

3 पुरुष और 8 महिलाएं एक काम को साथ मिलकर 16 दिन में पूरा कर सकते हैं, जब की 6 पुरुष और 7 महिलाएं उसी काम को $12\frac{1}{2}$ दिन में पूरा कर सकते हैं। 14 पुरुषों को कितने महिलाओं के मदद की आवश्यकता होगी अगर इसी काम को 8 दिन में पूरा करना है?

Options :

1. ✖ 3

2. ✔ 4

3. ✖ 5

4. ✖ 6

Question Number : 58 Question Id : 16794319645 Question Type : MCQ Option Shuffling : Yes Display Question Number : Yes
Single Line Question Option : No Option Orientation : Vertical

Correct Marks : 1 Wrong Marks : 0.25

Working together A and B can complete a work in 5 days. If A had worked twice as fast the work would have been completed in 4 days. A starts the work with his normal capacity and leaves after 5 days. The remaining work will be completed by B in:

Options :

1. ✖ 4 days

2. ✖ 8 days

3. ✔ 5 days

4. ✖ 10 days

Question Number : 58 Question Id : 16794319645 Question Type : MCQ Option Shuffling : Yes Display Question Number : Yes
Single Line Question Option : No Option Orientation : Vertical

Correct Marks : 1 Wrong Marks : 0.25

साथ मिलकर A और B किसी एक काम को 5 दिन में पूरा करते हैं। अगर A दोगुना गति से काम करता तो यह काम 4 दिन में खतम हो जाता। A अपनी साधारण क्षमता से काम को चालू करता है और 5 दिन के बाद काम छोड़कर चला जाता है। बचा हुआ काम B कितने दिनों में पूरा करेगा?

Options :

1. ✖ 4 दिन

2. ✖ 8 दिन

3. ✔ 5 दिन

4. ✖ 10 दिन

Sub-Section Id:

1679431250

Question Shuffling Allowed :

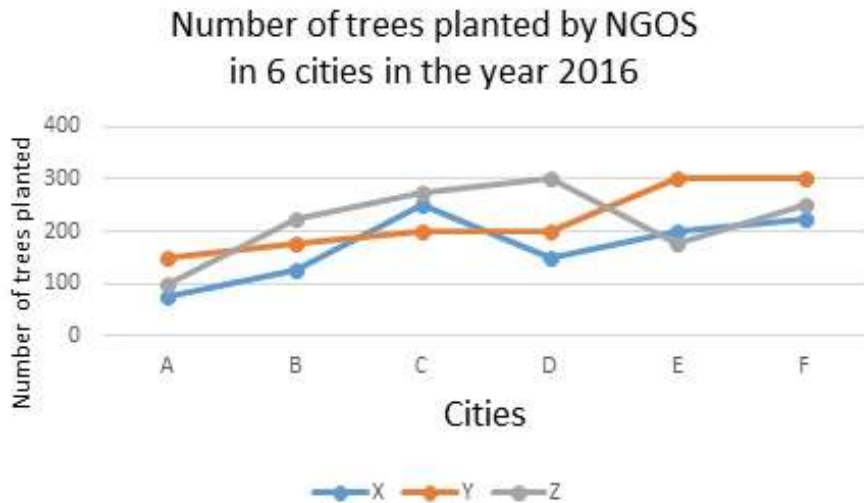
Yes

Question Id : 16794319646 Question Type : COMPREHENSION Sub Question Shuffling Allowed : Yes Group Comprehension Questions : No

Question Numbers : (59 to 60)

Question Label : Comprehension

Study the following graph and answer the two questions based on it.



Sub questions

Question Number : 59 Question Id : 16794319647 Question Type : MCQ Option Shuffling : Yes Display Question Number : Yes Single Line Question Option : No Option Orientation : Vertical

Correct Marks : 1 Wrong Marks : 0.25

The ratio of the number of trees planted by 'X' in cities A and D together to that planted by 'Y' in cities A and F together to that planted by 'Z' in B and D together is:

Options :

1. ✖ 2 : 3 : 7

2. ✔ 3 : 6 : 7

3. ✖ 4 : 6 : 9

4. ✖ 5 : 6 : 7

Question Number : 60 Question Id : 16794319648 Question Type : MCQ Option Shuffling : Yes Display Question Number : Yes Single Line Question Option : No Option Orientation : Vertical

Correct Marks : 1 Wrong Marks : 0.25

The difference between the total number of trees planted by 'X' and 'Y' in all the six cities is approximately what percent of total number of trees planted by 'Z' in cities B, E and D?

Options :

1. ✖ 34%
2. ✖ 38%
3. ✖ 41%
4. ✔ 43%

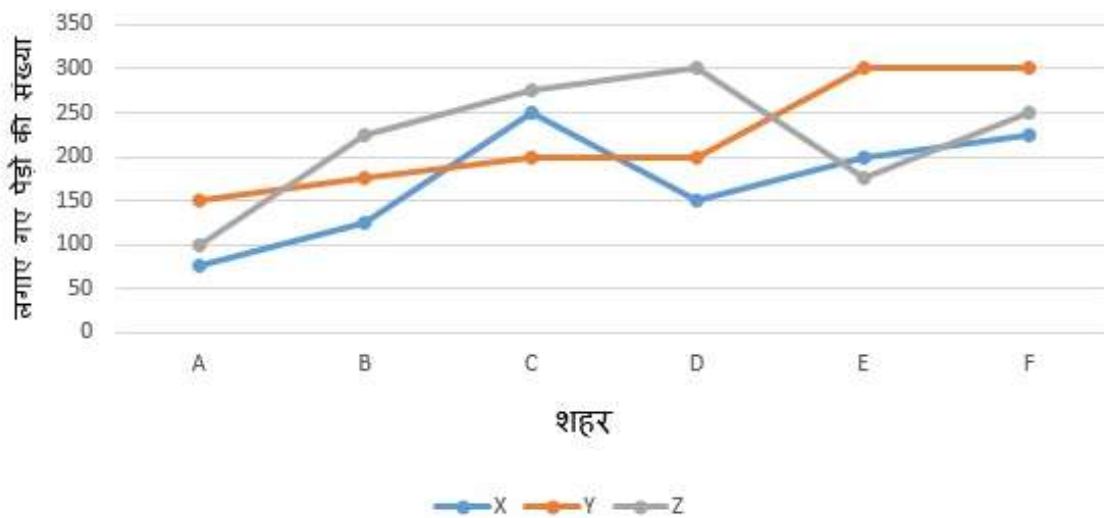
Question Id : 16794319646 Question Type : COMPREHENSION Sub Question Shuffling Allowed : Yes Group Comprehension Questions : No

Question Numbers : (59 to 60)

Question Label : Comprehension

निम्नलिखित तालिका वर्ष 2016 और 2017 के लिए कंपनी 'एक्सवार्डजेड' की बिक्री के बारे में जानकारी दिखाता है।

एनजीओएस द्वारा लगाए गए पेड़ों की संख्या
वर्ष 2016 में 6 शहरों में



Sub questions

Question Number : 59 Question Id : 16794319647 Question Type : MCQ Option Shuffling : Yes Display Question Number : Yes Single Line Question Option : No Option Orientation : Vertical

Correct Marks : 1 Wrong Marks : 0.25

X द्वारा शहर A और D में लगाए गए कुल पेड़ों की संख्या, Y द्वारा शहर A और F में लगाए गए कुल पेड़ों की संख्या, और Z द्वारा शहर B और D में लगाए गए पेड़ों की कुल संख्या इनके बीच क्या अनुपात है?

Options :

1. ✖ 2 : 3 : 7

2. ✓ 3 : 6 : 7

3. ✗ 4 : 6 : 9

4. ✗ 5 : 6 : 7

Question Number : 60 Question Id : 16794319648 Question Type : MCQ Option Shuffling : Yes Display Question Number : Yes
Single Line Question Option : No Option Orientation : Vertical

Correct Marks : 1 Wrong Marks : 0.25

सभी छह शहरों में 'X' और 'Y' द्वारा लगाए गए पेड़ों की कुल संख्या के बीच अंतर, B, E और D शहरों में 'Z' द्वारा लगाए गए पेड़ों की कुल संख्या का कितना प्रतिशत है?

Options :

1. ✗ 34%

2. ✗ 38%

3. ✗ 41%

4. ✓ 43%

General English

Group Number :	4
Group Id :	167943747
Group Maximum Duration :	0
Group Minimum Duration :	0
Revisit allowed for view? :	No
Revisit allowed for edit? :	No
Break time:	0
Group Marks:	20
Revisit allowed for group Instructions? :	Yes
Maximum Instruction Time:	0
Minimum Instruction Time:	0

General English

Section Id :	167943812
Section Number :	1
Section type :	Online
Mandatory or Optional:	Mandatory
Number of Questions:	16
Number of Questions to be attempted:	16

Section Marks:	20
Display Number Panel:	Yes
Group All Questions:	No

Sub-Section Number:	1
Sub-Section Id:	1679431251
Question Shuffling Allowed :	Yes

Question Number : 61 Question Id : 16794319649 Question Type : MCQ Option Shuffling : Yes Display Question Number : Yes
Single Line Question Option : No Option Orientation : Vertical

Correct Marks : 1 Wrong Marks : 0.25

Choose the option that comes closest in meaning to the given word.

CONFINE

Options :

1. ✖ Detain
2. ✔ Imprison
3. ✖ Impose
4. ✖ Obstruct

Question Number : 61 Question Id : 16794319649 Question Type : MCQ Option Shuffling : Yes Display Question Number : Yes
Single Line Question Option : No Option Orientation : Vertical

Correct Marks : 1 Wrong Marks : 0.25

Choose the option that comes closest in meaning to the given word.

CONFINE

Options :

1. ✖ Detain
2. ✔ Imprison
3. ✖ Impose
4. ✖ Obstruct

Question Number : 62 Question Id : 16794319650 Question Type : MCQ Option Shuffling : Yes Display Question Number : Yes
Single Line Question Option : No Option Orientation : Vertical

Correct Marks : 1 Wrong Marks : 0.25

Choose the option that comes closest in meaning to the given word.

BRISK

Options :

1. ☒ Hurried
2. ☐ Slow
3. ☐ Clumsy
4. ☐ Anxious

Question Number : 62 Question Id : 16794319650 Question Type : MCQ Option Shuffling : Yes Display Question Number : Yes
Single Line Question Option : No Option Orientation : Vertical

Correct Marks : 1 Wrong Marks : 0.25

Choose the option that comes closest in meaning to the given word.

BRISK

Options :

1. ☒ Hurried
2. ☐ Slow
3. ☐ Clumsy
4. ☐ Anxious

Question Number : 63 Question Id : 16794319651 Question Type : MCQ Option Shuffling : Yes Display Question Number : Yes
Single Line Question Option : No Option Orientation : Vertical

Correct Marks : 1 Wrong Marks : 0.25

Choose the option that is opposite in meaning of the given word.

TRIVIAL

Options :

1. ☐ Minor
2. ☐ Useful
3. ☒ Significant
4. ☐ Enormous

Question Number : 63 Question Id : 16794319651 Question Type : MCQ Option Shuffling : Yes Display Question Number : Yes
Single Line Question Option : No Option Orientation : Vertical

Correct Marks : 1 Wrong Marks : 0.25

Choose the option that is opposite in meaning of the given word.

TRIVIAL

Options :

1. ✖ Minor
2. ✖ Useful
3. ✔ Significant
4. ✖ Enormous

Question Number : 64 Question Id : 16794319652 Question Type : MCQ Option Shuffling : Yes Display Question Number : Yes
Single Line Question Option : No Option Orientation : Vertical

Correct Marks : 1 Wrong Marks : 0.25

Choose the option that is opposite in meaning of the given word.

PROLONG

Options :

1. ✖ Contract
2. ✖ Weaken
3. ✖ Compress
4. ✔ Shorten

Question Number : 64 Question Id : 16794319652 Question Type : MCQ Option Shuffling : Yes Display Question Number : Yes
Single Line Question Option : No Option Orientation : Vertical

Correct Marks : 1 Wrong Marks : 0.25

Choose the option that is opposite in meaning of the given word.

PROLONG

Options :

1. ✖ Contract
2. ✖ Weaken
3. ✖ Compress
4. ✔ Shorten

Question Number : 65 Question Id : 16794319653 Question Type : MCQ Option Shuffling : Yes Display Question Number : Yes
Single Line Question Option : No Option Orientation : Vertical

Correct Marks : 1 Wrong Marks : 0.25

Choose the word/phrase that best completes the sentence.

He suspected a double meaning in her words, but _____ the thought.

Options :

1. ☒ dismissed
2. ☐ distanced
3. ☐ dissolved
4. ☐ discharged

Question Number : 65 Question Id : 16794319653 Question Type : MCQ Option Shuffling : Yes Display Question Number : Yes
Single Line Question Option : No Option Orientation : Vertical

Correct Marks : 1 Wrong Marks : 0.25

Choose the word/phrase that best completes the sentence.

He suspected a double meaning in her words, but _____ the thought.

Options :

1. ☒ dismissed
2. ☐ distanced
3. ☐ dissolved
4. ☐ discharged

Question Number : 66 Question Id : 16794319654 Question Type : MCQ Option Shuffling : Yes Display Question Number : Yes
Single Line Question Option : No Option Orientation : Vertical

Correct Marks : 1 Wrong Marks : 0.25

Choose the word/phrase that best completes the sentence.

No one expects you to learn the _____ of the trade on your first day at work.

Options :

1. ☐ in and out
2. ☐ out and out
3. ☒ ins and outs

4. ✖ out and about

Question Number : 66 Question Id : 16794319654 Question Type : MCQ Option Shuffling : Yes Display Question Number : Yes
Single Line Question Option : No Option Orientation : Vertical

Correct Marks : 1 Wrong Marks : 0.25

Choose the word/phrase that best completes the sentence.

No one expects you to learn the _____ of the trade on your first day at work.

Options :

1. ✖ in and out

2. ✖ out and out

3. ✔ ins and outs

4. ✖ out and about

Question Number : 67 Question Id : 16794319655 Question Type : MCQ Option Shuffling : Yes Display Question Number : Yes
Single Line Question Option : No Option Orientation : Vertical

Correct Marks : 1 Wrong Marks : 0.25

Choose the option that best captures the meaning of the underlined phrase.

My car broke down on my way to the meeting.

Options :

1. ✖ ran out of petrol

2. ✖ met with an accident

3. ✖ started crying

4. ✔ stopped working

Question Number : 67 Question Id : 16794319655 Question Type : MCQ Option Shuffling : Yes Display Question Number : Yes
Single Line Question Option : No Option Orientation : Vertical

Correct Marks : 1 Wrong Marks : 0.25

Choose the option that best captures the meaning of the underlined phrase.

My car broke down on my way to the meeting.

Options :

1. ✖ ran out of petrol

2. ✖ met with an accident

3. ✖ started crying

4. ✔ stopped working

Question Number : 68 Question Id : 16794319656 Question Type : MCQ Option Shuffling : Yes Display Question Number : Yes
Single Line Question Option : No Option Orientation : Vertical

Correct Marks : 1 Wrong Marks : 0.25

Choose the most appropriate article to complete the sentence.

Vysakh was found to possess _____ required qualification for the job.

Options :

1. ✖ a

2. ✖ an

3. ✔ the

4. ✖ No article

Question Number : 68 Question Id : 16794319656 Question Type : MCQ Option Shuffling : Yes Display Question Number : Yes
Single Line Question Option : No Option Orientation : Vertical

Correct Marks : 1 Wrong Marks : 0.25

Choose the most appropriate article to complete the sentence.

Vysakh was found to possess _____ required qualification for the job.

Options :

1. ✖ a

2. ✖ an

3. ✔ the

4. ✖ No article

Question Number : 69 Question Id : 16794319657 Question Type : MCQ Option Shuffling : Yes Display Question Number : Yes
Single Line Question Option : No Option Orientation : Vertical

Correct Marks : 1 Wrong Marks : 0.25

Choose the most appropriate option to complete the sentence.

The man was accused _____ stealing his employer's laptop.

Options :

1. ☒ of
2. ☐ with
3. ☐ for
4. ☐ on

Question Number : 69 Question Id : 16794319657 Question Type : MCQ Option Shuffling : Yes Display Question Number : Yes
Single Line Question Option : No Option Orientation : Vertical
Correct Marks : 1 Wrong Marks : 0.25

Choose the most appropriate option to complete the sentence.

The man was accused _____ stealing his employer's laptop.

Options :

1. ☒ of
2. ☐ with
3. ☐ for
4. ☐ on

Question Number : 70 Question Id : 16794319658 Question Type : MCQ Option Shuffling : Yes Display Question Number : Yes
Single Line Question Option : No Option Orientation : Vertical
Correct Marks : 1 Wrong Marks : 0.25

Choose the most appropriate option to complete the sentence.

Double glazed windows have two panes of glasses and air _____ between them, preventing escape of heat

Options :

1. ☐ had trapped
2. ☒ is trapped
3. ☐ was trapped
4. ☐ was being trapped

Question Number : 70 Question Id : 16794319658 Question Type : MCQ Option Shuffling : Yes Display Question Number : Yes
Single Line Question Option : No Option Orientation : Vertical
Correct Marks : 1 Wrong Marks : 0.25

Choose the most appropriate option to complete the sentence.

Double glazed windows have two panes of glasses and air _____ between them, preventing escape of heat

Options :

1. ✖ had trapped
2. ✔ is trapped
3. ✖ was trapped
4. ✖ was being trapped

Question Number : 71 Question Id : 16794319659 Question Type : MCQ Option Shuffling : Yes Display Question Number : Yes
Single Line Question Option : No Option Orientation : Vertical

Correct Marks : 1 Wrong Marks : 0.25

Choose the most appropriate phrase to complete the sentence.

If my husband _____ us a big dinner tonight, I would have suggested that we go to that nice Italian restaurant.

Options :

1. ✖ wouldn't be making
2. ✖ hadn't made
3. ✔ wasn't making
4. ✖ hadn't been making

Question Number : 71 Question Id : 16794319659 Question Type : MCQ Option Shuffling : Yes Display Question Number : Yes
Single Line Question Option : No Option Orientation : Vertical

Correct Marks : 1 Wrong Marks : 0.25

Choose the most appropriate phrase to complete the sentence.

If my husband _____ us a big dinner tonight, I would have suggested that we go to that nice Italian restaurant.

Options :

1. ✖ wouldn't be making
2. ✖ hadn't made
3. ✔ wasn't making
4. ✖ hadn't been making

Question Number : 72 Question Id : 16794319660 Question Type : MCQ Option Shuffling : Yes Display Question Number : Yes
Single Line Question Option : No Option Orientation : Vertical

Correct Marks : 1 Wrong Marks : 0.25

Choose the most appropriate phrase to complete the sentence.

Ravi wondered _____ giving her odd looks.

Options :

1. ✖ why were they
2. ✔ why they were
3. ✖ they were why
4. ✖ they why were

Question Number : 72 Question Id : 16794319660 Question Type : MCQ Option Shuffling : Yes Display Question Number : Yes
Single Line Question Option : No Option Orientation : Vertical

Correct Marks : 1 Wrong Marks : 0.25

Choose the most appropriate phrase to complete the sentence.

Ravi wondered _____ giving her odd looks.

Options :

1. ✖ why were they
2. ✔ why they were
3. ✖ they were why
4. ✖ they why were

Question Number : 73 Question Id : 16794319661 Question Type : MCQ Option Shuffling : Yes Display Question Number : Yes
Single Line Question Option : No Option Orientation : Vertical

Correct Marks : 1 Wrong Marks : 0.25

Choose the most appropriate phrase to complete the sentence.

I persuaded the boys _____ the room before the teacher entered.

Options :

1. ✖ leave
2. ✖ left

3. ✓ to leave

4. ✗ leaving

Question Number : 73 Question Id : 16794319661 Question Type : MCQ Option Shuffling : Yes Display Question Number : Yes
Single Line Question Option : No Option Orientation : Vertical

Correct Marks : 1 Wrong Marks : 0.25

Choose the most appropriate phrase to complete the sentence.

I persuaded the boys _____ the room before the teacher entered.

Options :

1. ✗ leave

2. ✗ left

3. ✓ to leave

4. ✗ leaving

Question Number : 74 Question Id : 16794319662 Question Type : MCQ Option Shuffling : Yes Display Question Number : Yes
Single Line Question Option : No Option Orientation : Vertical

Correct Marks : 1 Wrong Marks : 0.25

Choose the sentence that is grammatically well formed.

Options :

1. ✓ Who do you think believes the story that the man stole the painting?

2. ✗ Who do you think believes the story that stole the painting?

3. ✗ What do you think believes the story that man is?

4. ✗ Who do you think believes the story who the man stole the painting?

Question Number : 74 Question Id : 16794319662 Question Type : MCQ Option Shuffling : Yes Display Question Number : Yes
Single Line Question Option : No Option Orientation : Vertical

Correct Marks : 1 Wrong Marks : 0.25

Choose the sentence that is grammatically well formed.

Options :

1. ✓ Who do you think believes the story that the man stole the painting?

2. ✗ Who do you think believes the story that stole the painting?

3. ✖ What do you think believes the story that man is?

4. ✖ Who do you think believes the story who the man stole the painting?

Question Number : 75 Question Id : 16794319663 Question Type : MCQ Option Shuffling : Yes Display Question Number : Yes
Single Line Question Option : No Option Orientation : Vertical

Correct Marks : 1 Wrong Marks : 0.25

Choose the sentence that is grammatically well formed.

Options :

1. ✖ If you want to retire early, then you start saving now.

2. ✔ If you want to retire early, you need to start now

3. ✖ You want to retire early, if you start saving now.

4. ✖ If you want to retire early, when you start saving now.

Question Number : 75 Question Id : 16794319663 Question Type : MCQ Option Shuffling : Yes Display Question Number : Yes
Single Line Question Option : No Option Orientation : Vertical

Correct Marks : 1 Wrong Marks : 0.25

Choose the sentence that is grammatically well formed.

Options :

1. ✖ If you want to retire early, then you start saving now.

2. ✔ If you want to retire early, you need to start now

3. ✖ You want to retire early, if you start saving now.

4. ✖ If you want to retire early, when you start saving now.

Sub-Section Number:	2
Sub-Section Id:	1679431252
Question Shuffling Allowed :	Yes

Question Id : 16794319664 Question Type : COMPREHENSION Sub Question Shuffling Allowed : Yes Group Comprehension
Questions : No

Question Numbers : (76 to 80)

Question Label : Comprehension

Read the passage carefully and answer the questions that follow.

In Japan, people often refer to traffic lights as being blue in colour. And this is a bit odd, because the traffic signal indicating 'go' in Japan is just as green as it is anywhere else in the world. So why is the colour getting lost in translation? This visual conundrum has its roots in the history of language.

Blue and green are similar in hue. They sit next to each other in a rainbow, which means that, to our eyes, light can blend smoothly from blue to green or vice-versa, without going past any other colour in between. Before the modern period, Japanese had just one word, *ao*, for both blue and green. The wall that divides these colours hadn't been erected as yet. As the language evolved, in the Heian period around the year 1000, something interesting happened. A new word popped into being – *midori* – and it described a sort of greenish end of blue. Midori was a shade of *ao*, it wasn't really a new colour in its own right.

One of the first fences in this colour continuum came from an unlikely place – crayons. In 1917, the first crayons were imported into Japan, and they brought with them a way of dividing a seamless visual spread into neat, discrete chunks (colours). There were different crayons for green (*midori*) and blue (*ao*), and children started to adopt these names.

Sub questions

Question Number : 76 Question Id : 16794319665 Question Type : MCQ Option Shuffling : Yes Display Question Number : Yes
Single Line Question Option : No Option Orientation : Vertical

Correct Marks : 1 Wrong Marks : 0.25

The signal for 'go' in traffic in Japan is the colour:

Options :

1. ✖ Blue
2. ✔ Green
3. ✖ Bluish green
4. ✖ Greenish Blue

Question Number : 77 Question Id : 16794319666 Question Type : MCQ Option Shuffling : Yes Display Question Number : Yes
Single Line Question Option : No Option Orientation : Vertical

Correct Marks : 1 Wrong Marks : 0.25

The word 'conundrum' means:

Options :

1. ✖ spectrum

- 2. ✖ spread
- 3. ✖ blend
- 4. ✔ confusion

Question Number : 78 Question Id : 16794319667 Question Type : MCQ Option Shuffling : Yes Display Question Number : Yes
Single Line Question Option : No Option Orientation : Vertical

Correct Marks : 1 Wrong Marks : 0.25

Why was green taken for blue in Japan in early times?

Options :

- 1. ✔ They had only one word 'ao' for blue and green
- 2. ✖ They have two words 'midori' and 'ao'
- 3. ✖ They did not have crayons in that period

- 4. ✖ In rainbows in Japanese, blue and green blended into each other

Question Number : 79 Question Id : 16794319668 Question Type : MCQ Option Shuffling : Yes Display Question Number : Yes
Single Line Question Option : No Option Orientation : Vertical

Correct Marks : 1 Wrong Marks : 0.25

In the sentence 'The wall that divides these colours hadn't been erected as yet', what does 'the wall' refer to?

Options :

- 1. ✖ Crayons
- 2. ✔ Words
- 3. ✖ Vision
- 4. ✖ Fences

Question Number : 80 Question Id : 16794319669 Question Type : MCQ Option Shuffling : Yes Display Question Number : Yes
Single Line Question Option : No Option Orientation : Vertical

Correct Marks : 1 Wrong Marks : 0.25

Two distinct colours 'midori' (green) and 'ao' (blue) came into existence in:

Options :

1. ✖ pre modern Japan
2. ✖ the Heian Period
3. ✔ 1917 with crayons
4. ✖ the pre historic period

Question Id : 16794319664 Question Type : COMPREHENSION Sub Question Shuffling Allowed : Yes Group Comprehension Questions : No

Question Numbers : (76 to 80)

Question Label : Comprehension

Read the passage carefully and answer the questions that follow.

In Japan, people often refer to traffic lights as being blue in colour. And this is a bit odd, because the traffic signal indicating 'go' in Japan is just as green as it is anywhere else in the world. So why is the colour getting lost in translation? This visual conundrum has its roots in the history of language.

Blue and green are similar in hue. They sit next to each other in a rainbow, which means that, to our eyes, light can blend smoothly from blue to green or vice-versa, without going past any other colour in between. Before the modern period, Japanese had just one word, *ao*, for both blue and green. The wall that divides these colours hadn't been erected as yet. As the language evolved, in the Heian period around the year 1000, something interesting happened. A new word popped into being – *midori* – and it described a sort of greenish end of blue. *Midori* was a shade of *ao*, it wasn't really a new colour in its own right.

One of the first fences in this colour continuum came from an unlikely place – crayons. In 1917, the first crayons were imported into Japan, and they brought with them a way of dividing a seamless visual spread into neat, discrete chunks (colours). There were different crayons for green (*midori*) and blue (*ao*), and children started to adopt these names.

Sub questions

Question Number : 76 Question Id : 16794319665 Question Type : MCQ Option Shuffling : Yes Display Question Number : Yes Single Line Question Option : No Option Orientation : Vertical

Correct Marks : 1 Wrong Marks : 0.25

The signal for 'go' in traffic in Japan is the colour:

Options :

1. ✖ Blue
2. ✔ Green

3. ✖ Bluish green

4. ✖ Greenish Blue

Question Number : 77 Question Id : 16794319666 Question Type : MCQ Option Shuffling : Yes Display Question Number : Yes
Single Line Question Option : No Option Orientation : Vertical

Correct Marks : 1 Wrong Marks : 0.25

The word 'conundrum' means:

Options :

1. ✖ spectrum

2. ✖ spread

3. ✖ blend

4. ✔ confusion

Question Number : 78 Question Id : 16794319667 Question Type : MCQ Option Shuffling : Yes Display Question Number : Yes
Single Line Question Option : No Option Orientation : Vertical

Correct Marks : 1 Wrong Marks : 0.25

Why was green taken for blue in Japan in early times?

Options :

1. ✔ They had only one word 'ao' for blue and green

2. ✖ They have two words 'midori' and 'ao'

3. ✖ They did not have crayons in that period

4. ✖ In rainbows in Japanese, blue and green blended into each other

Question Number : 79 Question Id : 16794319668 Question Type : MCQ Option Shuffling : Yes Display Question Number : Yes
Single Line Question Option : No Option Orientation : Vertical

Correct Marks : 1 Wrong Marks : 0.25

In the sentence 'The wall that divides these colours hadn't been erected as yet', what does 'the wall' refer to?

Options :

1. ✖ Crayons

2. ✔ Words

3. ✖ Vision

4. ✖ Fences

Question Number : 80 Question Id : 16794319669 Question Type : MCQ Option Shuffling : Yes Display Question Number : Yes
Single Line Question Option : No Option Orientation : Vertical

Correct Marks : 1 Wrong Marks : 0.25

Two distinct colours 'midori' (green) and 'ao' (blue) came into existence in:

Options :

1. ✖ pre modern Japan

2. ✖ the Heian Period

3. ✔ 1917 with crayons

4. ✖ the pre historic period

General Hindi

Group Number :	5
Group Id :	167943748
Group Maximum Duration :	0
Group Minimum Duration :	0
Revisit allowed for view? :	No
Revisit allowed for edit? :	No
Break time:	0
Group Marks:	20
Revisit allowed for group Instructions? :	Yes
Maximum Instruction Time:	0
Minimum Instruction Time:	0

General Hindi

Section Id :	167943813
Section Number :	1
Section type :	Online
Mandatory or Optional:	Mandatory
Number of Questions:	16
Number of Questions to be attempted:	16
Section Marks:	20
Display Number Panel:	Yes
Group All Questions:	No

Sub-Section Number: 1
Sub-Section Id: 1679431253
Question Shuffling Allowed : Yes

Question Id : 16794319670 Question Type : COMPREHENSION Sub Question Shuffling Allowed : Yes Group Comprehension Questions : No

Question Numbers : (81 to 85)

Question Label : Comprehension

नीचे दिये गए गद्यांश को पढ़कर पूछे गये प्रश्नों के उत्तर दीजिए।

छायावादी काव्य में सामाजिकता और वैयक्तिकता दोनों का स्वर था। कालांतर में वैयक्तिक अनुभूति का आग्रह रखने वाले और सामाजिकता का आग्रह रखने वाले कवियों का अंतर स्पष्ट हुआ। यहाँ यह ध्यान रखना चाहिए कि स्वाधीनता की चेतना दोनों प्रकार के कवियों में है। यहाँ तक कि 'हालावाद' भी एक प्रकार की 'विरोध-कविता' (पोयट्री आफ प्रोटेस्ट) है। सामाजिकता का आग्रह रखने वाले कवियों में से अधिकांश समाजवादी विचारधारा से जुड़े। इससे 1936 ई. में प्रगतिशील लेखक संघ की स्थापना के बाद प्रगतिवादी कविता का प्रवर्तन हुआ।

Sub questions

Question Number : 81 Question Id : 16794319671 Question Type : MCQ Option Shuffling : Yes Display Question Number : Yes
Single Line Question Option : No Option Orientation : Vertical
Correct Marks : 1 Wrong Marks : 0.25

छायावादी काव्य में किसका स्वर था?

Options :

1. ✖ केवल सामाजिकता
2. ✖ केवल वैयक्तिकता
3. ✖ कायरता
4. ✔ सामाजिकता और वैयक्तिकता दोनों

Question Number : 82 Question Id : 16794319672 Question Type : MCQ Option Shuffling : Yes Display Question Number : Yes
Single Line Question Option : No Option Orientation : Vertical
Correct Marks : 1 Wrong Marks : 0.25

दोनों प्रकार के कवियों में है:

Options :

1. ✖ राजनीतिक चेतना
2. ✖ प्रयोगवादी चेतना

3. ✓ स्वाधीनता की चेतना

4. ✗ धार्मिक चेतना

Question Number : 83 Question Id : 16794319673 Question Type : MCQ Option Shuffling : Yes Display Question Number : Yes
Single Line Question Option : No Option Orientation : Vertical

Correct Marks : 1 Wrong Marks : 0.25

‘पोयट्री आफ प्रोटेस्ट’ किसे कहा गया है?

Options :

1. ✗ रहस्यवाद

2. ✓ हालावाद

3. ✗ प्रयोगवाद

4. ✗ नयी कविता

Question Number : 84 Question Id : 16794319674 Question Type : MCQ Option Shuffling : Yes Display Question Number : Yes
Single Line Question Option : No Option Orientation : Vertical

Correct Marks : 1 Wrong Marks : 0.25

सामाजिकता का आग्रह रखने वाले कवि किससे जुड़े?

Options :

1. ✓ समाजवादी विचारधारा

2. ✗ मनोविश्लेषणवादी विचारधारा

3. ✗ सौंदर्यवादी विचारधारा

4. ✗ कलावादी विचारधारा

Question Number : 85 Question Id : 16794319675 Question Type : MCQ Option Shuffling : Yes Display Question Number : Yes
Single Line Question Option : No Option Orientation : Vertical

Correct Marks : 1 Wrong Marks : 0.25

प्रगतिवादी कविता का प्रवर्तन कब हुआ?

Options :

1. ✗ 1926

2. ✓ 1936

3. ✖ 1946

4. ✖ 1956

Question Id : 16794319670 Question Type : COMPREHENSION Sub Question Shuffling Allowed : Yes Group Comprehension Questions : No

Question Numbers : (81 to 85)

Question Label : Comprehension

नीचे दिये गए गद्यांश को पढ़कर पूछे गये प्रश्नों के उत्तर दीजिए।

छायावादी काव्य में सामाजिकता और वैयक्तिकता दोनों का स्वर था। कालांतर में वैयक्तिक अनुभूति का आग्रह रखने वाले और सामाजिकता का आग्रह रखने वाले कवियों का अंतर स्पष्ट हुआ। यहाँ यह ध्यान रखना चाहिए कि स्वाधीनता की चेतना दोनों प्रकार के कवियों में है। यहाँ तक कि 'हालावाद' भी एक प्रकार की 'विरोध-कविता' (पोयट्री आफ प्रोटेस्ट) है। सामाजिकता का आग्रह रखने वाले कवियों में से अधिकांश समाजवादी विचारधारा से जुड़े। इससे 1936 ई. में प्रगतिशील लेखक संघ की स्थापना के बाद प्रगतिवादी कविता का प्रवर्तन हुआ।

Sub questions

Question Number : 81 Question Id : 16794319671 Question Type : MCQ Option Shuffling : Yes Display Question Number : Yes Single Line Question Option : No Option Orientation : Vertical

Correct Marks : 1 Wrong Marks : 0.25

छायावादी काव्य में किसका स्वर था?

Options :

1. ✖ केवल सामाजिकता

2. ✖ केवल वैयक्तिकता

3. ✖ कायरता

4. ✔ सामाजिकता और वैयक्तिकता दोनों

Question Number : 82 Question Id : 16794319672 Question Type : MCQ Option Shuffling : Yes Display Question Number : Yes Single Line Question Option : No Option Orientation : Vertical

Correct Marks : 1 Wrong Marks : 0.25

दोनों प्रकार के कवियों में है:

Options :

1. ✖ राजनीतिक चेतना

2. ✖ प्रयोगवादी चेतना

3. ✔ स्वाधीनता की चेतना

4. ✖ धार्मिक चेतना

Question Number : 83 Question Id : 16794319673 Question Type : MCQ Option Shuffling : Yes Display Question Number : Yes
Single Line Question Option : No Option Orientation : Vertical

Correct Marks : 1 Wrong Marks : 0.25

‘पोयट्री आफ प्रोटेस्ट’ किसे कहा गया है?

Options :

1. ✖ रहस्यवाद

2. ✔ हालावाद

3. ✖ प्रयोगवाद

4. ✖ नयी कविता

Question Number : 84 Question Id : 16794319674 Question Type : MCQ Option Shuffling : Yes Display Question Number : Yes
Single Line Question Option : No Option Orientation : Vertical

Correct Marks : 1 Wrong Marks : 0.25

सामाजिकता का आग्रह रखने वाले कवि किससे जुड़े?

Options :

1. ✔ समाजवादी विचारधारा

2. ✖ मनोविश्लेषणवादी विचारधारा

3. ✖ सौंदर्यवादी विचारधारा

4. ✖ कलावादी विचारधारा

Question Number : 85 Question Id : 16794319675 Question Type : MCQ Option Shuffling : Yes Display Question Number : Yes
Single Line Question Option : No Option Orientation : Vertical

Correct Marks : 1 Wrong Marks : 0.25

प्रगतिवादी कविता का प्रवर्तन कब हुआ?

Options :

1. ✖ 1926

2. ✓ 1936

3. ✗ 1946

4. ✗ 1956

Sub-Section Number: 2
Sub-Section Id: 1679431254
Question Shuffling Allowed : Yes

Question Number : 86 Question Id : 16794319676 Question Type : MCQ Option Shuffling : Yes Display Question Number : Yes
Single Line Question Option : No Option Orientation : Vertical

Correct Marks : 1 Wrong Marks : 0.25

निम्नलिखित में कौन सा शब्द तत्सम है?

Options :

1. ✗ मिट्टी

2. ✗ मुट्ठी

3. ✗ मिठाई

4. ✓ मस्तक

Question Number : 86 Question Id : 16794319676 Question Type : MCQ Option Shuffling : Yes Display Question Number : Yes
Single Line Question Option : No Option Orientation : Vertical

Correct Marks : 1 Wrong Marks : 0.25

निम्नलिखित में कौन सा शब्द तत्सम है?

Options :

1. ✗ मिट्टी

2. ✗ मुट्ठी

3. ✗ मिठाई

4. ✓ मस्तक

Question Number : 87 Question Id : 16794319677 Question Type : MCQ Option Shuffling : Yes Display Question Number : Yes
Single Line Question Option : No Option Orientation : Vertical

Correct Marks : 1 Wrong Marks : 0.25

निम्नलिखित में तद्वत शब्द कौन सा है?

Options :

1. ☒ बाग
2. ☐ वाद्य
3. ☐ वाटिका
4. ☐ वार्ता

Question Number : 87 Question Id : 16794319677 Question Type : MCQ Option Shuffling : Yes Display Question Number : Yes
Single Line Question Option : No Option Orientation : Vertical

Correct Marks : 1 Wrong Marks : 0.25

निम्नलिखित में तद्वत शब्द कौन सा है?

Options :

1. ☒ बाग
2. ☐ वाद्य
3. ☐ वाटिका
4. ☐ वार्ता

Question Number : 88 Question Id : 16794319678 Question Type : MCQ Option Shuffling : Yes Display Question Number : Yes
Single Line Question Option : No Option Orientation : Vertical

Correct Marks : 1 Wrong Marks : 0.25

निम्नलिखित में जातिवाचक संज्ञा कौन सी है?

Options :

1. ☐ होली
2. ☐ जुलाई
3. ☒ पुस्तक
4. ☐ चढ़ाई

Question Number : 88 Question Id : 16794319678 Question Type : MCQ Option Shuffling : Yes Display Question Number : Yes
Single Line Question Option : No Option Orientation : Vertical

Correct Marks : 1 Wrong Marks : 0.25

निम्नलिखित में जातिवाचक संज्ञा कौन सी है?

Options :

1. ❌ होली
2. ❌ जुलाई
3. ✅ पुस्तक
4. ❌ चढ़ाई

Question Number : 89 Question Id : 16794319679 Question Type : MCQ Option Shuffling : Yes Display Question Number : Yes
Single Line Question Option : No Option Orientation : Vertical

Correct Marks : 1 Wrong Marks : 0.25

अन्य पुरुष सर्वनाम है-

Options :

1. ❌ हम
2. ❌ आप
3. ❌ कुछ
4. ✅ यह

Question Number : 89 Question Id : 16794319679 Question Type : MCQ Option Shuffling : Yes Display Question Number : Yes
Single Line Question Option : No Option Orientation : Vertical

Correct Marks : 1 Wrong Marks : 0.25

अन्य पुरुष सर्वनाम है-

Options :

1. ❌ हम
2. ❌ आप
3. ❌ कुछ
4. ✅ यह

Question Number : 90 Question Id : 16794319680 Question Type : MCQ Option Shuffling : Yes Display Question Number : Yes
Single Line Question Option : No Option Orientation : Vertical

Correct Marks : 1 Wrong Marks : 0.25

निम्नलिखित में कौन सा शब्द अव्यय है?

Options :

1. ☒ परन्तु
2. ☐ भविष्य
3. ☐ बाहरी
4. ☐ काला

Question Number : 90 Question Id : 16794319680 Question Type : MCQ Option Shuffling : Yes Display Question Number : Yes
Single Line Question Option : No Option Orientation : Vertical

Correct Marks : 1 Wrong Marks : 0.25

निम्नलिखित में कौन सा शब्द अव्यय है?

Options :

1. ☒ परन्तु
2. ☐ भविष्य
3. ☐ बाहरी
4. ☐ काला

Question Number : 91 Question Id : 16794319681 Question Type : MCQ Option Shuffling : Yes Display Question Number : Yes
Single Line Question Option : No Option Orientation : Vertical

Correct Marks : 1 Wrong Marks : 0.25

‘तेजोराशि’ का संधि विच्छेद होगा-

Options :

1. ☐ तेज + राशि
2. ☒ तेजः + राशि
3. ☐ तेजा + राशि
4. ☐ तेजो + राशि

Question Number : 91 Question Id : 16794319681 Question Type : MCQ Option Shuffling : Yes Display Question Number : Yes
Single Line Question Option : No Option Orientation : Vertical

Correct Marks : 1 Wrong Marks : 0.25

‘तेजोराशि’ का संधि विच्छेद होगा-

Options :

1. ✖ तेज + राशि
2. ✔ तेजः + राशि
3. ✖ तेजा + राशि
4. ✖ तेजो + राशि

Question Number : 92 Question Id : 16794319682 Question Type : MCQ Option Shuffling : Yes Display Question Number : Yes
Single Line Question Option : No Option Orientation : Vertical

Correct Marks : 1 Wrong Marks : 0.25

‘दिनोंदिन’ में समास है-

Options :

1. ✖ कर्मधारय
2. ✖ बहुब्रीहि
3. ✔ अव्ययीभाव
4. ✖ तत्पुरुष

Question Number : 92 Question Id : 16794319682 Question Type : MCQ Option Shuffling : Yes Display Question Number : Yes
Single Line Question Option : No Option Orientation : Vertical

Correct Marks : 1 Wrong Marks : 0.25

‘दिनोंदिन’ में समास है-

Options :

1. ✖ कर्मधारय
2. ✖ बहुब्रीहि
3. ✔ अव्ययीभाव
4. ✖ तत्पुरुष

Question Number : 93 Question Id : 16794319683 Question Type : MCQ Option Shuffling : Yes Display Question Number : Yes
Single Line Question Option : No Option Orientation : Vertical

Correct Marks : 1 Wrong Marks : 0.25

निम्नलिखित में कौन सा शब्द स्त्रीलिंग है?

Options :

1. ☒ उपेक्षा

2. ☐ आश्रय

3. ☐ आश्वासन

4. ☐ आसन

Question Number : 93 Question Id : 16794319683 Question Type : MCQ Option Shuffling : Yes Display Question Number : Yes
Single Line Question Option : No Option Orientation : Vertical

Correct Marks : 1 Wrong Marks : 0.25

निम्नलिखित में कौन सा शब्द स्त्रीलिंग है?

Options :

1. ☒ उपेक्षा

2. ☐ आश्रय

3. ☐ आश्वासन

4. ☐ आसन

Question Number : 94 Question Id : 16794319684 Question Type : MCQ Option Shuffling : Yes Display Question Number : Yes
Single Line Question Option : No Option Orientation : Vertical

Correct Marks : 1 Wrong Marks : 0.25

‘अभिलाषा’ में उपसर्ग है-

Options :

1. ☐ अ

2. ☒ अभि

3. ☐ आ

4. ☐ आशा

Question Number : 94 Question Id : 16794319684 Question Type : MCQ Option Shuffling : Yes Display Question Number : Yes
Single Line Question Option : No Option Orientation : Vertical

Correct Marks : 1 Wrong Marks : 0.25

‘अभिलाषा’ में उपसर्ग है-

Options :

1. ✖ अ
2. ✔ अभि
3. ✖ आ
4. ✖ आशा

Question Number : 95 Question Id : 16794319685 Question Type : MCQ Option Shuffling : Yes Display Question Number : Yes
Single Line Question Option : No Option Orientation : Vertical

Correct Marks : 1 Wrong Marks : 0.25

‘अग्रिम’ में प्रत्यय है-

Options :

1. ✖ अ
2. ✖ म
3. ✖ ग्रिम
4. ✔ इम

Question Number : 95 Question Id : 16794319685 Question Type : MCQ Option Shuffling : Yes Display Question Number : Yes
Single Line Question Option : No Option Orientation : Vertical

Correct Marks : 1 Wrong Marks : 0.25

‘अग्रिम’ में प्रत्यय है-

Options :

1. ✖ अ
2. ✖ म
3. ✖ ग्रिम
4. ✔ इम

Question Number : 96 Question Id : 16794319686 Question Type : MCQ Option Shuffling : Yes Display Question Number : Yes
Single Line Question Option : No Option Orientation : Vertical

Correct Marks : 1 Wrong Marks : 0.25

‘द्रव्य’ का पर्यायवाची नहीं है-

Options :

1. ✖ धन

2. ✖ सम्पदा

3. ✔ कंचन

4. ✖ संपत्ति

Question Number : 96 Question Id : 16794319686 Question Type : MCQ Option Shuffling : Yes Display Question Number : Yes
Single Line Question Option : No Option Orientation : Vertical

Correct Marks : 1 Wrong Marks : 0.25

‘द्रव्य’ का पर्यायवाची नहीं है-

Options :

1. ✖ धन

2. ✖ सम्पदा

3. ✔ कंचन

4. ✖ संपत्ति

Question Number : 97 Question Id : 16794319687 Question Type : MCQ Option Shuffling : Yes Display Question Number : Yes
Single Line Question Option : No Option Orientation : Vertical

Correct Marks : 1 Wrong Marks : 0.25

‘भलाई’ का विलोम होगा-

Options :

1. ✖ अच्छाई

2. ✖ चतुराई

3. ✖ धृष्टता

4. ✔ बुराई

Question Number : 97 Question Id : 16794319687 Question Type : MCQ Option Shuffling : Yes Display Question Number : Yes
Single Line Question Option : No Option Orientation : Vertical

Correct Marks : 1 Wrong Marks : 0.25

‘भलाई’ का विलोम होगा-

Options :

1. ✖ अच्छाई

2. ✖ चतुराई

3. ✖ धृष्टता

4. ✔ बुराई

Question Number : 98 Question Id : 16794319688 Question Type : MCQ Option Shuffling : Yes Display Question Number : Yes
Single Line Question Option : No Option Orientation : Vertical

Correct Marks : 1 Wrong Marks : 0.25

‘दो नदियों के मिलन का स्थान’ के लिए एक शब्द होगा-

Options :

1. ✖ उदगम

2. ✔ संगम

3. ✖ प्रयाग

4. ✖ द्वीप

Question Number : 98 Question Id : 16794319688 Question Type : MCQ Option Shuffling : Yes Display Question Number : Yes
Single Line Question Option : No Option Orientation : Vertical

Correct Marks : 1 Wrong Marks : 0.25

‘दो नदियों के मिलन का स्थान’ के लिए एक शब्द होगा-

Options :

1. ✖ उदगम

2. ✔ संगम

3. ✖ प्रयाग

4. ✖ द्वीप

Question Number : 99 Question Id : 16794319689 Question Type : MCQ Option Shuffling : Yes Display Question Number : Yes
Single Line Question Option : No Option Orientation : Vertical

Correct Marks : 1 Wrong Marks : 0.25

निम्नलिखित में शुद्ध वर्तनी वाला शब्द है-

Options :

1. ✖ पुस्टि

2. ✖ पुस्ती

3. ✔ पुष्टि

4. ✖ पुष्टी

Question Number : 99 Question Id : 16794319689 Question Type : MCQ Option Shuffling : Yes Display Question Number : Yes
Single Line Question Option : No Option Orientation : Vertical

Correct Marks : 1 Wrong Marks : 0.25

निम्नलिखित में शुद्ध वर्तनी वाला शब्द है-

Options :

1. ✖ पुस्टि

2. ✖ पुस्ती

3. ✔ पुष्टि

4. ✖ पुष्टी

Question Number : 100 Question Id : 16794319690 Question Type : MCQ Option Shuffling : Yes Display Question Number : Yes
Single Line Question Option : No Option Orientation : Vertical

Correct Marks : 1 Wrong Marks : 0.25

‘यह लोग क्या कहते हैं?’ वाक्य में अशुद्ध अंश है-

Options :

1. ✔ यह लोग

2. ✖ क्या

3. ✖ कहते

4. ✖ हैं?

Question Number : 100 Question Id : 16794319690 Question Type : MCQ Option Shuffling : Yes Display Question Number : Yes
Single Line Question Option : No Option Orientation : Vertical

Correct Marks : 1 Wrong Marks : 0.25

‘यह लोग क्या कहते हैं?’ वाक्य में अशुद्ध अंश है-

Options :

1. ✓ यह लोग

2. ✗ क्या

3. ✗ कहते

4. ✗ हैं?

Subject Related

Group Number :	6
Group Id :	167943749
Group Maximum Duration :	0
Group Minimum Duration :	0
Revisit allowed for view? :	No
Revisit allowed for edit? :	No
Break time:	0
Group Marks:	20
Revisit allowed for group Instructions? :	Yes
Maximum Instruction Time:	0
Minimum Instruction Time:	0

Subject Related

Section Id :	167943814
Section Number :	1
Section type :	Online
Mandatory or Optional:	Mandatory
Number of Questions:	20
Number of Questions to be attempted:	20
Section Marks:	20
Display Number Panel:	Yes
Group All Questions:	No

Sub-Section Number:	1
Sub-Section Id:	1679431255
Question Shuffling Allowed :	Yes

Question Number : 101 Question Id : 16794319691 Question Type : MCQ Option Shuffling : Yes Display Question Number : Yes
Single Line Question Option : No Option Orientation : Vertical

Correct Marks : 1 Wrong Marks : 0.25

Steam engine played a crucial role in the Industrial Revolution. Which one out of the following is INCORRECT about the steam engine?

Options :

1. ✗ The design of steam engine was prepared by Thomas Newcomen.

2. ✓ Pre modern design of steam engine was prepared by Thomas Papin.
3. ✗ By 1769, James Watt had a patent for his improved design.
4. ✗ He entered into a long and profitable partnership with industrialist Matthew Boulton.

Question Number : 101 Question Id : 16794319691 Question Type : MCQ Option Shuffling : Yes Display Question Number : Yes
Single Line Question Option : No Option Orientation : Vertical

Correct Marks : 1 Wrong Marks : 0.25

भाप (स्टीम) इंजन ने औद्योगिक क्रांति में एक महत्वपूर्ण भूमिका निभाई। भाप इंजन के बारे में निम्नलिखित में से कौन सा गलत है?

Options :

1. ✗ भाप इंजन की डिजाइन थॉमस न्यूकॉमन द्वारा तैयार की गई थी।
2. ✓ भाप इंजन की पूर्व आधुनिक डिजाइन थॉमस पापिन द्वारा तैयार की गई थी।
3. ✗ 1769 तक, जेम्स वाट को अपने बेहतर डिजाइन के लिए पेटेंट मिल गया था।
4. ✗ उन्होंने उद्योगपति मैथ्यू बोल्टन के साथ एक लंबी और लाभप्रद साझेदारी की।

Question Number : 102 Question Id : 16794319692 Question Type : MCQ Option Shuffling : Yes Display Question Number : Yes
Single Line Question Option : No Option Orientation : Vertical

Correct Marks : 1 Wrong Marks : 0.25

Why did Industrial revolution start from Britain?

Options :

1. ✗ Occurrence of the Agricultural Revolution of the eighteenth century.
2. ✗ Britain had a ready supply of capital for investment in the new industrial machines and the factories.
3. ✗ Britain had a rich supply of the important mineral resources such as coal and iron ore.
4. ✓ All of the given options.

Question Number : 102 Question Id : 16794319692 Question Type : MCQ Option Shuffling : Yes Display Question Number : Yes
Single Line Question Option : No Option Orientation : Vertical

Correct Marks : 1 Wrong Marks : 0.25

ब्रिटेन से औद्योगिक क्रांति क्यों शुरू हुई?

Options :

1. ✖ अठारहवीं शताब्दी की कृषि क्रांति की घटना।

2. ✖

नई औद्योगिक मशीनों और कारखानों में निवेश के लिए ब्रिटेन के पास पूंजी की आपूर्ति तैयार थी।

3. ✖

कोयले और लौह अयस्क जैसे महत्वपूर्ण खनिज संसाधनों के साथ ब्रिटेन को भरपूर आपूर्ति की गई थी।

4. ✔ दिए गए विकल्पों में से सभी।

Question Number : 103 Question Id : 16794319693 Question Type : MCQ Option Shuffling : Yes Display Question Number : Yes
Single Line Question Option : No Option Orientation : Vertical

Correct Marks : 1 Wrong Marks : 0.25

In 1804, _____ pioneered the first steam powered locomotive on an industrial rail line in southern Wales.

Options :

1. ✖ James Watt

2. ✖ George Stephenson

3. ✔ Richard Trevithick

4. ✖ Edmund Cartwright

Question Number : 103 Question Id : 16794319693 Question Type : MCQ Option Shuffling : Yes Display Question Number : Yes
Single Line Question Option : No Option Orientation : Vertical

Correct Marks : 1 Wrong Marks : 0.25

1804 में, _____ ने दक्षिणी वेल्स में औद्योगिक रेल लाइन पर पहले भाप संचालित लोकोमोटिव की शुरुआत की।

Options :

1. ✖ जेम्स वाट

2. ✖ जॉर्ज स्टीफनसन

3. ✔ रिचर्ड ट्रेविथिक

4. ✖ एडमंड कार्टराइट

Question Number : 104 Question Id : 16794319694 Question Type : MCQ Option Shuffling : Yes Display Question Number : Yes
Single Line Question Option : No Option Orientation : Vertical

Correct Marks : 1 Wrong Marks : 0.25

The New Deal policy was introduced in USA by _____ for various reforms after economic depression of 1929.

Options :

1. ✖ Calvin Coolidge
2. ✔ Franklin D. Roosevelt
3. ✖ Herbert Hoover
4. ✖ Harry S. Truman

Question Number : 104 Question Id : 16794319694 Question Type : MCQ Option Shuffling : Yes Display Question Number : Yes
Single Line Question Option : No Option Orientation : Vertical

Correct Marks : 1 Wrong Marks : 0.25

1929 के आर्थिक मंदी के बाद विभिन्न सुधारों के लिए संयुक्त राज्य अमेरिका में नई क्रय-विक्रय नीति को _____ द्वारा पेश किया गया था।

Options :

1. ✖ केल्विन कूलिज
2. ✔ फ्रैंकलिन डी. रूजवेल्ट
3. ✖ हर्बर्ट हूवर
4. ✖ हैरी एस. ट्रुमैन

Question Number : 105 Question Id : 16794319695 Question Type : MCQ Option Shuffling : Yes Display Question Number : Yes
Single Line Question Option : No Option Orientation : Vertical

Correct Marks : 1 Wrong Marks : 0.25

Early 1920s was a crucial decade for the rise of industrial organisation in colonial India. Which of the following statement is/are FALSE?

Options :

1. ✖ Various capitalists like G.D. Birla and Purshottamdas Thakurdas to establish a national level organization of Indian commercial, industrial and financial interests to be able to effectively lobby with the colonial government.
2. ✖ This effort culminated in the formation of the Federation of Indian Chambers of Commerce and Industry (FICCI) in 1927, with a large and rapidly increasing representation from all parts of India.
3. ✖ The FICCI was soon recognized by the British government as well as the Indian public in general, as representing the dominant opinion as well as the overall consensus within the Indian capitalist class.
4. ✔ None of the given options

Question Number : 105 Question Id : 16794319695 Question Type : MCQ Option Shuffling : Yes Display Question Number : Yes
Single Line Question Option : No Option Orientation : Vertical

Correct Marks : 1 Wrong Marks : 0.25

1920 का दशक औपनिवेशिक भारत में औद्योगिक संगठन के उदय के लिए महत्वपूर्ण दशक था। निम्नलिखित में से कौन सा कथन गलत है?

Options :

1. ✖

जी.डी. जैसे बिड़ला और पुरुषोत्तमदास ठाकुरदास जैसे कई पूंजीपति भारतीय वाणिज्यिक, औद्योगिक और वित्तीय हितों की एक राष्ट्रीय स्तर के संगठन की स्थापना के लिए प्रभावी रूप से औपनिवेशिक सरकार के साथ तालमेल करने में सक्षम हो।

2. ✖

यह प्रयास भारत के सभी हिस्सों में बड़े स्तर पर और तेजी से बढ़ते प्रतिनिधित्व के साथ 1927 में फेडरेशन ऑफ इंडियन चेंबर ऑफ कॉमर्स एंड इंडस्ट्री (फिककी) के गठन में समाप्त हुआ।

3. ✖

फिककी (FICCI) को जल्द ही ब्रिटिश सरकार के साथ-साथ भारतीय जनता द्वारा मान्यता प्राप्त थी, क्योंकि प्रमुख राय के साथ-साथ समग्र सर्वसम्मति का भारतीय पूंजीवादी वर्ग का प्रतिनिधित्व किया गया था।

4. ✔ दिए गए विकल्पों से कोई नहीं।

Question Number : 106 Question Id : 16794319696 Question Type : MCQ Option Shuffling : Yes Display Question Number : Yes
Single Line Question Option : No Option Orientation : Vertical

Correct Marks : 1 Wrong Marks : 0.25

Which of the following is NOT correct about the All-India Kisan Congress?

Options :

1. ✖

It was established in Lucknow in April 1936 which later changed its name to the All-India Kisan Sabha.

2. ✖

Swami Sahajanand and N.G. Ranga were elected the President and the General Secretary respectively.

3. ✔ The first session was greeted in person by Mahatma Gandhi.

4. ✖

The Conference resolved to bring out a Kisan Manifesto and a periodic bulletin edited by Indulal Yagnik.

Question Number : 106 Question Id : 16794319696 Question Type : MCQ Option Shuffling : Yes Display Question Number : Yes
Single Line Question Option : No Option Orientation : Vertical

Correct Marks : 1 Wrong Marks : 0.25

निम्नलिखित में से कौन सा अखिल भारतीय किसान कांग्रेस के बारे में सही नहीं है?

Options :

1. ✖

यह अप्रैल 1936 में लखनऊ में स्थापित किया गया था, जिसने बाद में अपना नाम बदलकर अखिल भारतीय किसान सभा रखा।

2. ✖

स्वामी सहजानंद और एनजी रंगा क्रमशः अध्यक्ष और महासचिव चुने गए थे।

3. ✔

पहले सत्र का स्वागत महात्मा गांधी द्वारा व्यक्तिगत रूप से किया गया था।

4. ✖

सम्मलेन ने एक किसान ऐलाननामा (मैनिफेस्टो) और इंदुलाल याग्निक द्वारा सम्पादित एक आवधिक विवरणिका (बुलेटिन) प्रकाशित करने का संकल्प किया

Question Number : 107 Question Id : 16794319697 Question Type : MCQ Option Shuffling : Yes Display Question Number : Yes
Single Line Question Option : No Option Orientation : Vertical

Correct Marks : 1 Wrong Marks : 0.25

Large parts of East Bengal were engulfed by agrarian unrest during the 1870s and early 1880s. Which one of the following is NOT true with regards to the unrest?

Options :

1. ✖

The unrest was caused by the efforts of the zamindars to inflate rent beyond legal limits.

2. ✖

The unrest was caused by the efforts of the zamindars to prevent the tenants from acquiring occupancy rights under Act X of 1859.

3. ✖

The zamindars tried to achieve through illegal coercive methods such as forced eviction and seizure of crops and cattle as well as by dragging the tenants into costly litigation in the courts.

4. ✔

In May 1873, an agrarian league or combination was formed in Yusufshahi Parganah in Pabna district to accept the demands of the zamindars.

Question Number : 107 Question Id : 16794319697 Question Type : MCQ Option Shuffling : Yes Display Question Number : Yes
Single Line Question Option : No Option Orientation : Vertical

Correct Marks : 1 Wrong Marks : 0.25

पूर्वी बंगाल के बड़े हिस्से में 1870 के दशक और 1880 के दशक के प्रारंभ में कृषि अशांति थी। अशांति के संबंध में निम्नलिखित में से कौन सा सत्य नहीं है?

Options :

1. ✖

अशांति कानूनी सीमाओं से परे लगान बढ़ाने के लिए ज़मीनदारों के प्रयासों के कारण हुई थी।

2. ✖

1859 के अधिनियम X के तहत किरायेदारों को अधिवास अधिकार प्राप्त करने से रोकने के लिए ज़मीनदारों के प्रयासों से अशांति हुई थी।

3. ✖

जमींदारों ऐसे बलपूर्वक निष्कासन और फसलों और पशुओं के साथ ही साथ अदालतों में महंगा मुकदमेबाजी में किरायेदारों को खींच कर जब्ती के रूप में अवैध बलपूर्वक तरीकों के माध्यम से प्राप्त करने की कोशिश की।

4. ✔

मई 1873 में, पबना जिले के यूसुफशाही परगाना में ज़मीनदारों की मांगों को स्वीकार करने के लिए कृषि लीग या संयोजन का गठन किया गया था।

Question Number : 108 Question Id : 16794319698 Question Type : MCQ Option Shuffling : Yes Display Question Number : Yes
Single Line Question Option : No Option Orientation : Vertical

Correct Marks : 1 Wrong Marks : 0.25

Who argued that the 'general will' should govern society?

Options :

1. ✖ John Lock

2. ✖ Montesquieu

3. ✔ Rousseau

4. ✖ Voltaire

Question Number : 108 Question Id : 16794319698 Question Type : MCQ Option Shuffling : Yes Display Question Number : Yes
Single Line Question Option : No Option Orientation : Vertical

Correct Marks : 1 Wrong Marks : 0.25

किसने तर्क दिया कि 'आम इच्छा (जनरल विल)' को समाज को नियंत्रित करना चाहिए?

Options :

1. ✖ जॉन लॉक

2. ✖ मॉन्टेस्क्यू

3. ✔ रूसो

4. ✖ वॉल्टेयर

Question Number : 109 Question Id : 16794319699 Question Type : MCQ Option Shuffling : Yes Display Question Number : Yes
Single Line Question Option : No Option Orientation : Vertical

Correct Marks : 1 Wrong Marks : 0.25

The fundamental fiscal problem in France was structural. Which statement about it is INCORRECT?

Options :

1. ✖

Neither the clergy, who owned about 10 percent of the land, nor the nobility, who owned between 25 to 30 percent of the land, paid any tax.

2. ✖

In many areas, tax farmers collected the taxes and forwarded only part of the money to the government.

3. ✖

War of the Austrian Succession (1740-48) and the Seven Year's War (1756-63) helped to bankrupt the state

4. ✔

Louise XVI first appointed Necker, then Turgot as the finance minister to improve the financial condition of France

Question Number : 109 Question Id : 16794319699 Question Type : MCQ Option Shuffling : Yes Display Question Number : Yes
Single Line Question Option : No Option Orientation : Vertical

Correct Marks : 1 Wrong Marks : 0.25

फ्रांस में मौलिक वित्तीय समस्या संरचनात्मक थी। कौन सा कथन गलत है?

Options :

1. ✖

न तो पादरी, जिनके पास जमीन का लगभग 10 प्रतिशत स्वामित्व था, न ही उच्चपद के लोग, जिनके पास 25 से 30 प्रतिशत भूमि का स्वामित्व था, ने किसी कर का भुगतान किया।

2. ✖

कई क्षेत्र में किसानों ने कर एकत्र किए और सरकार को पैसे का केवल एक हिस्सा भेजा।

3. ✖

ऑस्ट्रियाई उत्तराधिकार का युद्ध (1740-48) और सात साल के युद्ध (1756-63) ने राज्य को दिवालिया करने में मदद की।

4. ✔

लुईस XVI ने पहले फ्रांस की वित्तीय स्थिति में सुधार के लिए वित्त मंत्री के रूप में पहले नेकर और फिर टूरगोट को नियुक्त किया था।

Question Number : 110 Question Id : 16794319700 Question Type : MCQ Option Shuffling : Yes Display Question Number : Yes
Single Line Question Option : No Option Orientation : Vertical

Correct Marks : 1 Wrong Marks : 0.25

Which pair is correctly matched with regards to French Revolution, 1789?

Options :

1. ✖

1 May 1789: Estates General assembles

2. ✖

15 June 1789: Adoption of title of "National Assembly" by the Third Estate

3. ✖

15 July 1789: Dismissal of Necker

4. ✔

2 November 1789: Nationalisation of the property of the church

Question Number : 110 Question Id : 16794319700 Question Type : MCQ Option Shuffling : Yes Display Question Number : Yes
Single Line Question Option : No Option Orientation : Vertical

Correct Marks : 1 Wrong Marks : 0.25

फ्रांसीसी क्रांति, 1789 के संबंध में कौन सा युग्म सही ढंग से मेल खाता है?

Options :

1. ✖ 1 मई 1789 : एस्टेट जनरल असेंबली
2. ✖ 15 जून 1789 : तीसरे एस्टेट द्वारा "नेशनल असेंबली" के शीर्षक की स्वीकृति
3. ✖ 15 जुलाई 1789 : नेकर की बरखास्तगी
4. ✔ 2 नवंबर 1789 : चर्च की संपत्ति का राष्ट्रीयकरण

Question Number : 111 Question Id : 16794319701 Question Type : MCQ Option Shuffling : Yes Display Question Number : Yes
Single Line Question Option : No Option Orientation : Vertical

Correct Marks : 1 Wrong Marks : 0.25

The declaration of 'the rights of man and of citizens' by the French Constituent Assembly on _____, is one of the most significant events of the French Revolution.

Options :

1. ✖ 21 June 1789
2. ✖ 14 July 1789
3. ✔ 26 August 1789
4. ✖ 21 December 1791

Question Number : 111 Question Id : 16794319701 Question Type : MCQ Option Shuffling : Yes Display Question Number : Yes
Single Line Question Option : No Option Orientation : Vertical

Correct Marks : 1 Wrong Marks : 0.25

फ्रेंच संविधान सभा द्वारा _____ पर "आदमी और नागरिकों के अधिकार" की घोषणा फ्रांसीसी क्रांति के सबसे महत्वपूर्ण घटनाओं में से एक है।

Options :

1. ✖ 21 जून 1789
2. ✖ 14 जुलाई 1789
3. ✔ 26 अगस्त 1789
4. ✖ 21 दिसंबर 1791

Question Number : 112 Question Id : 16794319702 Question Type : MCQ Option Shuffling : Yes Display Question Number : Yes
Single Line Question Option : No Option Orientation : Vertical

Correct Marks : 1 Wrong Marks : 0.25

Which of the following options is true of the revolt of 1857?

Options :

1. ☒ On 29 March 1857, Mangal Pandey fired on his officers at Barrackpore
2. ☐ On 10 May 1857, the sepoys at Meerut who refused to use the cartridges, were sentenced to ten years' imprisonment
3. ☐ On 11 May 1857, three Indian regiments shot their officers, broke open the prisons and released their companions
4. ☐ On 12 May 1857, they marched off to Delhi

Question Number : 112 Question Id : 16794319702 Question Type : MCQ Option Shuffling : Yes Display Question Number : Yes
Single Line Question Option : No Option Orientation : Vertical

Correct Marks : 1 Wrong Marks : 0.25

1857 के विद्रोह की घटनाओं में से कौन सा सच है?

Options :

1. ☒ 29 मार्च 1857 को, मंगल पांडे ने बैरकपुर में अपने अधिकारियों पर गोलीबारी की।
2. ☐ 10 मई 1857 को, कारतूस का उपयोग करने से इनकार करने वाले मेरठ के सिपाही को दस साल की कारावास की सजा सुनाई गई।
3. ☐ 11 मई 1857 को, तीन भारतीय रेजिमेंटों ने अपने अधिकारियों को गोली मार दी, जेलों को तोड़ दिया और अपने साथी को रिहा कर दिया।
4. ☐ 12 मई 1857 को, वे दिल्ली चले गए।

Question Number : 113 Question Id : 16794319703 Question Type : MCQ Option Shuffling : Yes Display Question Number : Yes
Single Line Question Option : No Option Orientation : Vertical

Correct Marks : 1 Wrong Marks : 0.25

Which East India Company official remarked about the contribution of Indian rulers that these rulers and chiefs "acted as the breakwaters of the storm which would have otherwise swept us in one great wave."

Options :

1. ☐ Henry John Temple
2. ☐ Lord Disraeli
3. ☒ Lord Canning

4. ✖ John Russell

Question Number : 113 Question Id : 16794319703 Question Type : MCQ Option Shuffling : Yes Display Question Number : Yes
Single Line Question Option : No Option Orientation : Vertical

Correct Marks : 1 Wrong Marks : 0.25

ईस्ट इंडिया कंपनी के किस अधिकारी ने भारतीय शासकों के योगदान के बारे में टिप्पणी की कि इन शासकों और प्रमुखों ने "तूफान की तरंग-रोधों (ब्रेकवाटर ऑफ स्टॉर्म) के रूप में कार्य किया जो अन्यथा हम एक महान लहर में फंस जाते।"?

Options :

1. ✖ हेनरी जॉन टेपल

2. ✖ लार्ड डिजरेली

3. ✔ लॉर्ड कैनिंग

4. ✖ जॉन रसेल

Question Number : 114 Question Id : 16794319704 Question Type : MCQ Option Shuffling : Yes Display Question Number : Yes
Single Line Question Option : No Option Orientation : Vertical

Correct Marks : 1 Wrong Marks : 0.25

When did Lord Canning proclaim peace and finally suppress the 1857 revolt?

Options :

1. ✖ 23 June 1858

2. ✖ 30 June 1858

3. ✖ 1 July 1858

4. ✔ 5 July 1858

Question Number : 114 Question Id : 16794319704 Question Type : MCQ Option Shuffling : Yes Display Question Number : Yes
Single Line Question Option : No Option Orientation : Vertical

Correct Marks : 1 Wrong Marks : 0.25

लॉर्ड कैनिंग ने शांति कब घोषित की और आखिरकार 1857 के विद्रोह को दबा दिया?

Options :

1. ✖ 23 जून 1858

2. ✖ 30 जून 1858

3. ✖ 1 जुलाई 1858

4. ✓ 5 जुलाई 1858

Question Number : 115 Question Id : 16794319705 Question Type : MCQ Option Shuffling : Yes Display Question Number : Yes
Single Line Question Option : No Option Orientation : Vertical

Correct Marks : 1 Wrong Marks : 0.25

The drain theory had an important role in the rise of economic nationalism in colonial India. Which statement is FALSE about the theory?

Options :

1. ✗ The acknowledged high-priest of the drain theory was Dadabhai Naoroji

2. ✗

It was in May 1867 that Dadabhai Naoroji put forward the idea that Britain was draining and 'bleeding' India.

3. ✗

The drain, Naoroji declared, was the basic cause of India's poverty and the fundamental evil of British rule in India.

4. ✓ The theory questioned the very economic exploitation by Indian capitalists

Question Number : 115 Question Id : 16794319705 Question Type : MCQ Option Shuffling : Yes Display Question Number : Yes
Single Line Question Option : No Option Orientation : Vertical

Correct Marks : 1 Wrong Marks : 0.25

औपनिवेशिक भारत में आर्थिक राष्ट्रवाद के उदय में धन-निष्कासन सिद्धांत (ड्रेन थ्योरी) की एक महत्वपूर्ण भूमिका थी। सिद्धांत के बारे में कौन सा कथन गलत है?

Options :

1. ✗ धन-निष्कासन सिद्धांत को स्वीकार करने वाले दादाभाई नौरोजी के महायाजक थे।

2. ✗

मई 1867 में दादाभाई नौरोजी ने कहा कि ब्रिटेन पूरी तरह से भारत से जल रहा है और भारत का खून बह रहा है।

3. ✗

नौरोजी ने घोषित किया, धन-निष्कासन भारत की गरीबी और भारत में ब्रिटिश शासन की मौलिक बुराई का मूल कारण था।

4. ✓ सिद्धांत ने भारतीय पूंजीपतियों द्वारा बहुत आर्थिक शोषण पर सवाल उठाया।

Question Number : 116 Question Id : 16794319706 Question Type : MCQ Option Shuffling : Yes Display Question Number : Yes
Single Line Question Option : No Option Orientation : Vertical

Correct Marks : 1 Wrong Marks : 0.25

Which of the following statements is/are correct about the partition of Bengal, 1905?

Options :

1. ✗ The decision to partition Bengal was announced on 19 July, 1905.

2. ✖

On September 1, the Government announced that partition was to be effected on 16 October 1905.

3. ✖

The day partition took effect - 16 October, 1905 - was declared a day of mourning throughout Bengal.

4. ✔ All of the given options

Question Number : 116 Question Id : 16794319706 Question Type : MCQ Option Shuffling : Yes Display Question Number : Yes
Single Line Question Option : No Option Orientation : Vertical

Correct Marks : 1 Wrong Marks : 0.25

बंगाल के विभाजन, 1905 के विभाजन के बारे में निम्नलिखित में से कौन सा कथन सही है?

Options :

1. ✖

बंगाल को विभाजित करने का निर्णय 19 जुलाई 1905 को घोषित किया गया था।

2. ✖

1 सितंबर को, सरकार ने घोषणा की कि 16 अक्टूबर 1905 को विभाजन को प्रभावित किया जाना था।

3. ✖

दिन विभाजन प्रभावी हुआ - 16 अक्टूबर 1905 - पूरे बंगाल में शोक का दिन घोषित किया गया था।

4. ✔ दिए गए विकल्पों में से सभी।

Question Number : 117 Question Id : 16794319707 Question Type : MCQ Option Shuffling : Yes Display Question Number : Yes
Single Line Question Option : No Option Orientation : Vertical

Correct Marks : 1 Wrong Marks : 0.25

Mahatma Gandhi began fast unto death onwards 20 September 1932 because of _____.

Options :

1. ✖

the Poona Pact

2. ✔

the Communal Award

3. ✖

failure of the second round table

4. ✖

re-launching of Civil Disobedience Movement

Question Number : 117 Question Id : 16794319707 Question Type : MCQ Option Shuffling : Yes Display Question Number : Yes
Single Line Question Option : No Option Orientation : Vertical

Correct Marks : 1 Wrong Marks : 0.25

_____ के कारण, महात्मा गांधी ने 20 सितंबर 1932 से आमरण अनशन शुरू किया।

Options :

1. ✖ पूना संधि
2. ✔ सांप्रदायिक पुरस्कार
3. ✖ दूसरी गोल मेज सम्मेलन की विफलता
4. ✖ नागरिक अवज्ञा आंदोलन की पुनः शुरुआत

Question Number : 118 Question Id : 16794319708 Question Type : MCQ Option Shuffling : Yes Display Question Number : Yes
Single Line Question Option : No Option Orientation : Vertical

Correct Marks : 1 Wrong Marks : 0.25

'*Bandi Jiwan*', which served as a textbook to the revolutionary movement, was written by _____.

Options :

1. ✖ Ramprasad Bismil
2. ✖ Jogesh Chatterjee
3. ✔ Sachindranath Sanyal
4. ✖ Rajendra Lahiri

Question Number : 118 Question Id : 16794319708 Question Type : MCQ Option Shuffling : Yes Display Question Number : Yes
Single Line Question Option : No Option Orientation : Vertical

Correct Marks : 1 Wrong Marks : 0.25

'बंदी जीवन', जिसने क्रांतिकारी आंदोलन के लिए पाठ्यपुस्तक के रूप में कार्य किया, _____ द्वारा लिखा गया था।

Options :

1. ✖ रामप्रसाद बिस्मिल
2. ✖ जोगेश चटर्जी
3. ✔ सचिंद्रनाथ सान्याल
4. ✖ राजेंद्र लाहिरी

Question Number : 119 Question Id : 16794319709 Question Type : MCQ Option Shuffling : Yes Display Question Number : Yes
Single Line Question Option : No Option Orientation : Vertical

Correct Marks : 1 Wrong Marks : 0.25

Who was the president of the Indian National Congress during independence in 1947?

Options :

1. ✖ Jawaharlal Nehru
2. ✖ Rajendra Prasad
3. ✔ J.B. Kriplani
4. ✖ Moulana Abul Kalam Azad

Question Number : 119 Question Id : 16794319709 Question Type : MCQ Option Shuffling : Yes Display Question Number : Yes
Single Line Question Option : No Option Orientation : Vertical

Correct Marks : 1 Wrong Marks : 0.25

1947 में आजादी के दौरान भारतीय राष्ट्रीय कांग्रेस के अध्यक्ष कौन थे?

Options :

1. ✖ जवाहर लाल नेहरू
2. ✖ राजेन्द्र प्रसाद
3. ✔ जेबी कृपलानी
4. ✖ मौलाना अबुल कलाम आजाद

Question Number : 120 Question Id : 16794319710 Question Type : MCQ Option Shuffling : Yes Display Question Number : Yes
Single Line Question Option : No Option Orientation : Vertical

Correct Marks : 1 Wrong Marks : 0.25

Which of the following is FALSE about the Indian National Congress' Lahore session held in December 1929?

Options :

1. ✖ Jawaharlal Nehru was the president of session
2. ✖ The session passed the resolution of Purna Swarajya
3. ✔ The session adopted the non-violent methods of Non-cooperation and Civil Disobedience for the goal of Dominion Status
4. ✖ None of the given options

Question Number : 120 Question Id : 16794319710 Question Type : MCQ Option Shuffling : Yes Display Question Number : Yes
Single Line Question Option : No Option Orientation : Vertical

Correct Marks : 1 Wrong Marks : 0.25

दिसम्बर 1929 में भारतीय राष्ट्रीय कांग्रेस के लाहौर अधिवेशन के बारे में निम्नलिखित में से कौन सा गलत है?

Options :

1. ✖ जवाहर लाल नेहरू सत्र के अध्यक्ष थे।

2. ✖ इस सत्र में पूर्ण स्वराज के संकल्प/प्रस्ताव पारित किया गया।

3. ✔

सत्र ने डोमिनियन स्थिति के लक्ष्य के लिए असहयोग और नागरिक अवज्ञा के अहिंसक तरीकों को अपनाया।

4. ✖ दिए गए विकल्पों से कोई नहीं।

Subject Related

Group Number :	7
Group Id :	167943750
Group Maximum Duration :	0
Group Minimum Duration :	0
Revisit allowed for view? :	No
Revisit allowed for edit? :	No
Break time:	0
Group Marks:	20
Revisit allowed for group Instructions? :	Yes
Maximum Instruction Time:	0
Minimum Instruction Time:	0

Subject Related

Section Id :	167943815
Section Number :	1
Section type :	Online
Mandatory or Optional:	Mandatory
Number of Questions:	20
Number of Questions to be attempted:	20
Section Marks:	20
Display Number Panel:	Yes
Group All Questions:	No

Sub-Section Number:	1
Sub-Section Id:	1679431256
Question Shuffling Allowed :	Yes

Question Number : 121 Question Id : 16794319711 Question Type : MCQ Option Shuffling : Yes Display Question Number : Yes
Single Line Question Option : No Option Orientation : Vertical

Correct Marks : 1 Wrong Marks : 0.25

Which one out of the following statements is INCORRECT about the idea of Iqbal's Muslim state in colonial period?

Options :

1. ✖ He voiced his idea in December 1930 at the All India Muslim League

2. ✖

His idea of the Muslim state was one that was within India and restricted to Muslim majority areas in the north-western provinces .

3. ✔ Iqbal declared Indian Muslims as a 'nation'

4. ✖

He initially called for a state based on the territorial amalgamation of the Punjab, the North-Western provinces, Sind and Balochistan.

Question Number : 121 Question Id : 16794319711 Question Type : MCQ Option Shuffling : Yes Display Question Number : Yes
Single Line Question Option : No Option Orientation : Vertical

Correct Marks : 1 Wrong Marks : 0.25

औपनिवेशिक काल में इकबाल के मुस्लिम देश के विचार के बारे में निम्नलिखित में से कौन सा कथन गलत है?

Options :

1. ✖ उन्होंने अखिल भारतीय मुस्लिम लीग में दिसंबर 1930 में अपना विचार व्यक्त किया।

2. ✖

उनके मुस्लिम देश की कल्पना भारत के भीतर और उत्तर-पश्चिमी प्रांतों में मुस्लिम बहुमत वाले क्षेत्रों तक ही सीमित थी।

3. ✔ इकबाल ने भारतीय मुसलमानों को 'राष्ट्र' के रूप में घोषित किया।

4. ✖

उन्होंने शुरुआत में पंजाब, उत्तर-पश्चिमी प्रांत, सिंध और बलूचिस्तान के क्षेत्रीय एकीकरण के आधार पर एक देश के लिए बुलाया।

Question Number : 122 Question Id : 16794319712 Question Type : MCQ Option Shuffling : Yes Display Question Number : Yes
Single Line Question Option : No Option Orientation : Vertical

Correct Marks : 1 Wrong Marks : 0.25

Who was famous as an 'Ambassador of Hindu-Muslim Unity'?

Options :

1. ✖ Sir Syed Ahmad Khan

2. ✖ Moulana Abul Kalam Aazad

3. ✔ Muhammad Ali Jinnah

4. ✖ Iqbal

Question Number : 122 Question Id : 16794319712 Question Type : MCQ Option Shuffling : Yes Display Question Number : Yes
Single Line Question Option : No Option Orientation : Vertical

Correct Marks : 1 Wrong Marks : 0.25

'हिंदू-मुस्लिम एकता के राजदूत' के रूप में प्रसिद्ध कौन थे?

Options :

1. ✖ सर सैयद अहमद खान
2. ✖ मौलाना अबुल कलाम आजाद
3. ✔ मुहम्मद अली जिन्ना
4. ✖ इकबाल

Question Number : 123 Question Id : 16794319713 Question Type : MCQ Option Shuffling : Yes Display Question Number : Yes
Single Line Question Option : No Option Orientation : Vertical

Correct Marks : 1 Wrong Marks : 0.25

In the 1937 annual session of Muslim League held in Lucknow, Jinnah declared that there were three entities in India:

Options :

1. ✖ The Hindus, the Muslims and other religious minorities
2. ✖ The Congress, the Muslim League and Dr. Ambedkar's followers
3. ✔ The Congress, The British, and the Muslim League
4. ✖ The Hindu, The British, the religious minorities

Question Number : 123 Question Id : 16794319713 Question Type : MCQ Option Shuffling : Yes Display Question Number : Yes
Single Line Question Option : No Option Orientation : Vertical

Correct Marks : 1 Wrong Marks : 0.25

लखनऊ में आयोजित मुस्लिम लीग के 1937 के वार्षिक अधिवेशन में जिन्ना ने घोषणा की कि भारत में तीन संस्थाएं थे:

Options :

1. ✖ हिंदू, मुस्लिम और अन्य धार्मिक अल्पसंख्यक
2. ✖ कांग्रेस, मुस्लिम लीग और डॉ अम्बेडकर के अनुयायी
3. ✔ कांग्रेस, ब्रिटिश, और मुस्लिम लीग

4. ✖ हिंदू, ब्रिटिश, धार्मिक अल्पसंख्यक

Question Number : 124 Question Id : 16794319714 Question Type : MCQ Option Shuffling : Yes Display Question Number : Yes
Single Line Question Option : No Option Orientation : Vertical

Correct Marks : 1 Wrong Marks : 0.25

Arrange the following Governor Generals of India in ascending order.

Options :

1. ✔ Lord Amherst, Lord William Bentinck, Lord Auckland, Lord Ellenborough
2. ✖ Lord William Bentinck, Lord Auckland, Lord Ellenborough, Lord Amherst
3. ✖ Lord Auckland, Lord Ellenborough, Lord Amherst, Lord William Bentinck
4. ✖ Lord Ellenborough, Lord Auckland, Lord Amherst, Lord William Bentinck

Question Number : 124 Question Id : 16794319714 Question Type : MCQ Option Shuffling : Yes Display Question Number : Yes
Single Line Question Option : No Option Orientation : Vertical

Correct Marks : 1 Wrong Marks : 0.25

भारत के निम्नलिखित गवर्नर जर्नल को आरोही क्रम में व्यवस्थित करें।

Options :

1. ✔ लॉर्ड एम्हेस्ट, लॉर्ड विलियम बेंटिंक, लॉर्ड ऑकलैंड, लॉर्ड एलेनबोरो
2. ✖ लॉर्ड विलियम बेंटिंक, लॉर्ड ऑकलैंड, लॉर्ड एलेनबोरो, लॉर्ड एम्हेस्ट
3. ✖ लॉर्ड ऑकलैंड, लॉर्ड एलेनबोरो, लॉर्ड एम्हेस्ट, लॉर्ड विलियम बेंटिनक
4. ✖ लॉर्ड एलेनबोरो, लॉर्ड ऑकलैंड, लॉर्ड एम्हेस्ट, लॉर्ड विलियम बेंटिनक

Question Number : 125 Question Id : 16794319715 Question Type : MCQ Option Shuffling : Yes Display Question Number : Yes
Single Line Question Option : No Option Orientation : Vertical

Correct Marks : 1 Wrong Marks : 0.25

Lenin's 'Letters from Afar' were written from _____ in March 1917.

Options :

1. ✖ Germany
2. ✖ France
3. ✔ Switzerland

4. ✖ Vienna

Question Number : 125 Question Id : 16794319715 Question Type : MCQ Option Shuffling : Yes Display Question Number : Yes
Single Line Question Option : No Option Orientation : Vertical

Correct Marks : 1 Wrong Marks : 0.25

लेनिन के 'लेटर्स फ्रॉम अफार'('Letters from Afar) मार्च 1917 में _____ से लिखे गए थे।

Options :

1. ✖ जर्मनी

2. ✖ फ्रांस

3. ✔ स्विट्जरलैंड

4. ✖ वियना

Question Number : 126 Question Id : 16794319716 Question Type : MCQ Option Shuffling : Yes Display Question Number : Yes
Single Line Question Option : No Option Orientation : Vertical

Correct Marks : 1 Wrong Marks : 0.25

The Provisional Government after the February 1917 revolution in Russia failed to spread unrest among peasants because:

Options :

1. ✖ The Provisional Government was run by the less popular group, the Mensheviks

2. ✖

Peasants realised that the Provisional Government was not serious about solving their problems

3. ✖ The peasants' revolts were increasing day by day

4. ✔ All of the given options

Question Number : 126 Question Id : 16794319716 Question Type : MCQ Option Shuffling : Yes Display Question Number : Yes
Single Line Question Option : No Option Orientation : Vertical

Correct Marks : 1 Wrong Marks : 0.25

फरवरी 1917 की क्रांति के बाद अल्पकालीन सरकार रूस में किसानों के बीच अशांति फैलाने में नाकाम रही क्योंकि:

Options :

1. ✖ अल्पकालीन सरकार कम लोकप्रिय समूह, मेन्शेविक द्वारा संचालित थी।

2. ✖

किसानों को एहसास हुआ कि अल्पकालीन सरकार उनकी समस्याओं को हल करने के लिए गंभीर नहीं थी।

3. ✖ किसानों के विद्रोह दिन-प्रतिदिन बढ़ रहे थे।

4. ✔ दिए गए विकल्पों में से सभी।

Question Number : 127 Question Id : 16794319717 Question Type : MCQ Option Shuffling : Yes Display Question Number : Yes
Single Line Question Option : No Option Orientation : Vertical

Correct Marks : 1 Wrong Marks : 0.25

The Bolsheviks' victory was not complete as long as the Winter Palace remained in the hands of the Provisional Government because:

Options :

1. ✖ It was a chief treasury office

2. ✔ It was the office of Kerensky government

3. ✖ It was the main centre of the Soviet of Peasants

4. ✖ It was main office of the Soviet of Petrograd

Question Number : 127 Question Id : 16794319717 Question Type : MCQ Option Shuffling : Yes Display Question Number : Yes
Single Line Question Option : No Option Orientation : Vertical

Correct Marks : 1 Wrong Marks : 0.25

बोलशेविक की जीत तब तक पूरी नहीं हुई जब तक कि विंटर पैलेस अल्पकालीन सरकार के हाथों में न रहे क्योंकि:

Options :

1. ✖ यह एक मुख्य ट्रेज़री ऑफिस था।

2. ✔ यह केरेन्स्की सरकार का कार्यालय था।

3. ✖ यह किसानों के सोवियत संघ का मुख्य केंद्र था।

4. ✖ यह पेट्रोग्रैड के सोवियत संघ का मुख्य कार्यालय था।

Question Number : 128 Question Id : 16794319718 Question Type : MCQ Option Shuffling : Yes Display Question Number : Yes
Single Line Question Option : No Option Orientation : Vertical

Correct Marks : 1 Wrong Marks : 0.25

The thoughts of _____ were published together in a treatise entitled *The German Ideology*.

Options :

1. ✖ Friedrich Engels

2. ✔ Karl Marx

3. ✖ Martin Luther

4. ✖ David Ricardo

Question Number : 128 Question Id : 16794319718 Question Type : MCQ Option Shuffling : Yes Display Question Number : Yes
Single Line Question Option : No Option Orientation : Vertical

Correct Marks : 1 Wrong Marks : 0.25

जर्मन आइडियोलॉजी नामक एक ग्रंथ में _____ विचारों को एक साथ प्रकाशित किया गया था।

Options :

1. ✖ फ्रेडरिक एंगेल्स

2. ✔ कार्ल मार्क्स

3. ✖ मार्टिन लूथर

4. ✖ डेविड रिकार्डो

Question Number : 129 Question Id : 16794319719 Question Type : MCQ Option Shuffling : Yes Display Question Number : Yes
Single Line Question Option : No Option Orientation : Vertical

Correct Marks : 1 Wrong Marks : 0.25

The chaotic insurrectionary events of 1848 begged for a coherent interpretation, which Marx and Engels intended to supply. Which is/are correct about their provocative theory?

Options :

1. ✖

The proletariat was now rising to overthrow the currently prevailing dominance of the bourgeoisie

2. ✖

The state, invariably an instrument of the ruling class, would doubtless attempt to suppress this immense uprising of workers

3. ✖

But ultimately the revolution was bound to succeed in overthrowing the existing social order and establishing a classless society

4. ✔ All of the given options

Question Number : 129 Question Id : 16794319719 Question Type : MCQ Option Shuffling : Yes Display Question Number : Yes
Single Line Question Option : No Option Orientation : Vertical

Correct Marks : 1 Wrong Marks : 0.25

1848 की अराजक विद्रोहियों की घटनाओं ने एक सुसंगत व्याख्या के लिए आग्रह किया, जिसे मार्क्स और एंगेल्सने दिया। उनके उत्तेजक सिद्धांत के बारे में कौन सा सही है?

Options :

1. ✖

श्रमजीवी वर्ग अब बुर्जुआ के वर्तमान प्रचलित प्रभुत्व को खत्म करने के लिए आगे बढ़ रहे थे।

2. ✖

राज्य, हमेशा शासक वर्ग का एक साधन, श्रमिकों के इस विशाल विद्रोह को दबाने का प्रयास करेगा।

3. ✖

लेकिन आखिरकार क्रांति मौजूदा सामाजिक व्यवस्था को उखाड़ फेंकने और एक वर्गीकृत समाज की स्थापना में सफल होने के लिए बाध्य थी।

4. ✔ दिए गए विकल्पों में से सभी।

Question Number : 130 Question Id : 16794319720 Question Type : MCQ Option Shuffling : Yes Display Question Number : Yes
Single Line Question Option : No Option Orientation : Vertical

Correct Marks : 1 Wrong Marks : 0.25

Who gave the famous motto "the socialist movement means everything, the end means nothing," which recurs frequently in Liberal Socialism?

Options :

1. ✖ Karl Marx

2. ✔ Eduard Bernstein

3. ✖ Rosselli

4. ✖ Benedetto Croce

Question Number : 130 Question Id : 16794319720 Question Type : MCQ Option Shuffling : Yes Display Question Number : Yes
Single Line Question Option : No Option Orientation : Vertical

Correct Marks : 1 Wrong Marks : 0.25

किस मशहूर आदर्श वाक्य को "समाजवादी आंदोलन का मतलब सब कुछ है, अंत का मतलब कुछ भी नहीं है," जो अक्सर उदार समाजवाद में दोहराता है?

Options :

1. ✖ कार्ल मार्क्स

2. ✔ एडवर्ड बर्नस्टीन

3. ✖ रोस्सेली

4. ✖ बेनेडेटो क्रोस

Question Number : 131 Question Id : 16794319721 Question Type : MCQ Option Shuffling : Yes Display Question Number : Yes
Single Line Question Option : No Option Orientation : Vertical

Correct Marks : 1 Wrong Marks : 0.25

Which of the following did NOT play a crucial role in rise of Nazism in Germany?

Options :

1. ✖ Treaty of Versailles

2. ✖

The core of the Nazis, the disillusioned generation that came of age in the 1920s, like Strasser, Ernst Rohm, Hess and Hitler, belonging to the trench generation

3. ✖ Growing fear of Communism

4. ✔ Anti-Aryan propaganda

Question Number : 131 Question Id : 16794319721 Question Type : MCQ Option Shuffling : Yes Display Question Number : Yes
Single Line Question Option : No Option Orientation : Vertical

Correct Marks : 1 Wrong Marks : 0.25

जर्मनी में नाज़ीवाद के उदय में किसने महत्वपूर्ण भूमिका नहीं निभाई?

Options :

1. ✖ वर्साय की संधि

2. ✖

नाज़ियों का मूल, भूमित पीढ़ी जो 1920 के दशक में आया था, स्ट्रैसर, अन्स्ट रोहम, हेस और हिटलर ट्रेंच जनरेशन से संबंधित है।

3. ✖ कम्युनिज्म का बढ़ता डर

4. ✔ विरोधी आर्यन प्रचार

Question Number : 132 Question Id : 16794319722 Question Type : MCQ Option Shuffling : Yes Display Question Number : Yes
Single Line Question Option : No Option Orientation : Vertical

Correct Marks : 1 Wrong Marks : 0.25

Hitler's decision to intervene in the Spanish Civil war in 1936 was NOT as opportunistic because:

Options :

1. ✖ He wanted an alliance with Spain in future war politics

2. ✔

He was convinced that a Bolshevik Spain would be a strategic threat to Germany from the West

3. ✖ He wanted to annex of Spain in German empire

4. ✖ All of the given options

Question Number : 132 Question Id : 16794319722 Question Type : MCQ Option Shuffling : Yes Display Question Number : Yes
Single Line Question Option : No Option Orientation : Vertical

Correct Marks : 1 Wrong Marks : 0.25

1936 में स्पेनिश गृहयुद्ध में हस्तक्षेप करने के लिए हिटलर का निर्णय अवसरवादी नहीं था क्योंकि:

Options :

1. ✖ वह भावी युद्ध राजनीति में स्पेन के साथ गठबंधन करना चाहता था।

2. ✔

उन्हें आश्चर्य हुआ कि बोल्शेविक स्पेन पश्चिम से जर्मनी के लिए रणनीतिक खतरा होगा।

3. ✖ वह जर्मन साम्राज्य में स्पेन से जुड़ना चाहता था।

4. ✖ दिए गए विकल्पों में से सभी।

Question Number : 133 Question Id : 16794319723 Question Type : MCQ Option Shuffling : Yes Display Question Number : Yes
Single Line Question Option : No Option Orientation : Vertical

Correct Marks : 1 Wrong Marks : 0.25

‘Which of the following is NOT a feature of the Fascism led by Mussolini in Italy?’

Options :

1. ✖ The deification of the State and the Ruler

2. ✖ Absolute sovereignty of the State

3. ✖ Insistence on the duties of the citizens

4. ✔ Slow measures to establish democracy

Question Number : 133 Question Id : 16794319723 Question Type : MCQ Option Shuffling : Yes Display Question Number : Yes
Single Line Question Option : No Option Orientation : Vertical

Correct Marks : 1 Wrong Marks : 0.25

इटली में मुसोलिनी के नेतृत्व में फासीवाद की विशेषताओं में क्या शामिल नहीं है?

Options :

1. ✖ राज्य और शासक का विवाद

2. ✖ राज्य की पूर्ण संप्रभुता

3. ✖ नागरिकों के कर्तव्यों पर जोर

4. ✔ लोकतंत्र स्थापित करने के लिए उपाय

Question Number : 134 Question Id : 16794319724 Question Type : MCQ Option Shuffling : Yes Display Question Number : Yes
Single Line Question Option : No Option Orientation : Vertical

Correct Marks : 1 Wrong Marks : 0.25

Which one of the following measures was NOT adopted to improve the Italian economy by Mussolini?

Options :

1. ✖ The government imposed heavy taxes on the rich
2. ✖ He set up councils or corporations for each industry with representatives of workers, employers and nominees of the Fascist party to improve production
3. ✔ He fixed 14 hours a day as working time in factories
4. ✖ He compelled the factory owners to contribute towards the life insurance of their employees

Question Number : 134 Question Id : 16794319724 Question Type : MCQ Option Shuffling : Yes Display Question Number : Yes
Single Line Question Option : No Option Orientation : Vertical

Correct Marks : 1 Wrong Marks : 0.25

निम्नलिखित में से किस उपाय को मुसोलिनी द्वारा इतालवी अर्थव्यवस्था में सुधार करने के लिए नहीं अपनाया?

Options :

1. ✖ सरकार ने अमीरों पर भारी कर लगाया।
2. ✖ उन्होंने उत्पादन में सुधार के लिए मजदूरों, नियोक्ताओं और फासीवादी पार्टी के नामांकित व्यक्तियों के प्रतिनिधियों के साथ प्रत्येक उद्योग के लिए परिषदों या निगमों की स्थापना की।
3. ✔ उन्होंने कारखानों में कामकाजी समय के रूप में दिन में 14 घंटे तय किए।
4. ✖ उन्होंने फैक्ट्री मालिकों को अपने कर्मचारियों के जीवन बीमा की दिशा में योगदान करने के लिए मजबूर किया।

Question Number : 135 Question Id : 16794319725 Question Type : MCQ Option Shuffling : Yes Display Question Number : Yes
Single Line Question Option : No Option Orientation : Vertical

Correct Marks : 1 Wrong Marks : 0.25

Which of the following statements is FALSE about the First World War in its initial phase?

Options :

1. ✖ Belgium was a neutral country
2. ✖ Italy remained neutral on the ground that Germany was not fighting a defensive war
3. ✖ The British position was unclear as the British Government was divided on the issue of going to war

4. ✓ Germany's invasion on Belgium ended the neutrality of France

Question Number : 135 Question Id : 16794319725 Question Type : MCQ Option Shuffling : Yes Display Question Number : Yes
Single Line Question Option : No Option Orientation : Vertical

Correct Marks : 1 Wrong Marks : 0.25

प्रारंभिक चरण में प्रथम विश्व युद्ध के बारे में कौन सा कथन गलत है?

Options :

1. ✗ बेल्जियम एक तटस्थ देश था।
2. ✗ इटली इस आधार पर तटस्थ रहा कि जर्मनी रक्षात्मक युद्ध नहीं लड़ रहा था।
3. ✗ ब्रिटिश स्थिति अस्पष्ट थी क्योंकि ब्रिटिश सरकार को युद्ध के मुद्दे पर विभाजित थी।
4. ✓ बेल्जियम पर जर्मनी के आक्रमण ने फ्रांस की तटस्थता समाप्त कर दी।

Question Number : 136 Question Id : 16794319726 Question Type : MCQ Option Shuffling : Yes Display Question Number : Yes
Single Line Question Option : No Option Orientation : Vertical

Correct Marks : 1 Wrong Marks : 0.25

Which countries formed the Triple Alliance in 1882?

Options :

1. ✗ Germany, Japan, Russia
2. ✗ Germany, Japan, Italy
3. ✗ Germany, Austria, Hungary
4. ✓ Germany, Austria, Italy

Question Number : 136 Question Id : 16794319726 Question Type : MCQ Option Shuffling : Yes Display Question Number : Yes
Single Line Question Option : No Option Orientation : Vertical

Correct Marks : 1 Wrong Marks : 0.25

1882 में किन देशों ने मिलकर ट्रिपल अलायंस बनाया?

Options :

1. ✗ जर्मनी, जापान, रूस
2. ✗ जर्मनी, जापान, इटली

3. ✖ जर्मनी, ऑस्ट्रिया, हंगरी

4. ✔ जर्मनी, ऑस्ट्रिया, इटली

Question Number : 137 Question Id : 16794319727 Question Type : MCQ Option Shuffling : Yes Display Question Number : Yes
Single Line Question Option : No Option Orientation : Vertical

Correct Marks : 1 Wrong Marks : 0.25

Italy entered in the Second World War in _____.

Options :

1. ✖ 1 September, 1939

2. ✖ 3 September, 1939

3. ✖ 1 June, 1940

4. ✔ 10 June, 1940

Question Number : 137 Question Id : 16794319727 Question Type : MCQ Option Shuffling : Yes Display Question Number : Yes
Single Line Question Option : No Option Orientation : Vertical

Correct Marks : 1 Wrong Marks : 0.25

इटली द्वितीय विश्व युद्ध में _____ में प्रवेश किया।

Options :

1. ✖ 1 सितंबर 1939

2. ✖ 3 सितंबर 1939

3. ✖ 1 जून 1940

4. ✔ 10 जून 1940

Question Number : 138 Question Id : 16794319728 Question Type : MCQ Option Shuffling : Yes Display Question Number : Yes
Single Line Question Option : No Option Orientation : Vertical

Correct Marks : 1 Wrong Marks : 0.25

Which of the following pairs of events and dates is mismatched about the Second World War?

Options :

1. ✖ 27 September 1939: Warsaw falls and Poland surrenders

2. ✖ 10 June 1940: Norway surrenders

3. ✓ 29 June 1940: France surrenders

4. ✗ 19 July 1940: Hitler offers Britain a peace settlement

Question Number : 138 Question Id : 16794319728 Question Type : MCQ Option Shuffling : Yes Display Question Number : Yes
Single Line Question Option : No Option Orientation : Vertical

Correct Marks : 1 Wrong Marks : 0.25

द्वितीय विश्व युद्ध के संबंध में निम्नलिखित में से कौन सी घटना मेल नहीं खाती है?

Options :

1. ✗ 27 सितंबर 1939 : वारसाँ परास्त होता है और पोलैंड आत्मसमर्पण करता है।

2. ✗ 10 जून 1940 : नॉर्वे आत्मसमर्पण करता है।

3. ✓ 29 जून 1940 : फ्रांस आत्मसमर्पण करता है।

4. ✗ 19 जुलाई 1940 : हिटलर ब्रिटेन को शांति समझौते का प्रस्ताव करता है।

Question Number : 139 Question Id : 16794319729 Question Type : MCQ Option Shuffling : Yes Display Question Number : Yes
Single Line Question Option : No Option Orientation : Vertical

Correct Marks : 1 Wrong Marks : 0.25

There are six principal organs of the United Nations. Which one is NOT one of the six principal organs?

Options :

1. ✗ The General Assembly

2. ✗ The Trusteeship Council

3. ✗ The Secretariat

4. ✓ The United Nations Children's Fund (UNICEF)

Question Number : 139 Question Id : 16794319729 Question Type : MCQ Option Shuffling : Yes Display Question Number : Yes
Single Line Question Option : No Option Orientation : Vertical

Correct Marks : 1 Wrong Marks : 0.25

संयुक्त राष्ट्र के छह प्रमुख अंग हैं। छह मुख्य अंगों में निम्न में से कौन सा शामिल नहीं है?

Options :

1. ✗ महासभा

2. ✗ न्यासी परिषद (ट्रस्टीशिप काउंसिल)

3. ✖ सचिवालय

4. ✔ संयुक्त राष्ट्र बाल निधि (यूनीसेफ)

Question Number : 140 Question Id : 16794319730 Question Type : MCQ Option Shuffling : Yes Display Question Number : Yes
Single Line Question Option : No Option Orientation : Vertical

Correct Marks : 1 Wrong Marks : 0.25

The headquarters of the United Nations was previously located at _____, which later shifted to New York.

Options :

1. ✖ Geneva

2. ✖ Vienna

3. ✔ Paris

4. ✖ London

Question Number : 140 Question Id : 16794319730 Question Type : MCQ Option Shuffling : Yes Display Question Number : Yes
Single Line Question Option : No Option Orientation : Vertical

Correct Marks : 1 Wrong Marks : 0.25

संयुक्त राष्ट्र का मुख्यालय न्यूयॉर्क में स्थानांतरित होने से पहले _____ में स्थित था।

Options :

1. ✖ जिनेवा

2. ✖ वियना

3. ✔ पेरिस

4. ✖ लंदन

Subject Related

Group Number :	8
Group Id :	167943751
Group Maximum Duration :	0
Group Minimum Duration :	0
Revisit allowed for view? :	No
Revisit allowed for edit? :	No
Break time:	0
Group Marks:	20
Revisit allowed for group Instructions? :	Yes
Maximum Instruction Time:	0

Minimum Instruction Time:

0

Subject Related

Section Id :	167943816
Section Number :	1
Section type :	Online
Mandatory or Optional:	Mandatory
Number of Questions:	20
Number of Questions to be attempted:	20
Section Marks:	20
Display Number Panel:	Yes
Group All Questions:	No

Sub-Section Number:	1
Sub-Section Id:	1679431257
Question Shuffling Allowed :	Yes

Question Number : 141 Question Id : 16794319731 Question Type : MCQ Option Shuffling : Yes Display Question Number : Yes
Single Line Question Option : No Option Orientation : Vertical

Correct Marks : 1 Wrong Marks : 0.25

The Sun was formed by moving cloud of gases, known as:

Options :

1. ✖ Gedid
2. ✖ Eratosthenes
3. ✔ Nebula
4. ✖ While dwarfs

Question Number : 141 Question Id : 16794319731 Question Type : MCQ Option Shuffling : Yes Display Question Number : Yes
Single Line Question Option : No Option Orientation : Vertical

Correct Marks : 1 Wrong Marks : 0.25

सूर्य का निर्माण गतिशील गैसों के बादल से हुआ, जिसे कहा जाता है:

Options :

1. ✖ जेडिड
2. ✖ एरेटोस्थेनेज
3. ✔ नाब्यूला
4. ✖ हवाइल इवार्फ

Question Number : 142 Question Id : 16794319732 Question Type : MCQ Option Shuffling : Yes Display Question Number : Yes
Single Line Question Option : No Option Orientation : Vertical

Correct Marks : 1 Wrong Marks : 0.25

With regard to the value of latitudes of important places, which of the followings is matched correctly?

- | | |
|------------------------|----------------------|
| 1. Equator | 1. Zero |
| 2. Tropic of Cancer | 2. $23^{\circ} 30'N$ |
| 3. Tropic of Capricorn | 3. $23^{\circ} 30'S$ |
| 4. Arctic Circle | 4. $66^{\circ} 30'S$ |
| 5. Antarctic Circle | 5. $66^{\circ} 30'N$ |

Options :

1. ✖ 1, 2 and 5 only
2. ✖ 1, 4 and 5 only
3. ✖ 1, 3 and 4 only
4. ✔ 1, 2 and 3 only

Question Number : 142 Question Id : 16794319732 Question Type : MCQ Option Shuffling : Yes Display Question Number : Yes
Single Line Question Option : No Option Orientation : Vertical

Correct Marks : 1 Wrong Marks : 0.25

महत्वपूर्ण स्थानों के रूप में अक्षांश के मूल्य के संबंध में, कौन सा अनुवर्ती मिलान सही ढंग से मेल खाता है?

- | | |
|----------------------|----------------------|
| 1. इक्वेटर | 1. शून्य |
| 2. कर्क रेखा | 2. $23^{\circ} 30'N$ |
| 3. मकर रेखा | 3. $23^{\circ} 30'S$ |
| 4. उत्तरी ध्रुववृत्त | 4. $66^{\circ} 30'S$ |
| 5. दक्षिण ध्रुववृत्त | 5. $66^{\circ} 30'N$ |

Options :

1. ✖ केवल 1, 2 और 5
2. ✖ केवल 1, 4 और 5
3. ✖ केवल 1, 3 और 4
4. ✔ केवल 1, 2 और 3

Question Number : 143 Question Id : 16794319733 Question Type : MCQ Option Shuffling : Yes Display Question Number : Yes
Single Line Question Option : No Option Orientation : Vertical

Correct Marks : 1 Wrong Marks : 0.25

Which of the following statements is INCORRECT about Continental drift theory?

1. Alfred Wegener propounded his concept on continental drift in the year 1912.
2. All the continents formed a single continental mass and a mega ocean surrounded the same.
3. The super continent was called 'Pangaea' and mega – ocean was called 'Panthalassa'.

Options :

1. ✖ 1 only
2. ✖ 2 only
3. ✖ 1 and 3 both
4. ✔ None of the given options

Question Number : 143 Question Id : 16794319733 Question Type : MCQ Option Shuffling : Yes Display Question Number : Yes
Single Line Question Option : No Option Orientation : Vertical

Correct Marks : 1 Wrong Marks : 0.25

महाद्वीपीय विस्थापन सिद्धांत के बारे में निम्नलिखित में से कौन सा कथन गलत है?

1. अल्फ्रेड वेगेनर ने 1912 में महाद्वीपीय विस्थापन पर अपनी अवधारणा का प्रस्ताव दिया।
2. सभी महाद्वीपों को मिलाकर एक महाद्वीपीय समूह बन गया और इस समूह को एक मेगा महासागर ने चारों ओर से घेर लिया।
3. सुपर महाद्वीप को 'पैंजिया' और मेगा महासागर को 'पंथलास्सा' कहा जाता था।

Options :

1. ✖ केवल 1
2. ✖ केवल 2
3. ✖ 1 और 3 दोनों
4. ✔ दिए गए विकल्पों में से कोई नहीं।

Question Number : 144 Question Id : 16794319734 Question Type : MCQ Option Shuffling : Yes Display Question Number : Yes
Single Line Question Option : No Option Orientation : Vertical

Correct Marks : 1 Wrong Marks : 0.25

The word 'Sedimentary' is derived from the Latin word:

Options :

1. ✖ Sedimentaranuim

2. ✖ Sedimentanuim

3. ✔ Sedimentum

4. ✖ Sedimentium

Question Number : 144 Question Id : 16794319734 Question Type : MCQ Option Shuffling : Yes Display Question Number : Yes
Single Line Question Option : No Option Orientation : Vertical

Correct Marks : 1 Wrong Marks : 0.25

शब्द 'सेडिमेंटरी' कौन से लैटिन शब्द से लिया गया है?

Options :

1. ✖ सेडीमेंटेरेनुईम (Sedimentaranuim)

2. ✖ सेडीमेंटनइम (Sedimentanuim)

3. ✔ सेडीमेंटम (Sedimentum)

4. ✖ सेडीमेंटियम (Sedimentium)

Question Number : 145 Question Id : 16794319735 Question Type : MCQ Option Shuffling : Yes Display Question Number : Yes
Single Line Question Option : No Option Orientation : Vertical

Correct Marks : 1 Wrong Marks : 0.25

Put the following in ascending order when moving from earth upwards.

1. Ionosphere 2. Stratosphere 3. Troposphere

Options :

1. ✖ 1, 2, 3

2. ✖ 2, 3, 1

3. ✔ 3, 2, 1

4. ✖ 2, 1, 3

Question Number : 145 Question Id : 16794319735 Question Type : MCQ Option Shuffling : Yes Display Question Number : Yes
Single Line Question Option : No Option Orientation : Vertical

Correct Marks : 1 Wrong Marks : 0.25

धरती से आगे बढ़ते समय निम्नलिखित आरोही क्रम में रखें।

1. आयनमंडल 2. समताप मंडल 3. क्षोभ मंडल

Options :

1. ✖ 1, 2, 3

2. ✖ 2, 3, 1

3. ✔ 3, 2, 1

4. ✖ 2, 1, 3

Question Number : 146 Question Id : 16794319736 Question Type : MCQ Option Shuffling : Yes Display Question Number : Yes
Single Line Question Option : No Option Orientation : Vertical

Correct Marks : 1 Wrong Marks : 0.25

Which of the following is NOT true about Rocks?

Options :

1. ✖ The earth's crust is composed of rocks, which is an aggregate of one or more minerals.

2. ✖ Igneous rocks form out of magma and lava from the interior of earth.

3. ✖ Rocks (igneous, sedimentary and metamorphic) of the earth's surface are exposed to denudational agents and are broken up into various sizes of fragments.

4. ✔ Sedimentary rocks are also known as primary rocks.

Question Number : 146 Question Id : 16794319736 Question Type : MCQ Option Shuffling : Yes Display Question Number : Yes
Single Line Question Option : No Option Orientation : Vertical

Correct Marks : 1 Wrong Marks : 0.25

निम्नलिखित में से कौन सा चट्टानों के बारे में सच नहीं है?

Options :

1. ✖ पृथ्वी की परत चट्टानों से बनी है, जो एक या अधिक खनिजों से मिलकर बनी है।

2. ✖ आग्नेय चट्टानें पृथ्वी के भीतर से मैग्मा और लावा से निकलती हैं।

3. ✖ पृथ्वी की सतह के चट्टानों (अग्निमय, अवसाद और रूपांतर) एजेंटों के संपर्क में आते हैं और विभिन्न टुकड़ों में टूट जाते हैं।

4. ✔ अवसादी चट्टानों को प्राथमिक चट्टानों के नाम से भी जाना जाता है।

Question Number : 147 Question Id : 16794319737 Question Type : MCQ Option Shuffling : Yes Display Question Number : Yes
Single Line Question Option : No Option Orientation : Vertical

Correct Marks : 1 Wrong Marks : 0.25

Which of the following is NOT one of the major controls of the climate of any place?

Options :

1. ✖ Pressure and wind system
2. ✖ Continentality
3. ✖ Ocean currents
4. ✔ Longitudes

Question Number : 147 Question Id : 16794319737 Question Type : MCQ Option Shuffling : Yes Display Question Number : Yes
Single Line Question Option : No Option Orientation : Vertical

Correct Marks : 1 Wrong Marks : 0.25

कौन सा अनुवर्ती किसी भी स्थान के जलवायु के प्रमुख नियंत्रणों में से एक नहीं है?

Options :

1. ✖ दबाव और हवा प्रणाली
2. ✖ महाद्वीपीयता
3. ✖ समुद्री धाराएँ
4. ✔ देशांतर

Question Number : 148 Question Id : 16794319738 Question Type : MCQ Option Shuffling : Yes Display Question Number : Yes
Single Line Question Option : No Option Orientation : Vertical

Correct Marks : 1 Wrong Marks : 0.25

Which of the following options of 'permanent gases of the atmosphere' is in the correct sequence according to their percentage by volume in atmosphere (highest to lowest)?

Options :

1. ✖ Ar, O₂, CO₂, N₂, Ne
2. ✖ N₂, CO₂, O₂, He, Ne
3. ✖ N₂, O₂, CO₂, Ar, He
4. ✔ N₂, O₂, Ar, CO₂, He

Question Number : 148 Question Id : 16794319738 Question Type : MCQ Option Shuffling : Yes Display Question Number : Yes
Single Line Question Option : No Option Orientation : Vertical

Correct Marks : 1 Wrong Marks : 0.25

'वायुमंडल के स्थायी गैसों' के निम्नलिखित विकल्पों में से कौन सा विकल्प वायुमंडल में मात्रा (उच्चतम से निम्नतम) के प्रतिशत के अनुसार सही अनुक्रम में है?

Options :

1. ✖ Ar, O₂, CO₂, N₂, Ne
2. ✖ N₂, CO₂, O₂, He, Ne
3. ✖ N₂, O₂, CO₂, Ar, He
4. ✔ N₂, O₂, Ar, CO₂, He

Question Number : 149 Question Id : 16794319739 Question Type : MCQ Option Shuffling : Yes Display Question Number : Yes
Single Line Question Option : No Option Orientation : Vertical

Correct Marks : 1 Wrong Marks : 0.25

With regard to greenhouse gases, which of the following statements is true?

1. The primary Green House Gases of concern today are carbon dioxide, chlorofluorocarbons, methane, nitrous oxide and ozone.
2. Ozone which absorbs ultra violet radiation in the stratosphere is very effective in absorbing terrestrial radiation when it is present in the upper troposphere.

Options :

1. ✔ 1 only
2. ✖ 2 only
3. ✖ 1 and 2 both
4. ✖ None of the given options

Question Number : 149 Question Id : 16794319739 Question Type : MCQ Option Shuffling : Yes Display Question Number : Yes
Single Line Question Option : No Option Orientation : Vertical

Correct Marks : 1 Wrong Marks : 0.25

ग्रीन हाउस गैसों के संबंध में निम्नलिखित में से कौन सा कथन सत्य है?

1. आज की प्राथमिक ग्रीन हाउस गैस की समस्या कार्बन डाइऑक्साइड, क्लोरोफ्लूरोकार्बन, मीथेन, नाइट्रस ऑक्साइड और ओजोन हैं।
2. ओजोन समताप मंडल में पराबैंगनी विकिरण को अवशोषित करता है, ऊपरी उष्णकटिबंधीय क्षेत्र में मौजूद होने पर स्थलीय विकिरण को अवशोषित करने में बहुत प्रभावी होता है।

Options :

1. ✔ केवल 1

2. ✖ केवल 2

3. ✖ 1 और 2 दोनों

4. ✖ दिए गए विकल्पों में से कोई नहीं।

Question Number : 150 Question Id : 16794319740 Question Type : MCQ Option Shuffling : Yes Display Question Number : Yes
Single Line Question Option : No Option Orientation : Vertical

Correct Marks : 1 Wrong Marks : 0.25

The circulation of water within the earth's hydrosphere in different form, is known as:

Options :

1. ✖ Weather cycle

2. ✖ Natural cycle

3. ✔ Hydrological cycle

4. ✖ Climate cycle

Question Number : 150 Question Id : 16794319740 Question Type : MCQ Option Shuffling : Yes Display Question Number : Yes
Single Line Question Option : No Option Orientation : Vertical

Correct Marks : 1 Wrong Marks : 0.25

पृथ्वी के जल मंडल (हाइड्रोस्फीयर) के भीतर पानी के परिसंचरण को विभिन्न रूपों को क्या कहा जाता है?

Options :

1. ✖ मौसम चक्र

2. ✖ प्राकृतिक चक्र

3. ✔ जलविद्युत चक्र

4. ✖ जलवायु चक्र

Question Number : 151 Question Id : 16794319741 Question Type : MCQ Option Shuffling : Yes Display Question Number : Yes
Single Line Question Option : No Option Orientation : Vertical

Correct Marks : 1 Wrong Marks : 0.25

Which of the following options has the highest percentage of the total water on earth's surface?

Options :

1. ✖ Steam and Rivers

2. ✖ Soil moisture

3. ✖ Lakes

4. ✔ Ice caps

Question Number : 151 Question Id : 16794319741 Question Type : MCQ Option Shuffling : Yes Display Question Number : Yes
Single Line Question Option : No Option Orientation : Vertical

Correct Marks : 1 Wrong Marks : 0.25

निम्नलिखित विकल्पों में से कौन सा विकल्प पृथ्वी की सतह पर कुल पानी का उच्चतम प्रतिशत है?

Options :

1. ✖ भाप और नदियां

2. ✖ मिट्टी की नमी

3. ✖ झील

4. ✔ बर्फ की टोपी

Question Number : 152 Question Id : 16794319742 Question Type : MCQ Option Shuffling : Yes Display Question Number : Yes
Single Line Question Option : No Option Orientation : Vertical

Correct Marks : 1 Wrong Marks : 0.25

Which of the following bodies has the highest salinity?

Options :

1. ✔ Lake Van

2. ✖ Red Sea

3. ✖ Great salt lake

4. ✖ Dead Sea

Question Number : 152 Question Id : 16794319742 Question Type : MCQ Option Shuffling : Yes Display Question Number : Yes
Single Line Question Option : No Option Orientation : Vertical

Correct Marks : 1 Wrong Marks : 0.25

निम्नलिखित में से कौन से निकाय में सबसे ज्यादा लवणता है?

Options :

1. ✔ लेक वैन

2. ✖ लाल सागर

3. ✖ महान नमक झील

4. ✖ मृत सागर

Question Number : 153 Question Id : 16794319743 Question Type : MCQ Option Shuffling : Yes Display Question Number : Yes
Single Line Question Option : No Option Orientation : Vertical

Correct Marks : 1 Wrong Marks : 0.25

Which of the given options is the highest peak of Himalaya in India?

Options :

1. ✖ Mt. Everest

2. ✔ Makalu

3. ✖ Dhaulagiri

4. ✖ Nanga Parbat

Question Number : 153 Question Id : 16794319743 Question Type : MCQ Option Shuffling : Yes Display Question Number : Yes
Single Line Question Option : No Option Orientation : Vertical

Correct Marks : 1 Wrong Marks : 0.25

निम्न में से कौनसा विकल्प हिमालय के भारत में सबसे ऊँचे शिखर का नाम है?

Options :

1. ✖ माउंट एवरेस्ट

2. ✔ मकालू

3. ✖ धौलागिरी

4. ✖ नंगा पर्वत

Question Number : 154 Question Id : 16794319744 Question Type : MCQ Option Shuffling : Yes Display Question Number : Yes
Single Line Question Option : No Option Orientation : Vertical

Correct Marks : 1 Wrong Marks : 0.25

Which one of the following options is the origin of River Beas?

Options :

1. ✔ Rohtang Pass

2. ✖ Virenag Spring

3. ✖ Rakas Lake

4. ✖ Mansarovar

Question Number : 154 Question Id : 16794319744 Question Type : MCQ Option Shuffling : Yes Display Question Number : Yes
Single Line Question Option : No Option Orientation : Vertical

Correct Marks : 1 Wrong Marks : 0.25

निम्नलिखित विकल्पों में से कौन सा विकल्प व्यास नदी का उद्गम स्थान है?

Options :

1. ✔ रोहतंग पास

2. ✖ वेरीनाग स्प्रिंग

3. ✖ राकस झील

4. ✖ मानसरोवर

Question Number : 155 Question Id : 16794319745 Question Type : MCQ Option Shuffling : Yes Display Question Number : Yes
Single Line Question Option : No Option Orientation : Vertical

Correct Marks : 1 Wrong Marks : 0.25

Chronologically arrange the soil availability according to their total reporting area (from highest to lowest).

Options :

1. ✖ Mountain Soil, Desert Soil, Red and Black Soil, Laterite Soil

2. ✖ Red and Black soil, Laterite Soil, Mountain soil, Desert soil

3. ✔ Red soil, Black soil, Mountain soil, Desert soil

4. ✖ Black Soil, Desert soil, Laterite soil, Grey and brown soil

Question Number : 155 Question Id : 16794319745 Question Type : MCQ Option Shuffling : Yes Display Question Number : Yes
Single Line Question Option : No Option Orientation : Vertical

Correct Marks : 1 Wrong Marks : 0.25

अपने कुल रिपोर्टिंग क्षेत्र (उच्चतम से निम्नतम तक) के अनुसार मिट्टी की उपलब्धता को कालानुक्रमिक रूप से व्यवस्थित करें।

Options :

1. ✖ माउंटेन मृदा, रेगिस्तान मृदा, लाल और काले मिट्टी, लेटराइट मृदा

2. ✖ लाल और काली मिट्टी, लेटराइट मृदा, माउंटेन मिट्टी, रेगिस्तान मिट्टी

3. ✓ लाल मिट्टी, काली मिट्टी, माउंटेन मिट्टी, रेगिस्तान मिट्टी

4. ✗ काली मिट्टी, रेगिस्तान मिट्टी, पार्श्व मिट्टी, ग्रे और भूरे रंग की मिट्टी

Question Number : 156 Question Id : 16794319746 Question Type : MCQ Option Shuffling : Yes Display Question Number : Yes
Single Line Question Option : No Option Orientation : Vertical

Correct Marks : 1 Wrong Marks : 0.25

From which of the following has the word 'Monsoon' been derived?

Options :

1. ✗ Latin

2. ✗ Spanish

3. ✓ Arabic

4. ✗ German

Question Number : 156 Question Id : 16794319746 Question Type : MCQ Option Shuffling : Yes Display Question Number : Yes
Single Line Question Option : No Option Orientation : Vertical

Correct Marks : 1 Wrong Marks : 0.25

निम्नलिखित में से किससे शब्द 'मानसून' लिया गया है?

Options :

1. ✗ लैटिन

2. ✗ स्पेनिश

3. ✓ अरबी

4. ✗ जर्मन

Question Number : 157 Question Id : 16794319747 Question Type : MCQ Option Shuffling : Yes Display Question Number : Yes
Single Line Question Option : No Option Orientation : Vertical

Correct Marks : 1 Wrong Marks : 0.25

With regard to the El – Nino, which of the following statements is true?

1. El – Nino means Child Christ.

2. It is a warm ocean current appearing along the Peru coast, generally in December.

3. The Indian monsoon is also influenced by El – Nino.

Options :

1. ✗ 1 and 2

2. ✖ 1 and 3
3. ✖ 2 and 3
4. ✔ All of the given options

Question Number : 157 Question Id : 16794319747 Question Type : MCQ Option Shuffling : Yes Display Question Number : Yes
Single Line Question Option : No Option Orientation : Vertical

Correct Marks : 1 Wrong Marks : 0.25

एल-निनो के संबंध में, निम्नलिखित में से कौन सा कथन सत्य है?

1. एल - निनो का मतलब चाइल्ड क्राइस्ट है।
2. यह एक उष्ण सागर है जो आम तौर पर दिसंबर के महीने में पेरू के तट पर दिखाई देता है।
3. भारतीय मॉनसून भी एल-निनो से प्रभावित है।

Options :

1. ✖ 1 और 2
2. ✖ 1 और 3
3. ✖ 2 और 3
4. ✔ दिए गए विकल्पों में से सभी।

Question Number : 158 Question Id : 16794319748 Question Type : MCQ Option Shuffling : Yes Display Question Number : Yes
Single Line Question Option : No Option Orientation : Vertical

Correct Marks : 1 Wrong Marks : 0.25

Which of the given options is NOT an immediate objective of the National Population Policy, announced on 15th Feb, 2000?

Options :

1. ✖ Contraception
2. ✖ Healthcare infrastructure
3. ✖ Child health care
4. ✔ Hospitalization

Question Number : 158 Question Id : 16794319748 Question Type : MCQ Option Shuffling : Yes Display Question Number : Yes
Single Line Question Option : No Option Orientation : Vertical

Correct Marks : 1 Wrong Marks : 0.25

दिए गए विकल्पों में से कौन सा 15 फरवरी 2000 को घोषित राष्ट्रीय जनसंख्या नीति का तत्काल उद्देश्य नहीं है?

Options :

1. ✖ गर्भ निरोध
2. ✖ स्वास्थ्य देखभाल बुनियादी ढांचा
3. ✖ बाल स्वास्थ्य देखभाल
4. ✔ अस्पताल में भर्ती

Question Number : 159 Question Id : 16794319749 Question Type : MCQ Option Shuffling : Yes Display Question Number : Yes
Single Line Question Option : No Option Orientation : Vertical

Correct Marks : 1 Wrong Marks : 0.25

Which of the following is not the mineral belt of India?

Options :

1. ✖ Chotanagpur
2. ✖ Southern Region
3. ✖ Indian Ocean
4. ✔ Eastern Region

Question Number : 159 Question Id : 16794319749 Question Type : MCQ Option Shuffling : Yes Display Question Number : Yes
Single Line Question Option : No Option Orientation : Vertical

Correct Marks : 1 Wrong Marks : 0.25

निम्नलिखित में से कौन सा विकल्प भारत का खनिज क्षेत्र नहीं है?

Options :

1. ✖ छोटा नागपुर
2. ✖ दक्षिण
3. ✖ हिंद महासागर
4. ✔ पूर्वी भाग

Question Number : 160 Question Id : 16794319750 Question Type : MCQ Option Shuffling : Yes Display Question Number : Yes
Single Line Question Option : No Option Orientation : Vertical

Correct Marks : 1 Wrong Marks : 0.25

Which of the following states had the highest percentage production of Iron ore in 2015-16?

Options :

1. ✖ Jharkhand
2. ✖ Goa
3. ✔ Karnataka
4. ✖ Chhattisgarh

Question Number : 160 Question Id : 16794319750 Question Type : MCQ Option Shuffling : Yes Display Question Number : Yes
Single Line Question Option : No Option Orientation : Vertical

Correct Marks : 1 Wrong Marks : 0.25

2015-16 में निम्नलिखित में से किन राज्यों में लौह अयस्क का उच्चतम प्रतिशत उत्पादन था?

Options :

1. ✖ झारखंड
2. ✖ गोवा
3. ✔ कर्नाटक
4. ✖ छत्तीसगढ़

Subject Related

Group Number :	9
Group Id :	167943752
Group Maximum Duration :	0
Group Minimum Duration :	0
Revisit allowed for view? :	No
Revisit allowed for edit? :	No
Break time:	0
Group Marks:	20
Revisit allowed for group Instructions? :	Yes
Maximum Instruction Time:	0
Minimum Instruction Time:	0

Subject Related

Section Id :	167943817
Section Number :	1
Section type :	Online
Mandatory or Optional:	Mandatory
Number of Questions:	20

Number of Questions to be attempted:	20
Section Marks:	20
Display Number Panel:	Yes
Group All Questions:	No

Sub-Section Number:	1
Sub-Section Id:	1679431258
Question Shuffling Allowed :	Yes

Question Number : 161 Question Id : 16794319751 Question Type : MCQ Option Shuffling : Yes Display Question Number : Yes
Single Line Question Option : No Option Orientation : Vertical

Correct Marks : 1 Wrong Marks : 0.25

With regard to the commission for Agricultural Costs and Prices (CACP), which of the given statements is FALSE?

1. CACP was established with a view to evolve a balanced and integrated price structure and is mandated to advice on the price policy (MSP) of 23 crops.
2. CACP submits its recommendation in the form of Price policy reports every year.

Options :

1. ✖ Only 1
2. ✖ Only 2
3. ✖ 1 and 2 both
4. ✔ None of the given options

Question Number : 161 Question Id : 16794319751 Question Type : MCQ Option Shuffling : Yes Display Question Number : Yes
Single Line Question Option : No Option Orientation : Vertical

Correct Marks : 1 Wrong Marks : 0.25

कृषि लागत और मूल्य आयोग (CACP) के आयोग के संबंध में, दिए गए बयान में से कौन सा गलत है?

1. एक संतुलित और एकीकृत मूल्य संरचना विकसित करने के लिए सी.ए.सी.पी की स्थापना की गई थी और 23 फसलों की मूल्य नीति (न्यूनतम समर्थन मूल्य) पर सलाह देने के लिए अनिवार्य है।
2. सी.ए.सी.पी. हर साल मूल्य नीति रिपोर्ट के रूप में अपनी सिफारिश प्रस्तुत करता है।

Options :

1. ✖ केवल 1
2. ✖ केवल 2
3. ✖ 1 और 2 दोनों
4. ✔ दिए गए विकल्पों में से कोई नहीं।

Question Number : 162 Question Id : 16794319752 Question Type : MCQ Option Shuffling : Yes Display Question Number : Yes
Single Line Question Option : No Option Orientation : Vertical

Correct Marks : 1 Wrong Marks : 0.25

Hindustan Fluorocarbons Ltd (HFL) is subsidiary company of _____.

Options :

1. ✖ Hindustan Oil Ltd
2. ✖ Hindustan Petro-chemicals Ltd
3. ✖ Hindustan Insecticides Ltd
4. ✔ Hindustan Organic Chemicals Ltd

Question Number : 162 Question Id : 16794319752 Question Type : MCQ Option Shuffling : Yes Display Question Number : Yes
Single Line Question Option : No Option Orientation : Vertical

Correct Marks : 1 Wrong Marks : 0.25

हिंदुस्तान फ्लोरोकार्बन लिमिटेड (HFL) _____ की सहायक कंपनी है।

Options :

1. ✖ हिंदुस्तान ऑयल लिमिटेड
2. ✖ हिंदुस्तान पेट्रो-केमिकल्स लिमिटेड
3. ✖ हिंदुस्तान कीटनाशकों लिमिटेड
4. ✔ हिंदुस्तान ऑर्गेनिक केमिकल्स लिमिटेड

Question Number : 163 Question Id : 16794319753 Question Type : MCQ Option Shuffling : Yes Display Question Number : Yes
Single Line Question Option : No Option Orientation : Vertical

Correct Marks : 1 Wrong Marks : 0.25

New Mangalore Port was declared as the _____ Port.

Options :

1. ✖ 8th
2. ✔ 9th
3. ✖ 10th
4. ✖ 11th

Question Number : 163 Question Id : 16794319753 Question Type : MCQ Option Shuffling : Yes Display Question Number : Yes
Single Line Question Option : No Option Orientation : Vertical

Correct Marks : 1 Wrong Marks : 0.25

न्यू मंगलोर पोर्ट को _____ पोर्ट के रूप में घोषित किया गया था।

Options :

1. ✖ 8वां
2. ✔ 9वां
3. ✖ 10वां
4. ✖ 11वां

Question Number : 164 Question Id : 16794319754 Question Type : MCQ Option Shuffling : Yes Display Question Number : Yes
Single Line Question Option : No Option Orientation : Vertical

Correct Marks : 1 Wrong Marks : 0.25

Which of the following statements is correct about Tsunami?

1. The term Tsunami comes from Korean word "tsu" meaning Harbour and "nami" meaning wave.
2. Tsunami has much smaller amplitude (wave length) offshore and a very strong wavelength at sea.

Options :

1. ✖ 1 only
2. ✔ 2 only
3. ✖ 1 and 2 both
4. ✖ None of the given options

Question Number : 164 Question Id : 16794319754 Question Type : MCQ Option Shuffling : Yes Display Question Number : Yes
Single Line Question Option : No Option Orientation : Vertical

Correct Marks : 1 Wrong Marks : 0.25

सुनामी के बारे में निम्नलिखित में से कौन सा कथन सही है?

1. सुनामी शब्द की उत्पत्ति कोरियाई शब्द "tsu" और 'nami' से हुई है जिसका अर्थ है क्रमशः 'हार्बर' और 'लहर'।
2. सुनामी का आयाम समुद्र में तट से दूर बहुत छोटा होता है जब की समुद्र में आयाम बहुत शक्तिशाली होता है।

Options :

1. ✖ केवल 1
2. ✔ केवल 2

3. ✖ 1 और 2 दोनों

4. ✖ दिए गए विकल्पों में से कोई नहीं।

Question Number : 165 Question Id : 16794319755 Question Type : MCQ Option Shuffling : Yes Display Question Number : Yes
Single Line Question Option : No Option Orientation : Vertical

Correct Marks : 1 Wrong Marks : 0.25

The New Health Policy was/has been launched in which of the following years?

Options :

1. ✖ 2015

2. ✖ 2016

3. ✔ 2017

4. ✖ 2018

Question Number : 165 Question Id : 16794319755 Question Type : MCQ Option Shuffling : Yes Display Question Number : Yes
Single Line Question Option : No Option Orientation : Vertical

Correct Marks : 1 Wrong Marks : 0.25

किस वर्ष में नई स्वास्थ्य नीति शुरू की गई है?

Options :

1. ✖ 2015

2. ✖ 2016

3. ✔ 2017

4. ✖ 2018

Question Number : 166 Question Id : 16794319756 Question Type : MCQ Option Shuffling : Yes Display Question Number : Yes
Single Line Question Option : No Option Orientation : Vertical

Correct Marks : 1 Wrong Marks : 0.25

Self-Employment and Talent Utilization (SETU) has established under which of the following?

Options :

1. ✖ Ministry of Labour and Employment

2. ✖ Ministry of Commerce and Industry

3. ✖ Ministry of micro, small and medium enterprises

4. ✓ Niti Aayog

Question Number : 166 Question Id : 16794319756 Question Type : MCQ Option Shuffling : Yes Display Question Number : Yes
Single Line Question Option : No Option Orientation : Vertical

Correct Marks : 1 Wrong Marks : 0.25

निम्नलिखित विकल्पों में से किसके तहत स्व रोजगार और प्रतिभा उपयोग (Self-Employment and Talent Utilization /SETU) स्थापित किया गया है?

Options :

1. ✗ श्रम और रोजगार मंत्रालय
2. ✗ वाणिज्य और उद्योग मंत्रालय
3. ✗ सूक्ष्म, लघु और मध्यम उद्यम मंत्रालय
4. ✓ नीति आयोग

Question Number : 167 Question Id : 16794319757 Question Type : MCQ Option Shuffling : Yes Display Question Number : Yes
Single Line Question Option : No Option Orientation : Vertical

Correct Marks : 1 Wrong Marks : 0.25

In the recently released Global Hunger Index report, out 119 countries, India's rank is:

Options :

1. ✗ 97th
2. ✓ 100th
3. ✗ 84th
4. ✗ 98th

Question Number : 167 Question Id : 16794319757 Question Type : MCQ Option Shuffling : Yes Display Question Number : Yes
Single Line Question Option : No Option Orientation : Vertical

Correct Marks : 1 Wrong Marks : 0.25

हाल ही में ग्लोबल हंगर इंडेक्स रिपोर्ट में, 119 देशों में, भारत का स्थान कितना है?

Options :

1. ✗ 97वां
2. ✓ 100वां

3. ✖ 84वां

4. ✖ 98वां

Question Number : 168 Question Id : 16794319758 Question Type : MCQ Option Shuffling : Yes Display Question Number : Yes
Single Line Question Option : No Option Orientation : Vertical

Correct Marks : 1 Wrong Marks : 0.25

Which of the following statements is correct about 'Merchandise Export from India Scheme'?

1. It was introduced in 1st April, 2015.
2. It is a major export scheme that seeks to promote export of notified goods manufactured/produced in India.
3. Due to high consumption, agricultural products are not covered under the scheme.

Options :

1. ✖ 1 only

2. ✔ 1 and 2 only

3. ✖ 2 and 3 only

4. ✖ All of the given options

Question Number : 168 Question Id : 16794319758 Question Type : MCQ Option Shuffling : Yes Display Question Number : Yes
Single Line Question Option : No Option Orientation : Vertical

Correct Marks : 1 Wrong Marks : 0.25

'भारत योजना से व्यापार निर्यात' के बारे में निम्नलिखित में से कौन सा कथन सही है?

1. इसकी शुरुआत 1 अप्रैल, 2015 को की गई थी।
2. यह एक प्रमुख निर्यात योजना है जो भारत में निर्मित/ उत्पादित अधिसूचित वस्तुओं के निर्यात को बढ़ावा देने की मांग करती है।
3. उच्च खपत के कारण, कृषि उत्पादों को इस योजना के तहत शामिल नहीं किया गया है।

Options :

1. ✖ केवल 1

2. ✔ केवल 1 और 2

3. ✖ केवल 2 और 3

4. ✖ दिए गए विकल्पों में से सभी।

Question Number : 169 Question Id : 16794319759 Question Type : MCQ Option Shuffling : Yes Display Question Number : Yes
Single Line Question Option : No Option Orientation : Vertical

Correct Marks : 1 Wrong Marks : 0.25

Which of the following options is INCORRECT?

Options :

1. ✖ Bank Rate at which RBI lends to commercial banks.
2. ✖
Statutory Liquidity Ratio (SLR) is the ratio of total deposits of a bank which it has to maintain with itself in a liquid form at any given point of time.
3. ✖
Reverse Repo at which RBI sells government securities to banks in order to absorb excess liquid from market.
4. ✔ Fixed Rate is a rate of interest that varies for the entire term of the loan or deposit.

Question Number : 169 Question Id : 16794319759 Question Type : MCQ Option Shuffling : Yes Display Question Number : Yes
Single Line Question Option : No Option Orientation : Vertical

Correct Marks : 1 Wrong Marks : 0.25

निम्नलिखित में से कौन सा विकल्प गलत है?

Options :

1. ✖ बैंक दर जिस पर आर.बी.आई. वाणिज्यिक बैंकों को उधार देता है।
2. ✖
वैधानिक तरलता अनुपात (SLR) बैंक के कुल जमा का अनुपात है। जिसे किसी भी समय किसी भी तरल रूप में इसे अपने पास रखना है।
3. ✖
रिवर्स रेपो जिस पर आरबीआई बाजार से अतिरिक्त तरल अवशोषित करने के लिए बैंकों को सरकारी प्रतिभूतियों को बेचता है।
4. ✔ निश्चित दर ब्याज दर है, जो ऋण या सावधि जमा के लिए भिन्न-भिन्न होती है।

Question Number : 170 Question Id : 16794319760 Question Type : MCQ Option Shuffling : Yes Display Question Number : Yes
Single Line Question Option : No Option Orientation : Vertical

Correct Marks : 1 Wrong Marks : 0.25

Self Help Groups:

Options :

1. ✖ provide financial support to poors
2. ✖ provide funds to start small scale industries
3. ✔ promote small savings among its members
4. ✖ encourage members to open bank accounts

Question Number : 170 Question Id : 16794319760 Question Type : MCQ Option Shuffling : Yes Display Question Number : Yes
Single Line Question Option : No Option Orientation : Vertical

Correct Marks : 1 Wrong Marks : 0.25

स्व-सहायता समूह बढ़ावा देता है:

Options :

1. ✖ गरीबों को वित्तीय सहायता प्रदान करता है।
2. ✖ लघु उद्योग शुरू करने के लिए धन उपलब्ध कराता है।
3. ✔ अपने सदस्यों के बीच छोटी बचत को बढ़ावा देता है।
4. ✖ बैंक खातों को खोलने के लिए अपने सदस्यों को बढ़ावा देता है।

Question Number : 171 Question Id : 16794319761 Question Type : MCQ Option Shuffling : Yes Display Question Number : Yes
Single Line Question Option : No Option Orientation : Vertical

Correct Marks : 1 Wrong Marks : 0.25

Who addresses the Houses together at the commencement of the first session of each year?

Options :

1. ✖ The Speaker
2. ✔ The President
3. ✖ The Prime Minister
4. ✖ The Pro tem Speaker

Question Number : 171 Question Id : 16794319761 Question Type : MCQ Option Shuffling : Yes Display Question Number : Yes
Single Line Question Option : No Option Orientation : Vertical

Correct Marks : 1 Wrong Marks : 0.25

प्रत्येक वर्ष के पहले अधिवेशन के शुरू होने पर दोनों सदनों को एक साथ कौन संबोधित करता है?

Options :

1. ✖ वक्ता
2. ✔ राष्ट्रपति
3. ✖ प्रधान मंत्री
4. ✖ प्रोटेम स्पीकर (अस्थाई अध्यक्ष)

Question Number : 172 Question Id : 16794319762 Question Type : MCQ Option Shuffling : Yes Display Question Number : Yes
Single Line Question Option : No Option Orientation : Vertical

Correct Marks : 1 Wrong Marks : 0.25

The President of India is elected by an electoral college consisting of:

Options :

1. ✖ all the members of Lok Sabha and Rajya Sabha
2. ✖ elected members of Lok Sabha and Rajya Sabha
3. ✔ elected members of Lok Sabha, Rajya Sabha and the state legislature
4. ✖ the members of Lok Sabha, Rajya Sabha, members of legislatures and council

Question Number : 172 Question Id : 16794319762 Question Type : MCQ Option Shuffling : Yes Display Question Number : Yes
Single Line Question Option : No Option Orientation : Vertical

Correct Marks : 1 Wrong Marks : 0.25

भारत के राष्ट्रपति को एक चुनावी पद्धति द्वारा निर्वाचित किया जाता है जिसमें शामिल होते हैं:

Options :

1. ✖ लोकसभा और राज्य सभा के सभी सदस्य
2. ✖ लोकसभा और राज्य सभा के निर्वाचित सदस्य
3. ✔ लोकसभा, राज्य सभा और राज्य विधायिका के निर्वाचित सदस्य
4. ✖ लोकसभा, राज्य सभा, विधायिकाओं और परिषद के सदस्य

Question Number : 173 Question Id : 16794319763 Question Type : MCQ Option Shuffling : Yes Display Question Number : Yes
Single Line Question Option : No Option Orientation : Vertical

Correct Marks : 1 Wrong Marks : 0.25

The 44th amendment deals with which of the following options?

Options :

1. ✔ Abolition of right to property as fundamental right
2. ✖ Curbing the fundamental rights
3. ✖ Curbing the jurisdiction of high courts
4. ✖ Extension on reservation of seats in Parliament

Question Number : 173 Question Id : 16794319763 Question Type : MCQ Option Shuffling : Yes Display Question Number : Yes
Single Line Question Option : No Option Orientation : Vertical
Correct Marks : 1 Wrong Marks : 0.25

निम्नलिखित विकल्पों में से 44वें संशोधन किससे संबंधित है?

Options :

1. ☒ मौलिक अधिकार के रूप में संपत्ति के अधिकार का उन्मूलन
2. ☐ मौलिक अधिकारों को रोकना
3. ☐ उच्च न्यायालयों के अधिकार क्षेत्र को रोकना
4. ☐ संसद में सीटों के आरक्षण पर विस्तार

Question Number : 174 Question Id : 16794319764 Question Type : MCQ Option Shuffling : Yes Display Question Number : Yes
Single Line Question Option : No Option Orientation : Vertical
Correct Marks : 1 Wrong Marks : 0.25

Which of the following statements regarding Judiciary in India are correct?

1. Article 122 provided the establishment of the Supreme Court with a chief justice and seven other judges.
2. In case of appointment of a judge other than chief justice, the chief justice shall be consulted.
3. Every judge of Supreme Court holds office until the age of 65 years.
4. The Supreme Court of India is free from the control and influence of legislature and executive.

Options :

1. ☐ 1 and 2
2. ☐ 1 and 3
3. ☐ 1 and 4
4. ☒ 2, 3 and 4

Question Number : 174 Question Id : 16794319764 Question Type : MCQ Option Shuffling : Yes Display Question Number : Yes
Single Line Question Option : No Option Orientation : Vertical
Correct Marks : 1 Wrong Marks : 0.25

भारत में न्यायपालिका के संबंध में निम्नलिखित में से कौन सा कथन सही है?

1. अनुच्छेद 122 के तहत मुख्य न्यायाधीश और सात अन्य न्यायाधीशों के साथ सुप्रीम कोर्ट की स्थापना की।
2. मुख्य न्यायाधीश के अलावा किसी अन्य न्यायाधीश की नियुक्ति के मामले में, मुख्य न्यायाधीश से परामर्श किया जाएगा।
3. उच्चतम न्यायालय के हर न्यायाधीश 65 साल की उम्र तक कार्यालय रखता है।
4. भारत की सर्वोच्च न्यायालय विधायिका और कार्यकारी के नियंत्रण और प्रभाव से मुक्त है।

Options :

1. ✖ 1 और 2

2. ✖ 1 और 3

3. ✖ 1 और 4

4. ✔ 2, 3 और 4

Question Number : 175 Question Id : 16794319765 Question Type : MCQ Option Shuffling : Yes Display Question Number : Yes
Single Line Question Option : No Option Orientation : Vertical

Correct Marks : 1 Wrong Marks : 0.25

The first Constitution of India framed and given to themselves by the people of India was adopted by the Constituent Assembly on _____.

Options :

1. ✖ 26th January, 1950

2. ✖ 15th August, 1947

3. ✔ 26th November, 1949

4. ✖ 26th January, 1949

Question Number : 175 Question Id : 16794319765 Question Type : MCQ Option Shuffling : Yes Display Question Number : Yes
Single Line Question Option : No Option Orientation : Vertical

Correct Marks : 1 Wrong Marks : 0.25

भारत के लोगों द्वारा तैयार और दिया गया का पहला ड्राफ्ट संविधान सभा द्वारा _____ को अपनाया गया था।

Options :

1. ✖ 26 जनवरी, 1950

2. ✖ 15 अगस्त, 1947

3. ✔ 26 नवंबर, 1949

4. ✖ 26 जनवरी, 1949

Question Number : 176 Question Id : 16794319766 Question Type : MCQ Option Shuffling : Yes Display Question Number : Yes
Single Line Question Option : No Option Orientation : Vertical

Correct Marks : 1 Wrong Marks : 0.25

The judge of a High Court in a state is appointed by the President in consultation with:

Options :

1. ✖ the Chief Justice of India
2. ✔ the Chief Justice of India and the Governor of the state
3. ✖ the Chief Justice of India and the Governor and the former Chief Justice of the High Court.
4. ✖ the Governor of the state only

Question Number : 176 Question Id : 16794319766 Question Type : MCQ Option Shuffling : Yes Display Question Number : Yes
Single Line Question Option : No Option Orientation : Vertical

Correct Marks : 1 Wrong Marks : 0.25

किसी राज्य में उच्च न्यायालय के न्यायाधीश को राष्ट्रपति द्वारा किसके परामर्श से नियुक्त किया जाता है?

Options :

1. ✖ भारत का मुख्य न्यायाधीश
2. ✔ भारत के मुख्य न्यायाधीश और राज्य के राज्यपाल
3. ✖ भारत के मुख्य न्यायाधीश और राज्यपाल और उच्च न्यायालय के पूर्व मुख्य न्यायाधीश
4. ✖ केवल राज्य के राज्यपाल

Question Number : 177 Question Id : 16794319767 Question Type : MCQ Option Shuffling : Yes Display Question Number : Yes
Single Line Question Option : No Option Orientation : Vertical

Correct Marks : 1 Wrong Marks : 0.25

Representation to states in the Rajya Sabha is given:

Options :

1. ✖ as an equal number of seats to each state
2. ✔ in proportion to their population
3. ✖ in proportion to their size
4. ✖ in accordance to their resource

Question Number : 177 Question Id : 16794319767 Question Type : MCQ Option Shuffling : Yes Display Question Number : Yes
Single Line Question Option : No Option Orientation : Vertical

Correct Marks : 1 Wrong Marks : 0.25

राज्यसभा में राज्यों के प्रतिनिधित्व किस आधार पर दिया जाता है?

Options :

1. ✖ प्रत्येक राज्य के लिए समान संख्या में सीटें
2. ✔ उनकी आबादी के अनुपात में
3. ✖ उनके आकार के अनुपात में
4. ✖ उनके संसाधन के अनुसार

Question Number : 178 Question Id : 16794319768 Question Type : MCQ Option Shuffling : Yes Display Question Number : Yes
Single Line Question Option : No Option Orientation : Vertical

Correct Marks : 1 Wrong Marks : 0.25

In India, the gap between one session of Parliament and the next CANNOT be more than:

Options :

1. ✖ three months
2. ✔ six months
3. ✖ nine months
4. ✖ twelve months

Question Number : 178 Question Id : 16794319768 Question Type : MCQ Option Shuffling : Yes Display Question Number : Yes
Single Line Question Option : No Option Orientation : Vertical

Correct Marks : 1 Wrong Marks : 0.25

भारत में संसद के एक सत्र और अगले के बीच का अंतर कितने से अधिक नहीं हो सकता है?

Options :

1. ✖ तीन महीने
2. ✔ छह महीने
3. ✖ नौ महीने
4. ✖ बारह महीने

Question Number : 179 Question Id : 16794319769 Question Type : MCQ Option Shuffling : Yes Display Question Number : Yes
Single Line Question Option : No Option Orientation : Vertical

Correct Marks : 1 Wrong Marks : 0.25

The original Constitution contained how many articles?

Options :

1. ✖ 350

2. ✔ 395

3. ✖ 380

4. ✖ 390

Question Number : 179 Question Id : 16794319769 Question Type : MCQ Option Shuffling : Yes Display Question Number : Yes
Single Line Question Option : No Option Orientation : Vertical
Correct Marks : 1 Wrong Marks : 0.25

मूल संविधान में कितने अनुच्छेद शामिल थे?

Options :

1. ✖ 350

2. ✔ 395

3. ✖ 380

4. ✖ 390

Question Number : 180 Question Id : 16794319770 Question Type : MCQ Option Shuffling : Yes Display Question Number : Yes
Single Line Question Option : No Option Orientation : Vertical
Correct Marks : 1 Wrong Marks : 0.25

The term 'Parliamentary' refers specifically to a kind of democratic polity wherein the supreme power vests in the:

Options :

1. ✖ President

2. ✔ Parliament

3. ✖ Rajya Sabha

4. ✖ Union

Question Number : 180 Question Id : 16794319770 Question Type : MCQ Option Shuffling : Yes Display Question Number : Yes
Single Line Question Option : No Option Orientation : Vertical
Correct Marks : 1 Wrong Marks : 0.25

'संसदीय' शब्द विशेष रूप से एक तरह की लोकतांत्रिक राजनीति को संदर्भित करता है जिसमें सर्वोच्च अधिकार निम्नानुसार है:

Options :

1. ✖ राष्ट्रपति

2. ✓ संसद

3. ✗ राज्यसभा

4. ✗ संघ

Subject Related

Group Number :	10
Group Id :	167943753
Group Maximum Duration :	0
Group Minimum Duration :	120
Revisit allowed for view? :	No
Revisit allowed for edit? :	No
Break time:	0
Group Marks:	20
Revisit allowed for group Instructions? :	Yes
Maximum Instruction Time:	0
Minimum Instruction Time:	0

Subject Related

Section Id :	167943818
Section Number :	1
Section type :	Online
Mandatory or Optional:	Mandatory
Number of Questions:	20
Number of Questions to be attempted:	20
Section Marks:	20
Display Number Panel:	Yes
Group All Questions:	No

Sub-Section Number:	1
Sub-Section Id:	1679431259
Question Shuffling Allowed :	Yes

Question Number : 181 Question Id : 16794319771 Question Type : MCQ Option Shuffling : Yes Display Question Number : Yes
Single Line Question Option : No Option Orientation : Vertical
Correct Marks : 1 Wrong Marks : 0.25

In which of the following Articles is it mentioned that “there shall be a High Court in each State”?

Options :

1. ✓ 214

2. ✗ 217

3. ✖ 218

4. ✖ 227

Question Number : 181 Question Id : 16794319771 Question Type : MCQ Option Shuffling : Yes Display Question Number : Yes
Single Line Question Option : No Option Orientation : Vertical

Correct Marks : 1 Wrong Marks : 0.25

निम्नलिखित में से किस अनुच्छेद में, यह उल्लेख किया गया है कि, "प्रत्येक राज्य में उच्च न्यायालय होगा"?

Options :

1. ✔ 214

2. ✖ 217

3. ✖ 218

4. ✖ 227

Question Number : 182 Question Id : 16794319772 Question Type : MCQ Option Shuffling : Yes Display Question Number : Yes
Single Line Question Option : No Option Orientation : Vertical

Correct Marks : 1 Wrong Marks : 0.25

The Constitution as originally adopted had how many Parts and Schedules?

Options :

1. ✖ 18 parts and 10 schedules

2. ✔ 22 parts and 8 schedules

3. ✖ 10 parts and 22 schedules

4. ✖ 12 parts and 20 schedules

Question Number : 182 Question Id : 16794319772 Question Type : MCQ Option Shuffling : Yes Display Question Number : Yes
Single Line Question Option : No Option Orientation : Vertical

Correct Marks : 1 Wrong Marks : 0.25

संविधान ने मूल रूप से कितने हिस्सों और अनुसूची को अपनाया था?

Options :

1. ✖ 18 भागों और 10 अनुसूची

2. ✔ 22 भागों और 8 अनुसूची

3. ✖ 10 भागों और 22 अनुसूची

4. ✖ 12 भागों और 20 अनुसूची

Question Number : 183 Question Id : 16794319773 Question Type : MCQ Option Shuffling : Yes Display Question Number : Yes
Single Line Question Option : No Option Orientation : Vertical

Correct Marks : 1 Wrong Marks : 0.25

After the death of DP Khaitan, who became the member of the Drafting Committee?

Options :

1. ✖ Madhav Rao

2. ✔ TT Krishnamachari

3. ✖ Annie Besant

4. ✖ Dada Bhai Naoroji

Question Number : 183 Question Id : 16794319773 Question Type : MCQ Option Shuffling : Yes Display Question Number : Yes
Single Line Question Option : No Option Orientation : Vertical

Correct Marks : 1 Wrong Marks : 0.25

डी.पी. खेतान की मृत्यु के बाद कौन ड्राफ्टिंग समीति के सदस्य बने थे?

Options :

1. ✖ माधव राव

2. ✔ टी.टी. कृष्णमचारी

3. ✖ एनी बेसेंट

4. ✖ दादा भाई नौरोजी

Question Number : 184 Question Id : 16794319774 Question Type : MCQ Option Shuffling : Yes Display Question Number : Yes
Single Line Question Option : No Option Orientation : Vertical

Correct Marks : 1 Wrong Marks : 0.25

Which of the following is INCORRECT about the Constituent Assembly?

Options :

1. ✖ The first Constituent Assembly meeting was held on 9th December, 1946.

2. ✖ Dr. Sachhidanand Sinha was the oldest member of the Constituent Assembly

3. ✓

On 9th December, 1946, Dr. Rajendra Prasad was elected as the president of the Constituent Assembly

4. ✗ 24th January, 1950 was the last day of the Constituent Assembly

Question Number : 184 Question Id : 16794319774 Question Type : MCQ Option Shuffling : Yes Display Question Number : Yes
Single Line Question Option : No Option Orientation : Vertical

Correct Marks : 1 Wrong Marks : 0.25

संविधान सभा के बारे में निम्नलिखित में कौन सा कथन गलत है?

Options :

1. ✗ पहले संविधान सभा की बैठक पर 9 दिसंबर, 1946 को हुई।

2. ✗ डॉ. सच्चिदानंद सिन्हा संविधान सभा के सबसे पुराने सदस्य थे।

3. ✓ 9 दिसंबर, 1946 को डॉ.राजेंद्र प्रसाद संविधान सभा के अध्यक्ष निर्वाचित किए गए थे।

4. ✗ 24 जनवरी, 1950 संविधान सभा का अंतिम दिन था।

Question Number : 185 Question Id : 16794319775 Question Type : MCQ Option Shuffling : Yes Display Question Number : Yes
Single Line Question Option : No Option Orientation : Vertical

Correct Marks : 1 Wrong Marks : 0.25

Which of the followings is NOT a feature of the federal system?

Options :

1. ✗ Dual Government

2. ✗ Distribution of Powers

3. ✓ Supremacy of Parliament

4. ✗ Authority of courts

Question Number : 185 Question Id : 16794319775 Question Type : MCQ Option Shuffling : Yes Display Question Number : Yes
Single Line Question Option : No Option Orientation : Vertical

Correct Marks : 1 Wrong Marks : 0.25

निम्नलिखित में कौन सा संघीय प्रणाली की विशेषताएं नहीं है?

Options :

1. ✗ दोहरी सरकार

2. ✖ शक्तियों का वितरण

3. ✔ संसद की सर्वोच्चता

4. ✖ अथॉरिटी ऑफ कोर्ट (अदालतों की प्राधिकरण)

Question Number : 186 Question Id : 16794319776 Question Type : MCQ Option Shuffling : Yes Display Question Number : Yes
Single Line Question Option : No Option Orientation : Vertical

Correct Marks : 1 Wrong Marks : 0.25

In the Indian federal system, exercise of which of the following powers is limited by the fundamental rights?

Options :

1. ✖ Executive

2. ✔ Legislative

3. ✖ Financial

4. ✖ Administrative

Question Number : 186 Question Id : 16794319776 Question Type : MCQ Option Shuffling : Yes Display Question Number : Yes
Single Line Question Option : No Option Orientation : Vertical

Correct Marks : 1 Wrong Marks : 0.25

भारतीय संघीय प्रणाली में निम्नलिखित में से कौन सी शक्तियां मौलिक अधिकारों से सीमित हैं?

Options :

1. ✖ कार्यकारी अधिकारी

2. ✔ विधायी

3. ✖ वित्तीय

4. ✖ प्रशासनिक

Question Number : 187 Question Id : 16794319777 Question Type : MCQ Option Shuffling : Yes Display Question Number : Yes
Single Line Question Option : No Option Orientation : Vertical

Correct Marks : 1 Wrong Marks : 0.25

Which of the following articles of the Constitution provides the election commission as an Independent body?

Options :

1. ✖ Article 323

2. ✔ Article 324

3. ✖ Article 329

4. ✖ Article 329 (b)

Question Number : 187 Question Id : 16794319777 Question Type : MCQ Option Shuffling : Yes Display Question Number : Yes
Single Line Question Option : No Option Orientation : Vertical

Correct Marks : 1 Wrong Marks : 0.25

संविधान के निम्नलिखित अनुच्छेद में से कौन सा चुनाव आयोग को एक स्वतंत्र निकाय का दर्जा प्रदान करता है?

Options :

1. ✖ अनुच्छेद 323

2. ✔ अनुच्छेद 324

3. ✖ अनुच्छेद 329

4. ✖ अनुच्छेद 329 (b)

Question Number : 188 Question Id : 16794319778 Question Type : MCQ Option Shuffling : Yes Display Question Number : Yes
Single Line Question Option : No Option Orientation : Vertical

Correct Marks : 1 Wrong Marks : 0.25

Which of the following statements is correct about the Election Commission?

1. In the beginning, the Election Commission consisted of the Chief Election Commissioner and four election commissioners.
2. The Election Commission shall have the power of superintendence, direction and conduct of all elections to Parliament and the state legislatures and of elections to the offices of the President and Vice-President.
3. Regional Commissioners may also be appointed by the President, in consultation with the Election Commission for assisting the election commission in general election or state legislature.

Options :

1. ✖ 1 only

2. ✖ 2 only

3. ✖ 1 and 2 both

4. ✔ 2 and 3 both

Question Number : 188 Question Id : 16794319778 Question Type : MCQ Option Shuffling : Yes Display Question Number : Yes
Single Line Question Option : No Option Orientation : Vertical

Correct Marks : 1 Wrong Marks : 0.25

चुनाव आयोग के बारे में निम्नलिखित में से कौन सा कथन सही है?

1. शुरुआत में, चुनाव आयोग में मुख्य निर्वाचन आयुक्त और 4 चुनाव आयुक्त थे।
2. चुनाव आयोग अधीक्षण, निर्देशन और संसद और राज्य विधायिकाओं के लिए और राष्ट्रपति और उपराष्ट्रपति के कार्यालयों के लिए चुनाव के सभी चुनाव के संचालन का अधिकार होगा।
3. आम चुनाव या राज्य विधायिका में चुनाव आयोग की सहायता के लिए चुनाव आयोग के परामर्श से राष्ट्रपति द्वारा क्षेत्रीय आयुक्तों को भी नियुक्त किया जा सकता है।

Options :

1. ✖ केवल 1
2. ✖ केवल 2
3. ✖ 1 और 2 दोनों
4. ✔ 2 और 3 दोनों

Question Number : 189 Question Id : 16794319779 Question Type : MCQ Option Shuffling : Yes Display Question Number : Yes
Single Line Question Option : No Option Orientation : Vertical

Correct Marks : 1 Wrong Marks : 0.25

With regard to political parties and groups, which of the following statements is correct?

1. In Lok Sabha, those with a minimum strength enough to keep the quorum, i.e. $1/10^{\text{th}}$ of the total membership, are recognised as Parliamentary Parties.
2. In Rajya Sabha, those with a minimum of 30 members are recognised as Parliamentary Groups.

Options :

1. ✔ 1 only
2. ✖ 2 only
3. ✖ 1 and 2 both
4. ✖ None of the given options

Question Number : 189 Question Id : 16794319779 Question Type : MCQ Option Shuffling : Yes Display Question Number : Yes
Single Line Question Option : No Option Orientation : Vertical

Correct Marks : 1 Wrong Marks : 0.25

राजनीतिक दलों और समूहों के संबंध में, निम्नलिखित में से कौन सा कथन सही है?

1. लोकसभा में, न्यूनतम संख्या वाले लोग कोरम रखने के लिए पर्याप्त हैं, यानी कुल सदस्यता का $1/10^{\text{वां}}$ संसदीय दल के रूप में मान्यता प्राप्त है।
2. राज्यसभा में, कम से कम 30 सदस्यों वाले लोगों को संसदीय समूह के रूप में मान्यता दी गई थी।

Options :

1. ✓ केवल 1

2. ✗ केवल 2

3. ✗ 1 और 2 दोनों

4. ✗ दिए गए विकल्पों में से कोई नहीं

Question Number : 190 Question Id : 16794319780 Question Type : MCQ Option Shuffling : Yes Display Question Number : Yes
Single Line Question Option : No Option Orientation : Vertical

Correct Marks : 1 Wrong Marks : 0.25

The Constitution (52nd amendment) Act which added the Tenth Schedule, is commonly known as:

Options :

1. ✗ Protection of Civil Rights Act

2. ✗ Schedule Castes and the Scheduled Tribes (Prevention of Atrocities) Act

3. ✓ Anti-Defection Law

4. ✗ National Commission for Scheduled Castes

Question Number : 190 Question Id : 16794319780 Question Type : MCQ Option Shuffling : Yes Display Question Number : Yes
Single Line Question Option : No Option Orientation : Vertical

Correct Marks : 1 Wrong Marks : 0.25

संविधान (52वां संशोधन) अधिनियम जिसमें दसवीं अनुसूची शामिल है। इसे आमतौर पर क्या कहा जाता है?

Options :

1. ✗ नागरिक अधिकार अधिनियम का संरक्षण

2. ✗ अनुसूचित जाति और अनुसूचित जनजाति (अत्याचार रोकथाम) अधिनियम

3. ✓ विरोधी दल-बदल कानून

4. ✗ अनुसूचित जाति के लिए राष्ट्रीय आयोग

Sub-Section Number:

2

Sub-Section Id:

1679431260

Question Shuffling Allowed :

Yes

Question Number : 191 Question Id : 16794319781 Question Type : MCQ Option Shuffling : Yes Display Question Number : Yes
Single Line Question Option : No Option Orientation : Vertical

Correct Marks : 1 Wrong Marks : 0.25

Speech and language skills are a part of:

Options :

1. ☒ early childhood learning
2. ☐ cognitive learning
3. ☐ psycho motor skills
4. ☐ practice sessions

Question Number : 191 Question Id : 16794319781 Question Type : MCQ Option Shuffling : Yes Display Question Number : Yes
Single Line Question Option : No Option Orientation : Vertical

Correct Marks : 1 Wrong Marks : 0.25

भाषण और भाषा कौशल का एक हिस्सा हैं:

Options :

1. ☒ प्रारंभिक बचपन की शिक्षा
2. ☐ संज्ञानात्मक सीखना
3. ☐ साइको मोटर कौशल
4. ☐ अभ्यास सत्र

Question Number : 192 Question Id : 16794319782 Question Type : MCQ Option Shuffling : Yes Display Question Number : Yes
Single Line Question Option : No Option Orientation : Vertical

Correct Marks : 1 Wrong Marks : 0.25

Constant change in society is expected by:

Options :

1. ☐ anonymous people
2. ☐ strangers
3. ☐ children
4. ☒ citizens

Question Number : 192 Question Id : 16794319782 Question Type : MCQ Option Shuffling : Yes Display Question Number : Yes
Single Line Question Option : No Option Orientation : Vertical

Correct Marks : 1 Wrong Marks : 0.25

समाज में लगातार परिवर्तन की उम्मीद है:

Options :

1. ✖ बेनामी लोग
2. ✖ अनजाना अनजानी
3. ✖ बच्चे
4. ✔ नागरिक

Question Number : 193 Question Id : 16794319783 Question Type : MCQ Option Shuffling : Yes Display Question Number : Yes
Single Line Question Option : No Option Orientation : Vertical

Correct Marks : 1 Wrong Marks : 0.25

Electronic learning comes under

Options :

1. ✔ Distance learning
2. ✖ E-learning
3. ✖ IT learning
4. ✖ Traditional learning

Question Number : 193 Question Id : 16794319783 Question Type : MCQ Option Shuffling : Yes Display Question Number : Yes
Single Line Question Option : No Option Orientation : Vertical

Correct Marks : 1 Wrong Marks : 0.25

इलेक्ट्रॉनिक शिक्षा निम्नानुसार है:

Options :

1. ✔ दूर - शिक्षण
2. ✖ ई-लर्निंग
3. ✖ आईटी शिक्षा
4. ✖ पारंपरिक शिक्षा

Question Number : 194 Question Id : 16794319784 Question Type : MCQ Option Shuffling : Yes Display Question Number : Yes
Single Line Question Option : No Option Orientation : Vertical

Correct Marks : 1 Wrong Marks : 0.25

Notations, symbols, graphs are a part of:

Options :

1. ☒ Mathematical terminology
2. ☐ Technical education
3. ☐ Scientific terminology
4. ☐ All the given options

Question Number : 194 Question Id : 16794319784 Question Type : MCQ Option Shuffling : Yes Display Question Number : Yes
Single Line Question Option : No Option Orientation : Vertical

Correct Marks : 1 Wrong Marks : 0.25

नोटेशन, प्रतीक, ग्राफ का एक हिस्सा हैं:

Options :

1. ☒ गणितीय शब्दावली
2. ☐ तकनीकी शिक्षा
3. ☐ वैज्ञानिक शब्दावली
4. ☐ दिए गए विकल्पों में से सभी

Question Number : 195 Question Id : 16794319785 Question Type : MCQ Option Shuffling : Yes Display Question Number : Yes
Single Line Question Option : No Option Orientation : Vertical

Correct Marks : 1 Wrong Marks : 0.25

Eradicating pay gaps and increasing the chances of women's work force is possible only through:

Options :

1. ☒ girls' education
2. ☐ special syllabus to girls
3. ☐ government policies
4. ☐ None of the given options

Question Number : 195 Question Id : 16794319785 Question Type : MCQ Option Shuffling : Yes Display Question Number : Yes
Single Line Question Option : No Option Orientation : Vertical

Correct Marks : 1 Wrong Marks : 0.25

वेतन अंतराल को खत्म करना और महिलाओं की कार्यबल की संभावनाओं को बढ़ाने के माध्यम से केवल संभव है:

Options :

1. ☒ लड़की शिक्षा
2. ☐ लड़कियों के लिए विशेष पाठ्यक्रम
3. ☐ सरकारी नीतियां
4. ☐ उपर्युक्त में से कोई नहीं

Question Number : 196 Question Id : 16794319786 Question Type : MCQ Option Shuffling : Yes Display Question Number : Yes
Single Line Question Option : No Option Orientation : Vertical

Correct Marks : 1 Wrong Marks : 0.25

Learning and education are:

Options :

1. ☐ similar terms
2. ☒ distinct terms
3. ☐ parallel ways
4. ☐ not comparable

Question Number : 196 Question Id : 16794319786 Question Type : MCQ Option Shuffling : Yes Display Question Number : Yes
Single Line Question Option : No Option Orientation : Vertical

Correct Marks : 1 Wrong Marks : 0.25

सीखना और शिक्षा है:

Options :

1. ☐ इसी तरह की शर्तें
2. ☒ अलग शर्तें
3. ☐ समानांतर तरीके
4. ☐ तुलनीय नहीं

Question Number : 197 Question Id : 16794319787 Question Type : MCQ Option Shuffling : Yes Display Question Number : Yes
Single Line Question Option : No Option Orientation : Vertical

Correct Marks : 1 Wrong Marks : 0.25

Integrated text books for Language, Maths and Environmental Studies, as part of integration of arts, were developed for the first time in:

Options :

1. ☒ Assam
2. ☐ Arunachal Pradesh
3. ☐ Kerala
4. ☐ Uttar Pradesh

Question Number : 197 Question Id : 16794319787 Question Type : MCQ Option Shuffling : Yes Display Question Number : Yes
Single Line Question Option : No Option Orientation : Vertical

Correct Marks : 1 Wrong Marks : 0.25

भाषा गणित और पर्यावरण अध्ययन के लिए एकीकृत पाठ्य पुस्तकें, कला का एकीकरण पहली बार विकसित किया गया था:

Options :

1. ☒ असम में
2. ☐ अरुणाचल प्रदेश में
3. ☐ केरल में
4. ☐ उत्तर प्रदेश में

Question Number : 198 Question Id : 16794319788 Question Type : MCQ Option Shuffling : Yes Display Question Number : Yes
Single Line Question Option : No Option Orientation : Vertical

Correct Marks : 1 Wrong Marks : 0.25

Picnics to parks comes under:

Options :

1. ☒ Environmental knowledge
2. ☐ Foundations of education
3. ☐ Formal Education
4. ☐ Non Formal Education

Question Number : 198 Question Id : 16794319788 Question Type : MCQ Option Shuffling : Yes Display Question Number : Yes
Single Line Question Option : No Option Orientation : Vertical

Correct Marks : 1 Wrong Marks : 0.25

पार्क के लिए पिकनिक निम्नानुसार आता है:

Options :

1. ☒ पर्यावरण ज्ञान
2. ☐ शिक्षा की नींव
3. ☐ औपचारिक शिक्षा
4. ☐ अनौपचारिक शिक्षा

Question Number : 199 Question Id : 16794319789 Question Type : MCQ Option Shuffling : Yes Display Question Number : Yes
Single Line Question Option : No Option Orientation : Vertical

Correct Marks : 1 Wrong Marks : 0.25

Teaching about solar power comes under

Options :

1. ☒ Environmental awareness
2. ☐ Social Studies
3. ☐ Power saving techniques
4. ☐ Practical education

Question Number : 199 Question Id : 16794319789 Question Type : MCQ Option Shuffling : Yes Display Question Number : Yes
Single Line Question Option : No Option Orientation : Vertical

Correct Marks : 1 Wrong Marks : 0.25

सौर ऊर्जा के बारे में शिक्षण निम्नानुसार आता है:

Options :

1. ☒ पर्यावरण के प्रति जागरूकता
2. ☐ सामाजिक अध्ययन
3. ☐ बिजली की बचत तकनीकें
4. ☐ व्यावहारिक शिक्षा

Question Number : 200 Question Id : 16794319790 Question Type : MCQ Option Shuffling : Yes Display Question Number : Yes
Single Line Question Option : No Option Orientation : Vertical

Correct Marks : 1 Wrong Marks : 0.25

Clinical and support staff are integral members of:

Options :

1. ☒ Inclusive schools
2. ☐ Special schools
3. ☐ Integrated schools
4. ☐ Corporate schools

Question Number : 200 Question Id : 16794319790 Question Type : MCQ Option Shuffling : Yes Display Question Number : Yes
Single Line Question Option : No Option Orientation : Vertical

Correct Marks : 1 Wrong Marks : 0.25

नैदानिक और सहायक स्टाफ के अभिन्न सदस्य हैं:

Options :

1. ☒ समावेशी स्कूल
2. ☐ विशेष स्कूल
3. ☐ एकीकृत स्कूल
4. ☐ कॉर्पोरेट स्कूल